

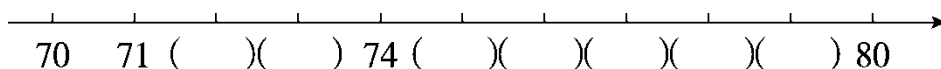
## 期中跟踪检测卷

一、填一填。(3题4分,其余每空1分,共19分)

1. 至少要( )个相同的正方形才能拼成一个长方形,至少要( )个相同的正方形才能拼成一个较大的正方形。

2. 40前面一个数是( ),后面一个数是( )。

3. 按顺序填数。



上面所填的数中,( )最接近80。

4. 比15少6的数是( ),38比30多( )。

5. 一个两位数,个位上的数是6,十位上的数是8,这个数是( )。

6. 69是一个( )位数,它添上1是( )。

7. 在○里填上“>”“<”或“=”。

$$15 - 7 \bigcirc 9 \quad 45 - 5 \bigcirc 50 \quad 57 - 50 \bigcirc 5$$

$$4 + 8 \bigcirc 13 \quad 7 + 60 \bigcirc 76 \quad 12 - 5 \bigcirc 7$$

二、选一选。(把正确答案的序号填在括号里)(每题2分,共10分)

1. 66和72之间有( )个数。

- ① 5      ② 6      ③ 7

2. 至少要( )根同样的小棒才能拼成一个长方形。

- ① 4      ② 6      ③ 8

3. 以下三个数中,( )最接近70。

- ① 59      ② 67      ③ 72

4. 90比28(    ), 28比30(    )。

- ① 多得多      ② 多一些      ③ 少一些

5. 与  $13 - 6$  的结果相同的算式是(    )。

- ①  $12 - 6$       ②  $15 - 9$       ③  $14 - 7$


### 三、计算挑战。(共21分)

1. 看谁算得又对又快。(每题1分,共9分)

$74 - 4 =$        $5 + 40 =$        $98 - 8 =$

$30 + 8 =$        $83 - 3 =$        $49 - 40 =$

$56 - 50 =$        $60 + 7 =$        $4 + 30 =$


2. 在  里填上合适的数。(每题2分,共12分)

  $+ 10 = 80$        $32 +$    $= 39$        $63 -$    $= 60$

  $- 20 = 23$        $88 -$    $= 8$         $+ 34 = 38$

### 四、我会按要求解题。(共18分)

1. 我会分类。(填序号)(8分)

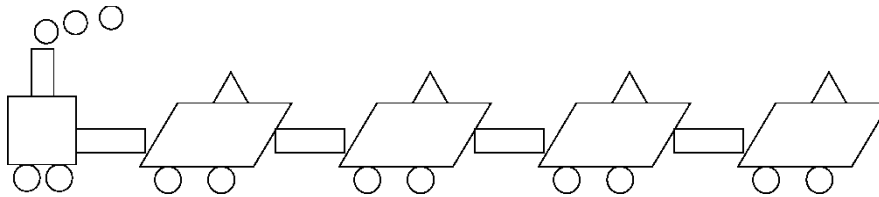




2. 用4个○能表示哪些不同的数?(5分)

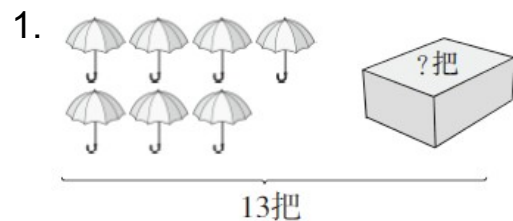
十位	个位	组成的数

3. 我会数。(每空1分,共5分)



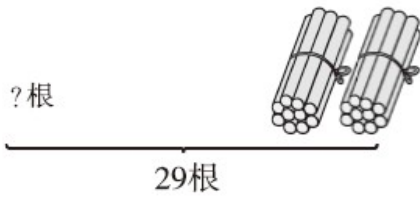
	正方形	长方形	平行四边形	三角形	圆
个数(个)					

五、看图列式计算。(每题3分,共6分)



$$\square \bigcirc \square = \square \text{ (把)}$$


2.



$$\square \bigcirc \square = \square \text{ (根)}$$

六、走进生活，解决问题。(5题6分，其余每题5分，共26分)

1. 兔子兄弟俩今天一共要采15个蘑菇。



2. 树上原来有34个桃，小猴摘下了4个桃。



3. 虾比螃蟹多多少只?



---

4. 28 个茶杯，4 个装一盒，能装满几盒？



5. 投篮比赛。



(1) 乐乐投了多少分？

(2) 优优比乐乐少投了多少分？

---

## 答案

一、1. 2 4

2. 39 41

3. 72 73 75 76 77 78 79 79

4. 9 8 5. 86 6. 两 70

7. < < > < < =

二、1. ① 2. ② 3. ③ 4. ① ③ 5. ③

三、1. 70 45 90

38 80 9

6 67 34

2. 70 7 3 43 80 4

四、1. 

生活用品
④ ⑦

学习用品
① ③

交通工具
② ⑤ ⑥ ⑧

2.

十位	个位	组成的数
○○○○		40
○○○	○	31
○○	○○	22
○	○○○	13
	○○○○	4

[点拨]注意有顺序思考。

3.

	正方形	长方形	平行四边形	三角形	圆
个数					
(个)	1	5	4	4	13

五、 $1.13 - 7 = 6$

2.  $29 - 20 = 9$

六、 $1.15 - 8 = 7(\text{个})$

口答：我还要采 7 个蘑菇。

2.  $34 - 4 = 30(\text{个})$

口答：树上还有 30 个桃。

3.  $13 - 5 = 8(\text{只})$

口答：虾比螃蟹多 8 只。

4.  $28 \longrightarrow 24 \longrightarrow 20 \longrightarrow 16 \longrightarrow 12 \longrightarrow 8 \longrightarrow 4 \longrightarrow 0$

口答：能装满 7 盒。

5. (1)  $30 + 4 = 34(\text{分})$

口答：乐乐投了 34 分。

(2)  $34 - 30 = 4(\text{分})$

口答：优优比乐乐少投了 4 分。