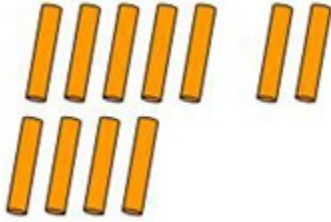


2.11 十几减9

一、想一想，填一填。



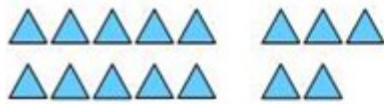
$9 + 2 = \square$

$9 + \square = \square$

$11 - 9 = \square$

$\square - 9 = \square$

二、圈一圈，算一算。



$15 - 9 = \square$

$18 - 9 = \square$

三、算一算。

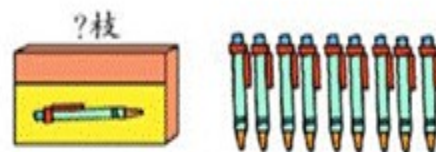
$11 - 9 =$ $14 - 9 =$ $15 - 9 =$ $17 - 9 =$

$11 - 1 - 8 =$ $14 - 4 - 5 =$ $15 - 5 - 4 =$ $17 - 7 - 2 =$

四、看图列算式。













$\square \bigcirc \square = \square \text{ (个)}$




$\square \bigcirc \square = \square \text{ (枝)}$


五、跳木桩。

	$11 - 9 =$	$13 - 9 =$	$15 - 9 =$	17
	$- 9 =$			 
	$12 - 9 =$	$14 - 9 =$	$16 - 9 =$	18
	$- 9 =$			 

六、解决问题。


1. 小明买这本书还差多少钱？

 我只有9元。

 15元

小明

2. 小兔要采 16 个蘑菇。

 我采了9个，还要采几个？

答案：

一、11 2 4 13 13 4

二、6 9

三、2 5 6 8 2 5 6 8

四、 $17 - 9 = 8$ (个) $14 - 9 = 5$ (枝)

五、2 4 6 8 3 5 7 9

六、1. $15 - 9 = 6$ (元) 2. $16 - 9 = 7$ (个)