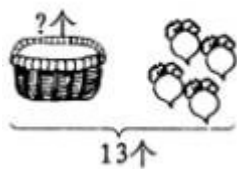


④最大的数是（ ），最小的数是（ ）。

四、看图列式计算。



$$\square \circ \square = \square \text{ (个)}$$

五、上下两个数，先算加，再算减。

	8	12	13	7	9	11
	7	3	5	5	4	2
和						
差						



六、计算。

$$13 - 5 - 5 = \quad 9 + 4 - 8 = \quad 11 - 4 + 8 =$$

$$8 + 6 + 5 = \quad 16 - 8 - 4 = \quad 5 + 7 - 4 =$$

$$16 - 7 - 9 = \quad 14 - 9 + 5 = \quad 15 - 2 - 7 =$$

七、应用题。

- (1) 飞机场上午和下午一共起飞 12 架 ，上午起飞 7 架，下午起飞多少架？
- (2) 图画小组一共有 15 人，男生有 8 人，女生有多少人？
- (3) 小明吃了 9 个 ，还剩 7 个，小明家一共有多少个苹果？
- (4) 第一小组有 8 人，第二小组的人数与第一小组同样多，两组共有多少人？
- (5) “六一”儿童节一年级有 13 个节目要表演，已经表演了 8 个节目，还要表演几个节目？

参考答案

一、 13；14；13；11；12；14；8；9；9；8；9；12

二、 > ; > ; < ; < ; < ; <

三、 (1) 7、8、10、11、14、15、16、18

(2) 14

(3) ①8 ②4 ③2 ④19, 2

四、 $13-4=9$ (个)

五、

	8	12	13	7	9	11
	7	3	5	5	4	2
和	15	15	18	12	13	13
差	1	9	8	2	5	9

六、 3 ; 5 ; 15 ; 19 ; 4 ; 8 ; 0 ; 10 ; 6

七、 (1) 5架 (2) 7人 (3) 16个 (4) 16人 (5) 5个