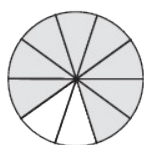


## 第7单元跟踪检测卷

一、填一填。(4题2分,6题4分,其余每空1分,共24分)

1. 在括号里填上合适的小数。



( )



( )



( )元

2. “神舟十号”飞船飞行的速度约是每秒七点九千米。七点九写作：( )

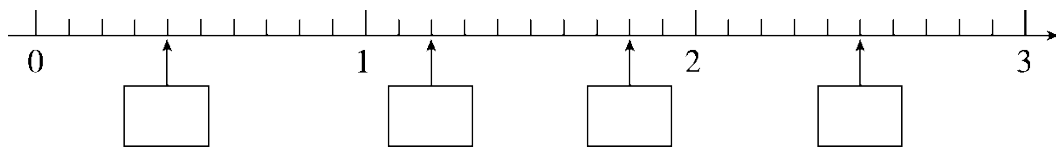
我国的“天宫一号”空间实验室全长 10.4 米，重 8.5 吨。

10.4 读作：( )      8.5 读作：( )

3. 比 0.6 大又比 0.9 小的一位小数是( )和( )。

4. 课桌高 7 分米，写成分数是米，写成小数是( )米。

5. 在框里写出合适的小数。



6. 在( )里填上合适的数。

0.5 元 = ( )角

3 元 8 角 = ( )元

---

6分米=( )米

5.4元=( )元( )角

7. 在○里填上“>”“<”或“=”。

1.8○1.9

4.5○5.4

2元○2.0元

○0.3

1○

6.5米○6米5厘米

二、辨一辨。(对的画“√”，错的画“×”)(每题1分，共5分)

1. 爸爸身高178厘米，写成小数是1.78米。 ( )

2. 整数一定比小数大。 ( )

3. 列竖式计算小数加减法时，要将小数点对齐。 ( )

4. 大于0.1而小于0.9的小数有7个。 ( )

5. 0.60读作零点六。 ( )

三、选一选。(把正确答案的序号填在括号里)(每题2分，共10分)

1. 6.1在哪两个相邻整数之间？正确答案是( )。

A. 5和6

B. 6和7

C. 5和7

2. 在小数3.007, 0.50, 4.20, 3.080, 0.04中，读两个零的有( )个。

A. 2

B. 3

C. 4

3. 用数字5、3、1和小数点，组成下面三个小数，其中最大的数是

---

( )。

A . 35.1

B . 31.5

C . 15.3

4 . 聪聪做作业用了 0.4 小时，明明做同样多的作业用了 0.5 小时，( )做得快。

A . 聪聪

B . 明明

C . 不确定谁

5 .  $9.\square > 9.6$ ， $\square$ 里可以填( )。

A . 0~5

B . 6~9

C . 7~9

#### 四、计算挑战。(共 24 分)

1 . 直接写出得数。(每题 1 分，共 6 分)

$0.3 + 0.5 =$

$1.2 + 0.6 =$

$3.8 + 1.3 =$

$4.4 - 1.2 =$

$5.0 - 0.8 =$

$9.8 - 0.9 =$

2 . 列竖式计算。(每题 3 分，共 18 分)

$5.6 + 2.1 =$

$10 - 4.6 =$

$1.8 + 4.9 =$

$9.7 - 2.3 =$

$3.5 - 2.9 =$

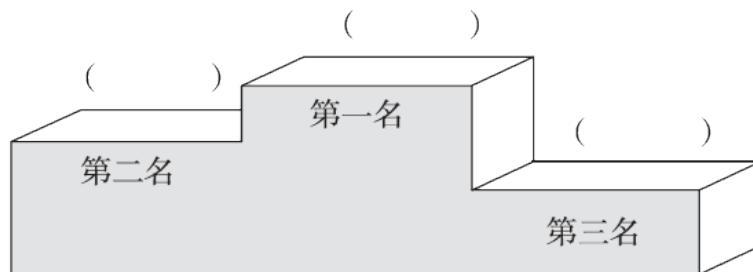
$15.2 + 0.9 =$

---

五、我会比较。(3分)

下面是百米赛跑前四名同学的成绩，请把前三名同学的名字写到领奖台上方的括号里。

姓名	成绩/秒
张博	15.9
佟思远	16.1
赵一明	15.3
李思宇	14.6



六、走进生活，解决问题。(1、2题每题5分，3、4题每题6分，5题12分，共34分)


1. 2017年5月5日，我国自主研发的C919飞机试飞成功，它的机身长38.9米。更大的飞机C929已经开始研制，比C919的机身

---

长 24.3 米。C929 的机身长多少米？



2. 绑完树苗和修完篱笆后，还剩下多少米绳子？



3. 王叔叔今天比张叔叔停车多花了 3.7 元。两位叔叔今天停车一共

花了多少元？



---

4. 小动物过河。



限载1.2吨



0.1吨



0.5吨



0.3吨



1.1吨

(1) ( )能和象一起坐船。

(2) 如果它们想同时过河，那么至少需要几条船？

5. 华彩文具店周年庆，所有文体用品降价促销。



原价：35.8元  
现价：32.9元



原价：5.2元  
现价：4.8元



原价：7.5元  
现价：5.8元



原价：12.4元  
现价：9.9元

(1) 小雨有50元钱，买了一个书包，剩下的钱可以买一支钢笔和一根跳绳吗？

(2) 现在买一个毽子和一根跳绳，一共可以便宜多少钱？

---

(3)你还能提出其他数学问题并解答吗？

---

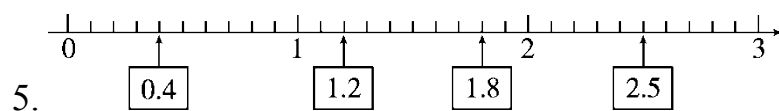
## 答案

一、1. 0.8 1.9 50.7

2. 7.9 十点四 八点五

3. 0.7 0.8 [点拨] 此题要填的是一位小数，因此，只有0.7和0.8。

4. 0.7



6. 5 3.8 0.6 5 4

7. < < = = > >

二、1.√ 2.× 3.√ 4.× 5.×

三、1.B 2.C 3.A 4.A 5.C

四、1.0.8 1.8 5.1 3.2 4.2 8.9

$$2. 5.6 + 2.1 = 7.7$$

$$10 - 4.6 = 5.4$$

$$\begin{array}{r} 5.6 \\ + 2.1 \\ \hline 7.7 \end{array}$$

$$\begin{array}{r} 10.0 \\ - 4.6 \\ \hline 5.4 \end{array}$$

$$1.8 + 4.9 = 6.7$$

$$9.7 - 2.3 = 7.4$$

$$\begin{array}{r} 1.8 \\ + 4.9 \\ \hline 6.7 \end{array}$$

$$\begin{array}{r} 9.7 \\ - 2.3 \\ \hline 7.4 \end{array}$$

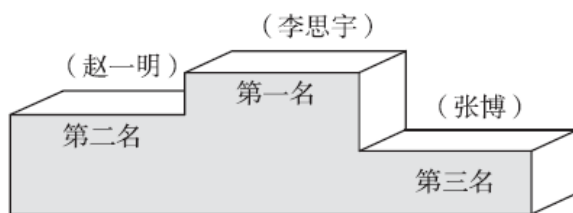
$$3.5 - 2.9 = 0.6$$

$$15.2 + 0.9 = 16.1$$

$$\begin{array}{r} 3.5 \\ - 2.9 \\ \hline 0.6 \end{array}$$

$$\begin{array}{r} 15.2 \\ + 0.9 \\ \hline 16.1 \end{array}$$

五、



六、1.  $38.9 + 24.3 = 63.2$ (米)

答：C929的机身长63.2米。

2.  $10.8 - 4.8 - 3.5 = 2.5$ (米)

答：还剩下2.5米绳子。

3.  $10.5 - 3.7 + 10.5 = 17.3$ (元)

答：两位叔叔今天停车一共花了17.3元。

4. (1)猪

(2)  $1.1 + 0.1 = 1.2$ (吨)  $0.5 + 0.3 = 0.8$ (吨)

$1 + 1 = 2$ (条) 答：至少需要2条船。

---

5 . (1) $50 - 32.9 = 17.1(\text{元})$

$$9.9 + 5.8 = 15.7(\text{元}) \quad 17.1 > 15.7$$

答：剩下的钱可以买一支钢笔和一根跳绳。

[点拨]因为所有文体用品降价促销，所以都按现价去计算。

(2) $7.5 - 5.8 = 1.7(\text{元}) \quad 5.2 - 4.8 = 0.4(\text{元})$

$$1.7 + 0.4 = 2.1(\text{元})$$

答：一共可以便宜 2.1 元。

(3)(答案不唯一)现在买一个书包和一支钢笔，一共要花多少钱？

$$32.9 + 9.9 = 42.8(\text{元})$$

答：一共要花 42.8 元。