

## 第三单元检测

一、下面哪些图形是轴对称图形?画“○”。



( )



( )



( )




( )



( )



( )



( )




( )

二、是平移现象的画“○”,是旋转现象的画“□”。



( )



( )



( )



( )



( )



( )





( )



( )

三、下面第一行的图形分别是哪张纸上剪下来的?连一连。



四、想一想,填一填。

1.如果一个图形沿一条直线对折后,折痕两侧的部分能够完全重合,这个图形就是( )图形,折痕所在的这条直线叫做( )。

2.风扇扇叶的转动是( )现象;推箱子是( )现象。

3.数字和汉字是我们生活中离不开的“朋友”,仔细观察,可以发现一些有对称特征的数字和汉字,请按要求写一写。

(1)写出三个具有对称特征的数字:( )

(2)写出三个具有对称特征的汉字:( )

4.下面呈现出字的一半,你能写出这些字吗?




( )



( )

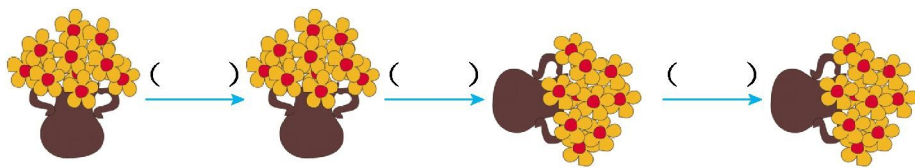


( )

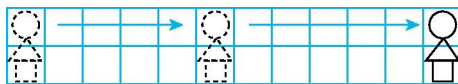


( )

5.根据图中物体的运动现象,填“平移”或“旋转”。



6.格子里的图案是怎样运动的?



先向( )平移( )格,再向( )平移( )格。

五、我来判一判。(对的画“□”,错的画“×”)

1.每个图形都至少有一条对称轴。 ( )

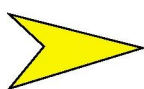
2.升国旗时,国旗的运动是旋转现象。 ( )

3.汽车在公路上行驶,车轮的运动是旋转现象,车身的运动是平移现象。

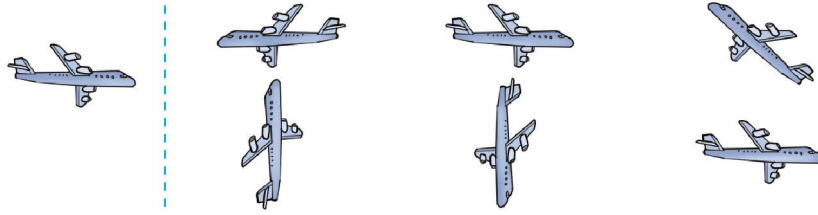
( )

4.  从镜子中看到的样子是  。 ( )

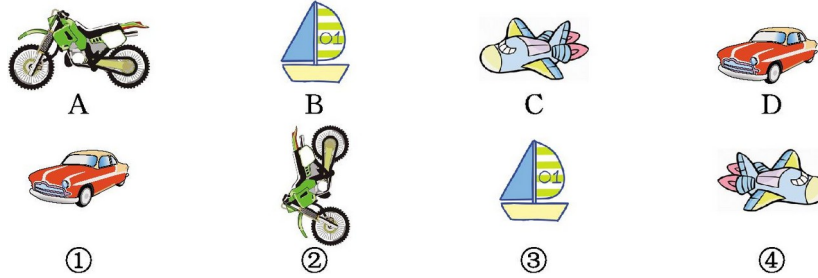
5.下面这些图形都是轴对称图形。 ( )



六、右面哪几架飞机通过平移可以和左面这架飞机重合?请圈出来。



七、看一看,填一填。



通过平移能够互相重合的有\_\_\_\_\_;

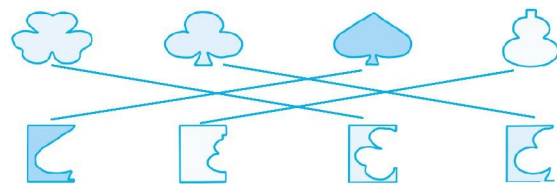
通过旋转能够互相重合的有\_\_\_\_\_。

### 参考答案

一、(○) ( ) (○) ( ) (○) (○) (○) (○)

二、○ □ □ □ ○ ○ □ □

三、



四、1.轴对称 对称轴

2.旋转 平移

3.(1)答案不唯一,如:0、3、8

(2)答案不唯一,如:中、王、品

4.日 中 苗 工

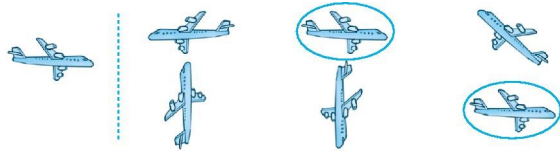
---

5. 平移 旋转 平移

6. 右 5 右 6

五、 1.× 2.× 3.□ 4.× 5.×

六、



七、 (1) B——③ D——① (2) A——② C——④