

期末检测卷

一、填一填。(每空1分,共27分)

1. 一个两位数,个位上是6,十位上是8,这个数是(),读作:()。

2. 7个十是(),与它相邻的数是()和()。

3. 两个一样的正方形可以拼成一个(),两个一样的长方形可以拼成一个()。

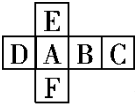

4. 比26多20的数是(),9比35少()。

5. 4元=()角

6元5角=()角

3元+6角=()元()角


48分=()角()分

6. 用  做成一个 , 字母F的对面是(), 字母C的对面是()。

7. 按规律填空。

(1) 99、88、77、()、()、()。

(2) ○ ● ○ ○ ● ○ ○ ○ ● _____ (每空填一个)

8. 在  里填上“>”“<”或“=”。

$43 - 9 \bigcirc 33$

$7 \text{元} 8 \text{分} \bigcirc 78 \text{角}$

$56 + 8 \bigcirc 70$


$6 \text{元} - 4 \text{角} \bigcirc 5 \text{元} 4 \text{角}$

二、辨一辨。(对的画“√”，错的画“×”)(每题1分，共5分)

1.  左图中有3个三角形。 ()

2. 88中的两个8的意义不相同。 ()

3. 10张1角纸币和1枚1元硬币的面值相等。 ()

4.  按此规律排下去，第12个图形是○。 ()

5. 下图都是水果。 ()




三、选一选。(把正确答案的字母填在括号里)(每题2分，共10分)

1. 一瓶果汁卖4()。

A. 分

B. 角

C. 元

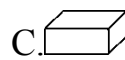
2. 用4个  不能拼成()。

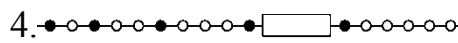
A. 正方形

B. 长方形





C. 圆

3. 下图中不同类的是()。



4. 根据规律，被挡住的部分应有()颗珠子。

- A . 3 B . 4 C . 5

5. 有 89 个，有 28 个，的个数比的个数()。

- A . 多一些 B . 多得多 C . 少得多

四、算一算。(共 27 分)

1 . 口算下面各题。(8 分)

$12 - 7 =$ $16 - 9 =$ $9 + 60 =$ $40 - 4 =$

$87 - 70 =$ $54 - 8 =$ $38 + 9 =$ $14 - 7 =$

2 . 计算下面各题。(12 分)

$34 + 3 + 7 =$ $56 - (3 + 47) =$ $35 + 60 - 70 =$

$86 - 8 - 8 =$ $48 + (11 - 5) =$ $78 - 9 + 6 =$

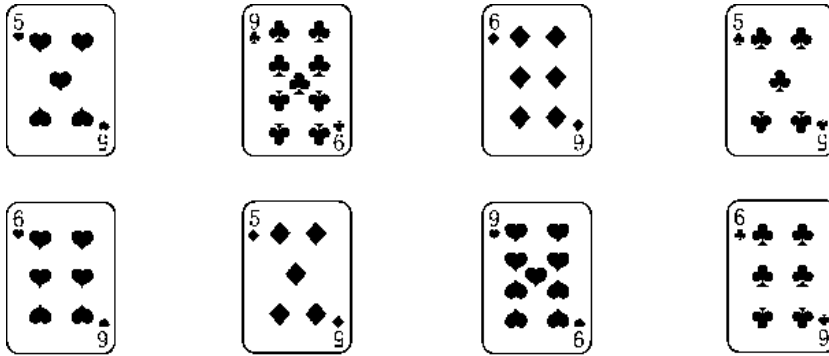
3 . 在()里填上合适的数。(7 分)

$() + 34 = 40$ $62 - () = 50$

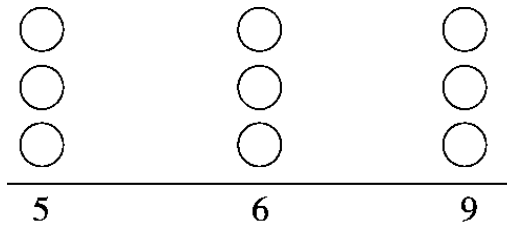
$87 + () = 87 - ()$ $80 + () > 86$

$30 + 40 > ()$ $() - 5 < 38$

五、分类整理。(共 10 分)



1. 按大小分，在下面涂一涂。(3 分)

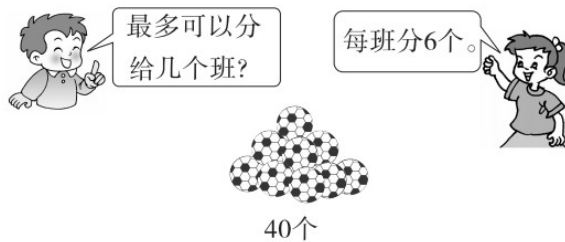


2. 还可以怎样分类？试一试。(4 分)

3. 花色是梅花的牌上面数字的和是多少？(3 分)

六、解决问题。(共 21 分)

1. (4 分)



2. (4分)



我买了20支铅笔。


我买了8支铅笔。



乐乐买的铅笔比丽丽少多少支？

3. 2头大象运走一部分木头后，还剩下多少根木头？(请用两种方法

解答)(4分)



4. 逛超市。(9分)



32元



20元



8元



10元

(1)一个书包比一个足球贵多少元？

(2)红红买了一个布娃娃，付了 20 元钱，应找回多少元？

(3)用 50 元钱正好能买哪三种物品？

答案

一、1.86 八十六

2. 70 69 71

3. 长方形 长方形

4. 46 26

5. 40 65 3 6 4 8

6. E A

7. (1)66 55 44 (2)○ ○ ○

8. > < < >

二、1.× 2.√ 3.√ 4.× 5.×

三、1.C 2.C 3.C 4.B 5.B

四、1.5 7 69 36 17 46 47 7

2. 44 6 25 70 54 75

3. 6 12 0 0 8 60 42

(最后三个空答案不唯一)

五、1.略

2.

花色	红桃	梅花	方块
数量	3张	3张	2张

$$3.9 + 5 + 6 = 20$$

六、1. $40 \rightarrow 34 \rightarrow 28 \rightarrow 22 \rightarrow 16 \rightarrow 10 \rightarrow 4$

最多可以分给 6 个班。

2. $20 - 8 = 12(\text{支})$

3. 方法一： $90 - 30 - 40 = 20(\text{根})$

方法二： $90 - (30 + 40) = 20(\text{根})$

4. (1) $32 - 20 = 12(\text{元})$

(2) $20 - 8 = 12(\text{元})$

(3) $32 + 8 = 40(\text{元})$

$40 + 10 = 50(\text{元})$

正好能买书包、布娃娃、日记本。