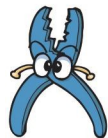


第七单元检测

一、填空题。

1. 读出下面商品的价钱。



12.5 元 9.65 元 30.50 元
()元 ()元 ()元

2. 写出画线的小数。

- (1) 小青的跳远成绩是一点五二米,这个数写作:_____米。
(2) 土星绕太阳转一周需要二十九点四六年,这个数写作:_____年。
(3) 马拉松长跑比赛的赛程约是四十二点一九千米,这个数写作:_____千米。

3. 一根绳子长 4 米,用去 1.6 米,还剩()米。

4. 把 1 千克、0.56 千克、0.6 千克、1 千克 20 克从大到小排列是:

() > () > () > ()

5. (1) 0.57 元表示()元()角()分

(2) 9.87 米表示()米()分米()厘米

(3) 6 元 5 角 = ()元

(4) 1 米 2 分米 = ()米

二、在圆圈里填上“>”“<”或“=”。

0.8 ○ 0.7 0.12 ○ 0.21 0.45 ○ 0.35

2.4 ○ 0.08 0.08 ○ 0.18 2.50 ○ 2.5

三、计算题。

1. 直接写得数。

$$0.5 + 0.4 = \quad 1.4 + 2.7 = \quad 8.2 + 3.7 = \quad 7.5 + 2.4 =$$

$$2.8 - 2.7 = \quad 7.3 + 0.9 = \quad 6.6 + 2.2 = \quad 1.5 + 8.5 =$$

$$7.4 + 1.6 = \quad 7.5 - 6.5 = \quad 3.2 - 2.3 = \quad 0.7 + 8.3 =$$

2. 列竖式计算。

$$0.6 + 2.4 \quad 1.2 + 12.7 \quad 6.3 - 3.9 \quad 4.5 + 2.4$$

$$2.7 + 0.3 \quad 4.5 - 2.6 \quad 3.7 + 1.2 \quad 5.4 - 0.6$$

四、请你当裁判。

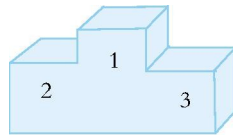
五名学生跳远成绩统计表

姓名	高强	李双	刘威	吴涛	张征
成绩/米	1.55	1.60	1.59	1.62	1.58

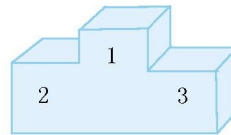
五名学生100米跑成绩统计表

姓名	高强	李双	刘威	吴涛	张征
成绩/秒	15.45	16.88	16.25	16.16	15.58

请你把获得前三名的学生的名字写在领奖台上。



跳远



100米跑

五、解决问题。

1. 下面的商品各便宜了多少钱？

(1)



原价：62.8元
现价：50.5元

(2)



原价：8.4元
现价：6.5元

2. 小亮买一本《童话故事》花了4.6元,又买一本《宇宙探险》花了10.5元。小亮买这两本书一共花了多少钱？

3. 一本《快乐学数学》定价4.5元,一本《数学小灵通》定价2.8元。王鹏有10元钱,他各买了一本,还剩下多少钱？

4. 下表是小明和爸爸定做衣服所用的布料数量。

	上衣	裤子	合计
爸爸	2.4米	1.3米	
小明	1.8米	0.9米	

(1) 请把表格填完整。

(2) 你还可以提出什么数学问题?请解答出来。

参考答案

一、1.十二点五 九点六五 三十点五零

2. (1)1.52 (2)29.46 (3)42.19

3. 2.4

4. 1千克20克 1千克 0.6千克 0.56千克

5. (1)0 5 7 (2)9 8 7 (3)6.5 (4)1.2

二、> < > > < =

三、1.0.9 4.1 11.9 9.9 0.1 8.2 8.8 10 9

1 0.9 9

2.3 13.9 2.4 6.9 3 1.9 4.9 4.8

四、跳远:吴涛第一 李双第二 刘威第三

100米跑:高强第一 张征第二 吴涛第三

五、1. (1) $62.8-50.5=12.3$ (元)

(2) $8.4-6.5=1.9$ (元)

$2.4.6+10.5=15.1$ (元)

$3.4.5+2.8=7.3$ (元) $10-7.3=2.7$ (元)

4. (1)3.7米 2.7米

(2)答案不唯一,如:小明比爸爸少用多少米布?

$3.7-2.7=1$ (米)