

# 期中检测


(时间:60分钟 满分:100分)





## 一、填一填。(6分)



上图中一共有( )个图形。从左边数,长方形排在第( )个,第( )个和第( )个是三角形。从右边数,( )排在第6个,第( )个是圆。

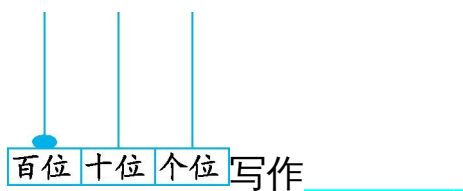
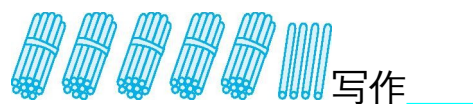
## 二、填一填,连一连。(8分)



1. 家的门牌号是由十个十组成的数。
2. 家的门牌号是个位上的数比十位上的数小5的数。
3. 家的门牌号是由8个十和2个一组成的数。
4. 家的门牌号是两个两个地数,86后面的第五个数。

## 三、按要求完成下列各题。(12分)

1. 写出下列各数。



2. 读出下列各数。

56 读作 \_\_\_\_\_

84 读作 \_\_\_\_\_

99 读作 \_\_\_\_\_

四、在○里填上“>”“<”或“=”。(9分)

45○42

63○93

45○87

29○36

75○88

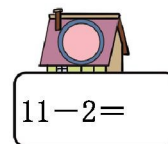
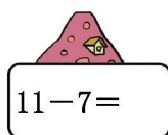

63○69

74○39

36○31

67○72

五、看谁先到家。(9分)



17-8=

14-8=

12-3=

12-4=

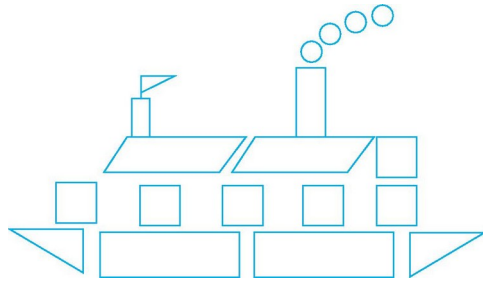
15-9=






13-4=



六、捉蝴蝶。(6分)





 ( )	 ( )
 ( )	 ( )
 ( )	

九、解决问题。(20分)

1. 可以分给( )个人。(4分)



2. 跳走了多少只青蛙?(4分)



$$\square \bigcirc \square = \square \quad ( \quad )$$



3.

(1) 柳树可能有多少棵?(画“√”) (3分)

45 棵	81 棵	18 棵

(2) 杨树比松树多多少棵? (3分)

$$\square \bigcirc \square = \square \quad ( \quad )$$

(3) 松树比杨树少多少棵? (3分)

$$\square \bigcirc \square = \square \quad ( \quad )$$

(4) 你能提出个数学问题并解答吗? (3分)

$$\square \bigcirc \square = \square \quad ( \quad )$$

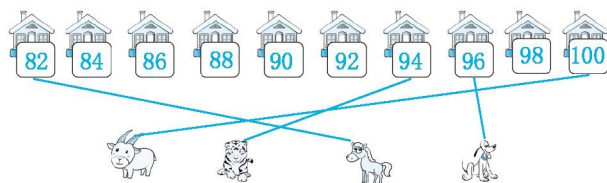
十、写一写。(10分)



个位上和十位上的数合起来是9的两位数，可能是多少?

期中检测答案

一、6 3 2 4 平行四边形 2



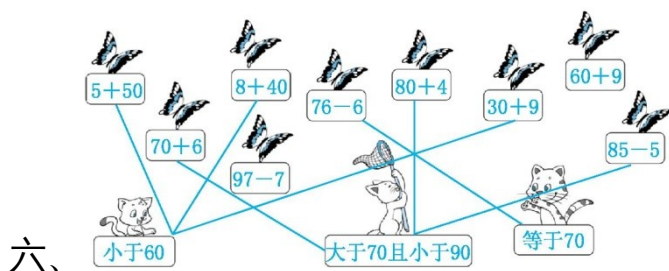
二、

三、1. 36 54 100

2. 五十六 八十四 九十九

四、> < < < < < > > <

五、4 4 9 9 6 9 8 6 9



六、

七、1. 略

2. 可以按红、黄两种颜色区分,如图

颜色	红	黄
个数	9	10

八、

□ (4)	△ (3)
□ (6)	○ (4)
▱ (2)	

九、1. 6

2.  $38-5=33$ (只)

3. (1) 略

(2) $16-7=9$ (棵) (3) $16-7=9$ (棵)

(4)如:柏树比松树多多少棵? $13-7=6$ (棵)

十、90 81 72 63 54 45 36 27 18