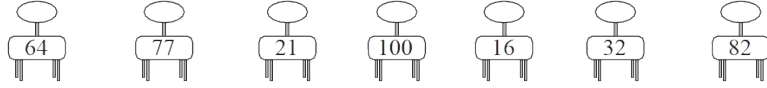








## 第六单元达标测试卷

### 一、找座位。(连一连)(7分)






### 二、我会算。(1、2题各15分，3题10分，共40分)

#### 1. 小动物回家。

		
<input data-bbox="405 1048 539 1084" type="text" value="53-50="/>	<input data-bbox="715 1048 849 1084" type="text" value="76-4="/>	<input data-bbox="1021 1048 1155 1084" type="text" value="36+8="/>
<input data-bbox="405 1115 539 1151" type="text" value="90-6="/>	<input data-bbox="715 1115 849 1151" type="text" value="32+60="/>	<input data-bbox="1021 1115 1155 1151" type="text" value="40+13="/>
<input data-bbox="405 1182 539 1218" type="text" value="22+50="/>	<input data-bbox="715 1182 849 1218" type="text" value="81-7="/>	<input data-bbox="1021 1182 1155 1218" type="text" value="8+42="/>
<input data-bbox="405 1249 539 1285" type="text" value="25+3="/>	<input data-bbox="715 1249 849 1285" type="text" value="83-70="/>	<input data-bbox="1021 1249 1155 1285" type="text" value="56-20="/>
<input data-bbox="405 1317 539 1352" type="text" value="7+43-2="/>	<input data-bbox="715 1317 849 1352" type="text" value="50+29-3="/>	<input data-bbox="1021 1317 1155 1352" type="text" value="73-(20+40)="/>
		

#### 2. 开火车。

	+5	<input data-bbox="580 1590 641 1671" type="text"/>	+20	<input data-bbox="708 1590 769 1671" type="text"/>	+4	<input data-bbox="836 1590 896 1671" type="text"/>	+10	<input data-bbox="963 1590 1024 1671" type="text"/>	-40	<input data-bbox="1091 1590 1152 1671" type="text"/>
	+8	<input data-bbox="580 1702 641 1783" type="text"/>	+8	<input data-bbox="708 1702 769 1783" type="text"/>	+8	<input data-bbox="836 1702 896 1783" type="text"/>	+8	<input data-bbox="963 1702 1024 1783" type="text"/>	+8	<input data-bbox="1091 1702 1152 1783" type="text"/>
	-9	<input data-bbox="580 1814 641 1895" type="text"/>	-9	<input data-bbox="708 1814 769 1895" type="text"/>	-9	<input data-bbox="836 1814 896 1895" type="text"/>	-9	<input data-bbox="963 1814 1024 1895" type="text"/>	-9	<input data-bbox="1091 1814 1152 1895" type="text"/>

#### 3. 算出每张卡片上两个数的和与差。

$$\begin{array}{|c|} \hline 56 \\ \hline 30 \\ \hline \end{array}$$

$$\begin{array}{|c|} \hline 43 \\ \hline 8 \\ \hline \end{array}$$

$$\begin{array}{|c|} \hline 64 \\ \hline 6 \\ \hline \end{array}$$

$$\begin{array}{|c|} \hline 55 \\ \hline 7 \\ \hline \end{array}$$

$$\begin{array}{|c|} \hline 38 \\ \hline 9 \\ \hline \end{array}$$

和：\_\_\_\_\_ 和：\_\_\_\_\_ 和：\_\_\_\_\_ 和：\_\_\_\_\_ 和：\_\_\_\_\_

差：\_\_\_\_\_ 差：\_\_\_\_\_ 差：\_\_\_\_\_ 差：\_\_\_\_\_ 差：\_\_\_\_\_

### 三、下面的计算对吗？把不对的改正过来。(6分)

$25 + 8 = 23$  ( ) 改正：\_\_\_\_\_

$53 + 4 = 93$  ( ) 改正：\_\_\_\_\_

$37 - 5 = 22$  ( ) 改正：\_\_\_\_\_

$42 - 7 = 45$  ( ) 改正：\_\_\_\_\_

$36 - (6 - 5) = 25$  ( ) 改正：\_\_\_\_\_

$50 - (7 + 3) = 30$  ( ) 改正：\_\_\_\_\_

### 四、把算式按得数大小排一排。(6分)

$$53 - 9$$

$$48 + 4$$

$$82 - 8$$

$$7 + 65$$

$$73 - 30$$

$$95 - 50$$

( ) > ( ) > ( ) > ( ) > ( ) > ( )

### 五、在□里填上合适的数。(7分)

$$38 + \square = 44$$

$$\square - 30 = 27$$

$$35 + \square = 35 - \square$$

$$20 + 30 > \square$$

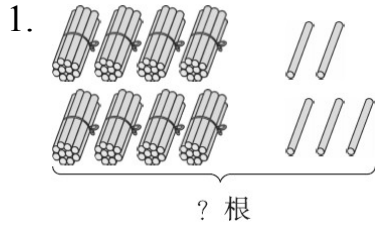
$$\square - 9 < 39$$

$$\square + 8 > 25$$

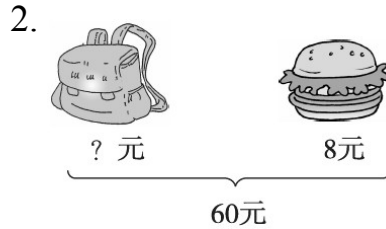
### 六、芳芳要送多少个给丽丽，她们的灯笼才同样多？(5分)



七、看图列式。(每题 2 分, 共 4 分)




$$\square \bigcirc \square = \square \quad ( \quad )$$



$$\square \bigcirc \square = \square \quad ( \quad )$$

八、解决问题。(3 题 7 分, 其余每题 6 分, 共 25 分)

1. 聪聪买这件上衣付给售货员 90 元, 找回来 8 元, 这件上衣多少钱



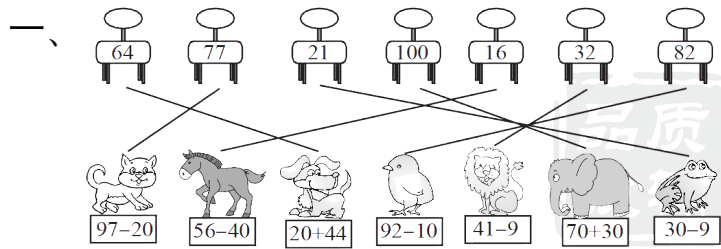
妈妈准备了 3 盘苹果, 每盘 7 个, 一共有多少个苹果?

3. 一(1)班 28 人, 一(2)班 30 人, 一(3)班 35 人。哪两个班的学生可以一起乘车?



4. 体育室一共有 94 根跳绳, 其中黄色 40 根, 上周借给一年级 30 根, 体育室还有多少根跳绳?

答案



二、1. 3 84 72 28 48

72 92 74 13 76

44 53 50 36 13

2. 35 55 59 69 29

29 37 45 53 61

72 63 54 45 36

3. 和 : 86 51 70 62 47

差 : 26 35 58 48 29

三、×  $25 + 8 = 33$  ×  $53 + 4 = 57$

×  $37 - 5 = 32$  ×  $42 - 7 = 35$

×  $36 - (6 - 5) = 35$  ×  $50 - (7 + 3) = 40$

四、 $82 - 8$   $7 + 65$   $48 + 4$   $95 - 50$

$53 - 9$   $73 - 30$

五、6 57 0 0 49 47 18 (最后三空答案不唯一)

---

[点拨]  $38 + \square = 44$ ，加数 = 和 - 另一个加数， $44 - 38 = 6$ ； $\square -$

$30 = 27$ ，求被减数用加法，被减数 = 差 + 减数， $30 + 27 = 57$ ；  
 $\square - \square = \square$

$35 + \square = 35 - \square$ ，里面只能填0； $20 + 30 > \square$ ，只要里

面的数比50小就可以； $\square - 9 < 39$ ，只要  $\square$  里面的数比48小就

可以； $\square + 8 > 25$ ，只要  $\square$  里面的数比17大就可以。

六、 $26 - 16 = 10$ (个)     $10 - 5 = 5$ (个)

[点拨] 此类题可以将多的一半送给对方，两人就能一样多。

七、1.  $80 + 5 = 85$ (根)    2.  $60 - 8 = 52$ (元)

八、1.  $90 - 8 = 82$ (元)

2.  $7 + 7 + 7 = 21$ (个)

3.  $28 + 30 = 58$ (人)     $58 < 60$

一(1)班和一(2)班的学生可以一起乘车。

4.  $94 - 30 = 64$ (根)