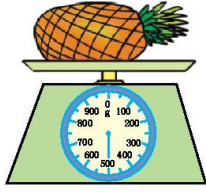
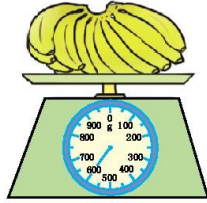


第八单元检测

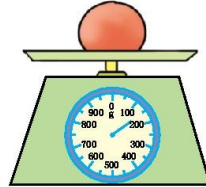
一、下面的物品各有多重。



()



()



()



()

二、想一想,填一填。

1.表示物品有多重,可以用()或()作单位。

2.1袋红糖重500克,2袋红糖重()克,正好是()千克。

3.一瓶墨水重100克,()瓶墨水重1千克。

4.在括号里填上合适的数。

3千克=()克

7000克=()千克

1500克+500克=()千克

1千克-400克=()克

5.1袋水泥重50千克,()袋水泥重200千克。

6.一个鸡蛋约重50克,()个鸡蛋约重500克,()个鸡蛋约重1千克。

7.



一个南瓜重4千克,一个西瓜重()千克,一个菠萝重()千克。

三、在○里填上“>”“<”或“=”。

1 千克 ○ 999 克
克

6000 克 ○ 6 千克

8 克 ○ 8 千

3700 克 ○ 3 千克
○ 84 千克

6900 克 ○ 7 千克

8400 克

四、我来判一判。(对的画“○”,错的画“×”)

1. 10 千克铁比 10 千克棉花重。 ()

2. 小亮班里的一个同学特别瘦,体重只有 200 克。 ()

3. 一个 2 分硬币重 1 克,9 个 2 分硬币重 18 克。 ()

4. 天平可以称比较重的物品的质量。 ()

5. 每 200 克阿胶枣装一袋,5 袋这样的阿胶枣共重 1 千克。 ()

五、在括号里填上合适的质量单位。



400 ()



498 ()



8 ()



1 ()



4 ()



2 ()




100 ()



400 ()

六、大象医生正在给森林里的小动物体检,你能帮它把记录补充完整吗?




1. ()的体重最重,重();()的体重最轻,重()。

2.按从重到轻的顺序给小动物排队: _

七、解决问题。

1.杯子里的水有多重?



2.估计一下 32 个西红柿大约重多少千克。

3.



4.下面是宏达超市部分商品的价格表。

名称	果冻	软面包	饼干	蛋卷
价格	5元/500克	4元/500克	8元/500克	9元/500克

(1)李阿姨买了2千克软面包和1千克蛋卷,一共要花多少元?

(2)你还能提出什么数学问题?解答出来。

参考答案

一、500克 600克 150克 20千克

二、1.克 千克

2.1000 1

3.10

4.3000 7 2 600

5.4

6.10 20

7.2 1

三、> = < > < <

四、1.×

2.×

3.×

4.×

5.□

五、克 克 千克 千克 千克 千克 克 千克

六、1.狮子 300千克 松鼠 400克

2.狮子 毛驴 小鹿 松鼠

七、 $1.500-100=400$ (克)

2.答案不唯一,如:一般情况下,8个西红柿重1千克。

$$32 \div 8 = 4 \text{ (千克)}$$

3. $2000+2500+1500$

$$=4500+1500$$

$$=6000 \text{ (克)}$$

$$6000 \text{ 克} = 6 \text{ 千克} \quad 6 < 8$$

能同时过河。

4.(1) $4 \times 2 \times 2$

$$=8 \times 2$$

$$=16 \text{ (元)}$$

$$9 \times 2 = 18 \text{ (元)} \quad 16 + 18 = 34 \text{ (元)}$$

(2)答案不唯一,如:买1千克果冻和500克饼干需要花多少钱?

$$5 \times 2 + 8$$

$$=10 + 8$$

$$=18 \text{ (元)}$$