

7.先把口诀补充完整,再根据口诀写出两道除法算式。

四()二十四 _____

()()十二 _____





8.在括号里填上合适的数。

$15 \div () = 5$

$() \div 6 = 3$

$() \div 5 = 1$

三、细心算一算。

																							
<table border="1" style="border-collapse: collapse; width: 100%;"> <tr><td>$16 \div 4 =$</td></tr> <tr><td>$15 \div 3 =$</td></tr> <tr><td>$10 \div 5 =$</td></tr> <tr><td>$18 \div 3 =$</td></tr> <tr><td>$2 \div 2 =$</td></tr> </table>	$16 \div 4 =$	$15 \div 3 =$	$10 \div 5 =$	$18 \div 3 =$	$2 \div 2 =$	<table border="1" style="border-collapse: collapse; width: 100%;"> <tr><td>$24 \div 4 =$</td></tr> <tr><td>$18 \div 6 =$</td></tr> <tr><td>$6 \div 3 =$</td></tr> <tr><td>$12 \div 2 =$</td></tr> <tr><td>$4 \div 1 =$</td></tr> </table>	$24 \div 4 =$	$18 \div 6 =$	$6 \div 3 =$	$12 \div 2 =$	$4 \div 1 =$	<table border="1" style="border-collapse: collapse; width: 100%;"> <tr><td>$5 \div 1 =$</td></tr> <tr><td>$8 \div 4 =$</td></tr> <tr><td>$36 \div 6 =$</td></tr> <tr><td>$6 \div 6 =$</td></tr> <tr><td>$20 \div 5 =$</td></tr> </table>	$5 \div 1 =$	$8 \div 4 =$	$36 \div 6 =$	$6 \div 6 =$	$20 \div 5 =$	<table border="1" style="border-collapse: collapse; width: 100%;"> <tr><td>$3 \div 3 =$</td></tr> <tr><td>$6 \div 2 =$</td></tr> <tr><td>$20 \div 4 =$</td></tr> <tr><td>$9 \div 3 =$</td></tr> <tr><td>$30 \div 5 =$</td></tr> </table>	$3 \div 3 =$	$6 \div 2 =$	$20 \div 4 =$	$9 \div 3 =$	$30 \div 5 =$
$16 \div 4 =$																							
$15 \div 3 =$																							
$10 \div 5 =$																							
$18 \div 3 =$																							
$2 \div 2 =$																							
$24 \div 4 =$																							
$18 \div 6 =$																							
$6 \div 3 =$																							
$12 \div 2 =$																							
$4 \div 1 =$																							
$5 \div 1 =$																							
$8 \div 4 =$																							
$36 \div 6 =$																							
$6 \div 6 =$																							
$20 \div 5 =$																							
$3 \div 3 =$																							
$6 \div 2 =$																							
$20 \div 4 =$																							
$9 \div 3 =$																							
$30 \div 5 =$																							


四、看图写算式。

1.



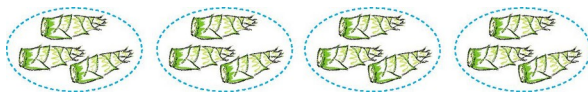
$\square \bigcirc \square = \square$

2.



$\square \bigcirc \square = \square$

3.



$\square \times \square = \square$

$\square \div \square = \square$ $\square \div \square = \square$

4.



$\square \times \square = \square$

$\square \div \square = \square$ $\square \div \square = \square$

被除数	10	15	24	25	12	30
除数	5	3		5		6
商			6		4	

五、算一算,填一填。

六、



1. 每组有 5 个同学拍皮球, 4 组共有()个同学。

$$\square \circ \square = \square$$

2. 20 个同学分成 4 组拍皮球, 平均每组有()个同学。

$$\square \circ \square = \square$$

3. 20 个同学, 每 5 个同学一组拍皮球, 可以分成()组。

$$\square \circ \square = \square$$

七、解决问题。

1. 光明小学少先队大队部展览 24 张优秀图画作品。

(1) 每排贴 4 张, 可以贴几排?


$$\square \circ \square = \square (\quad)$$

(2) 贴 6 排, 平均每排贴多少张?

$$\square \circ \square = \square (\quad)$$

2. 小刺猬运果子。

每次运 6 个,
几次能运完?



3 次运完, 平均
每次运几个?





参考答案

一、() () (□)

二、1.3 12 除以 4 等于 3 三四十二

2.5 5

3.2 1

4.4

5.5

6.× ÷ - +

7.六 $24 \div 6 = 4$ $24 \div 4 = 6$ 三四 $12 \div 4 = 3$ $12 \div 3 = 4$

或二六 $12 \div 6 = 2$ $12 \div 2 = 6$

8.3 18 5

三、4 5 2 6 1 6 3 2 6 4 5 2

6 1 4 1 3 5 3 6

四、1. $6 \div 2 = 3$

2. $16 \div 4 = 4$

3. $3 \times 4 = 12$ 或 $4 \times 3 = 12$ $12 \div 4 = 3$ $12 \div 3 = 4$

4. $3 \times 6 = 18$ 或 $6 \times 3 = 18$ $18 \div 3 = 6$ $18 \div 6 = 3$

五、2 5 4 5 3 5

六、1.20 $4 \times 5 = 20$ 或 $5 \times 4 = 20$

2.5 $20 \div 4 = 5$

3.4 $20 \div 5 = 4$

七、1.(1) $24 \div 4 = 6$ (排) (2) $24 \div 6 = 4$ (张)

2. $18 \div 6 = 3$ (次) $18 \div 3 = 6$ (个)