

人教版 2023-2024 下学期一年级数学下册期末达标测试卷

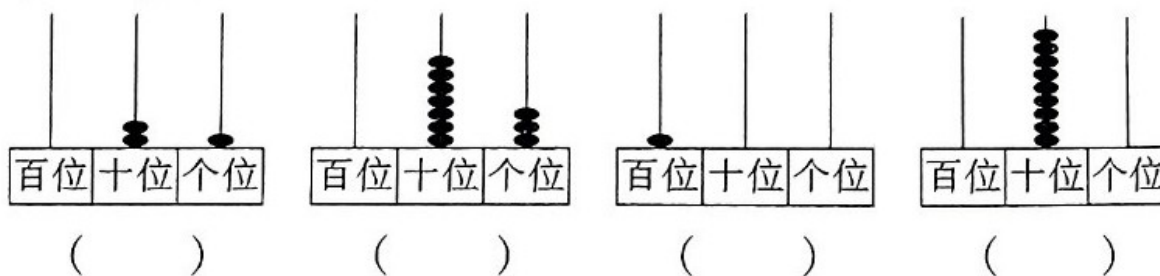
(时间: 60 分钟, 满分: 100 分)

| | | | | | | | |
|----|---|---|---|---|---|---|----|
| 题号 | 一 | 二 | 三 | 四 | 五 | 六 | 总分 |
| 得分 | | | | | | | |

tián kòng

一、填空。(28分)

1. 计数器上从右边起, 第()位是百位, 第二位是()位。
2. 一个两位数, 个位上的数是 5, 十位上的数是 9, 这个数是()。
3. 89 里面有()个十和()个一。
4. 紧接着 61 后面的连续 5 个数是()、()、()、()、()。
5. 20 名同学排队, 从头数, 小明是第 6 个, 从尾数, 小明是第()个。
6. 9 比 29 少(); 75 比 50 多()。
7. 看图写数。



8. 用 8、6、14、7 这些数中的三个数写出两道减法算式和两道加法算式。(8分)

$$\square - \square = \square$$

$$\square - \square = \square$$

$$\square + \square = \square$$

$$\square + \square = \square$$

9. 找规律，画一画。

(1) ○△○△○△○△_____

(2) (30(●○○●●○○●○_____

(3) ○□○□○□○□_____

pàn duàn duì de dǎ cuò de dǎ

二、判断。(对的打“√”,错的打“×”)(10分)

1. 两位数都比一位数大。 ()

2. 100 比 16 多一些。 ()

3. 81 和 79 中间的数是 80。 ()

4. 40 比 41 大 1。 ()

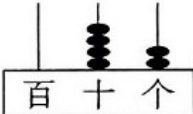
5. 69 和 79 之间有 10 个数。 ()

xuǎn zé jiāng zhèng què dá àn de xù hào tián zài kuò hào lǐ

三、选择。(将正确答案的序号填在括号里)(15分)

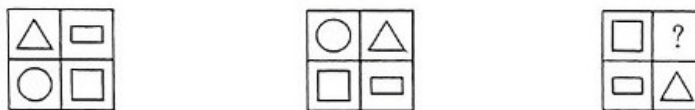
1. 一双皮鞋的价格为()。

① 98 分 ② 98 角 ③ 98 元

2.  表示的数与最大一位数之和为()。

① 50 ② 51 ③ 49

3. 在下图中，根据变化规律空白处应填()。



① ○ ② □ ③ △

4. 我昨天看了 36 页小说，今天看了 30 页，这两天共看了多少页？正确列式是()。

① 36-30 ② 36+30 ③ 36+30-30

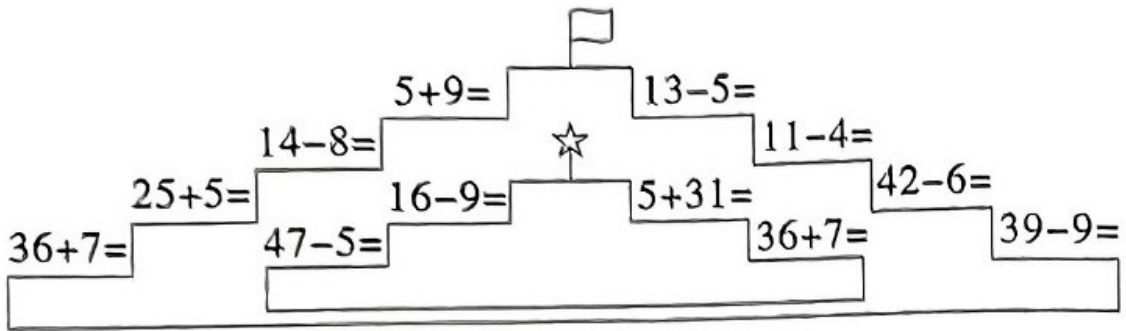
5. 从 16 到 24,最中间的数是()。

① 19 ② 20 ③ 21

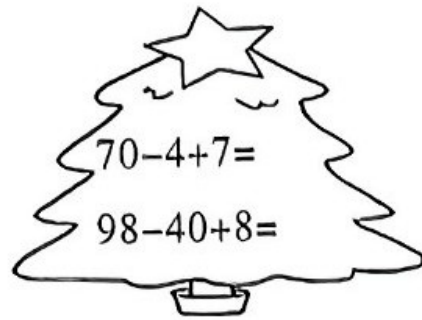
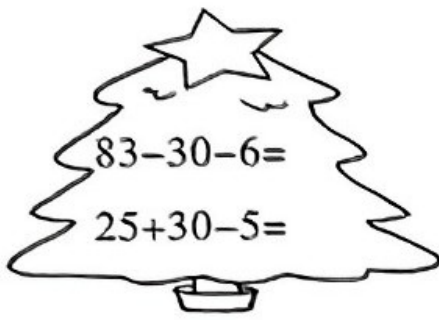
jì suàn lè yuán

四、计算乐园。(18分)

1. 看看谁最快。(12分)



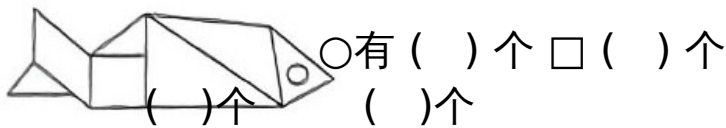
2. 算一算。(6分)



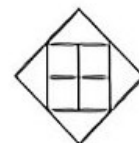
shǔ yì shǔ tián yì tián

五、数一数,填一填。(14分)

1. 数一数,填一填。(8分)



2. 想一想,填一填。(6分)



()个三角形 ()个长方形 ()个正方形

jiě jué wèn tí

六、解决问题。(15分)

1.认识人民币。(5分)



共_____元_____角，买一件



够吗?_____

2.商店里有 42 支铅笔，第一天卖出 8 支，第二天卖出 12 支。(10分)

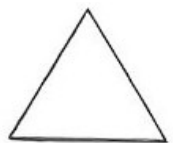
(1)两天一共卖出多少支铅笔?商店里还剩几支铅笔?

(2)1 支铅笔 5 角钱，我有 1 张 1 元和 3 张 2 角，最多可买几支铅笔?还剩多少钱?

zhì lì chōng làng

智力冲浪。(10分)

有 9 棵小树，平均种在三角形花坛的 3 条边上，要求每条边上种 4 棵，应该怎样种?请你画出来。



参考答案

一、1、三十

2、95

3、89

4、62 63 64 65 66

5.15

6、20 25

7. 21 73 100 90

8. $14-6=8$ $14-8=6$

$8+6=14$ $6+8=14$

二、1. ✓ 2. × 3. V 4. × 5. ×

三、1. ③ 2. ② 3. ① 4. ② 5. ②

四、1. 43 30 6 14 30 36 7 8;

42 7 43 36

2. 47 50; 73 66

五、1. 1 1 5 1 2. 3 4 6

六、1. 17 7 不够

2. (1) $12+8=20$ (支) $42-20=22$ (支)

(2) 3支 1角

智力冲浪

