


## 第9单元跟踪检测卷

一、填一填。(每题6分,共30分)

1. 英语测试,天天、丽丽、伟伟三人获得了前三名,丽丽是第( )名,伟伟是第( )名,天天是第( )名。

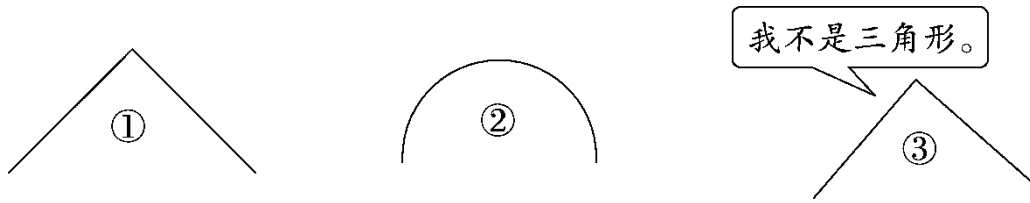


2. 有三张卡片,上面分别标有5、9、0,红红、东东、婷婷每人拿了一张。红红拿的不是5,东东拿的是最大的一位数。他们各拿的是几?




红红	东东	婷婷

3. 乐乐、欢欢、聪聪、文文比赛跑步,乐乐不是最快的,但比欢欢、聪聪快,欢欢比聪聪慢。第一名是( ),第二名是( ),第三名是( ),第四名是( )。
4. 下图是一个圆、一个三角形、一个正方形的一部分。图①是(

), 图②是( ), 图③是( )。



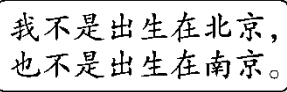
5. 孙悟空、沙僧和八戒分别藏在哪个房子里?

 ①	 ②	 ③
孙悟空藏在这里	?	沙僧不在这里

孙悟空在( )号房, 沙僧在( )号房, 八戒在( )

号房。

二、选一选。(把正确答案的序号填在括号里)(每题 2 分, 共 10 分)

1.  青青

三个小朋友分别出生在上海、南京和北京三个城市, 青青出生的

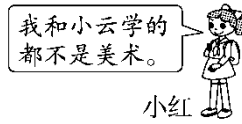
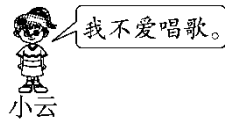
城市是( )。

① 北京

② 南京

③ 上海

2. 三个小朋友假期里分别在三个兴趣班学习，学的是唱歌、美术和舞蹈。



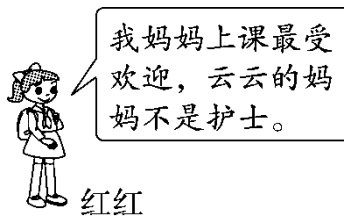
请你猜一猜，小云学的是( )。

- ① 唱歌                      ② 美术                      ③ 舞蹈

3. 今天是“六一”儿童节，新华书店抽奖结果揭晓啦。大奖的号码是由6、8、9组成的三位数，这个三位数十位上的数字不是最大的，个位上的数字是最小的。大奖号码是( )。

- ① 689                      ② 896                      ③ 986

4. 明明、云云、红红三人的妈妈，其中有一位是护士，有一位是教师，有一位是司机。你推理出云云的妈妈是( )。



- ① 护士                      ② 教师                      ③ 司机

5. 在下面的方格中，每行、每列都有1~4这四个数，并且每个数在

每行、每列都只出现一次。A是( )。

2	3		
A			3
		2	
4			

① 1

② 2

③ 3

三、我会按要求解决问题。(每题 10 分，共 30 分)

1. 我会连。(三个小朋友各跳了多少下)



我跳的不是最少的。



我跳的比60下多。



65下

60下

56下

2. 在方框里填上 1~9，每个竖式中的数字不能重复。

$$\begin{array}{r} 37 \\ + 5 \square \\ \hline \square 1 \end{array}$$

$$\begin{array}{r} 45 \\ + \square \square \\ \hline 62 \end{array}$$

$$\begin{array}{r} \square \square \\ - \square 8 \\ \hline 54 \end{array}$$

$$\begin{array}{r} \square 4 \\ - \square \square \\ \hline 56 \end{array}$$

3. 我会分析。

---

赵老师、李老师、王老师分别教语文、数学、英语中的一门。

语文老师不姓李，李老师不带三角尺和米尺上课，赵老师和数学老师是好朋友。


在正确的表格中画“√”，在不正确的表格中画“×”，并填空。

	数学	英语	语文
赵老师			
李老师			
王老师			

从表格中得出，赵老师教( )，李老师教( )，王老师教( )。

#### 四、走进生活，我会推理。(每题 10 分，共 30 分)

1. 勤劳的黑兔、白兔和灰兔，一个种萝卜，一个种白菜，一个种南瓜。白兔和黑兔收到了好朋友送的南瓜，黑兔帮助好朋友去萝卜地里施肥。黑兔、白兔和灰兔分别种的是什么？



2. 根据下面的信息，猜一猜，方方、林林和天天的爸爸各是什么职业？

方方、林林和天天三人爸爸的职业分别是工人、解放军和医生中的一种。

A. 方方的爸爸不是工人；

B. 林林的爸爸不是医生；

C. 方方的爸爸和林林的爸爸正在听解放军爸爸讲“一箭多星”的发射技术。

---

3. 在下面的格子中，每行、每列都有“热、爱、祖、国”这四个字，

并且每个字在每行、每列中都只出现一次。请你把空白部分补充

完整。

	爱		
		热	国
热			
		祖	

## 答案

一、1. 三 二 一

2. 0 9 5 [点拨]先推理出唯一的情况，再从两种情况中推出唯一的情况。

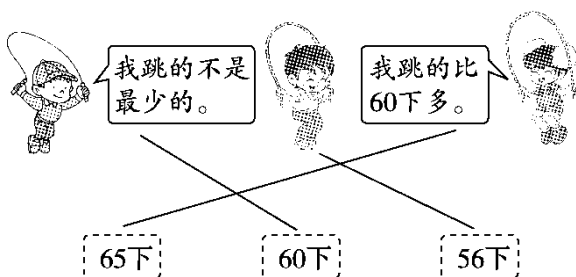
3. 文文 乐乐 聪聪 欢欢

4. 三角形 圆 正方形

5. ① ② ③

二、1. ③ 2. ③ 3. ③ 4. ③ 5. ①

三、1.

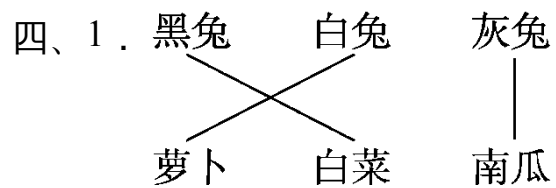


2.

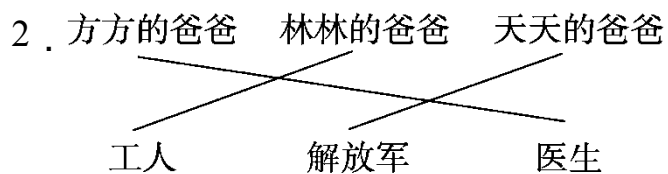
$$\begin{array}{r}
 37 \\
 + 5 \square 4 \\
 \hline
 \square 9 \ 1
 \end{array}
 \quad
 \begin{array}{r}
 45 \\
 + \square 1 \ \square 7 \\
 \hline
 62
 \end{array}
 \quad
 \begin{array}{r}
 \square 9 \ \square 2 \\
 - \square 3 \ 8 \\
 \hline
 54
 \end{array}
 \quad
 \begin{array}{r}
 \square 9 \ 4 \\
 - \square 3 \ \square 8 \\
 \hline
 56
 \end{array}$$

[点拨]第3个和第4个答案不唯一。

3. × × √ × √ × √ × × 语文 英语 数学



口答：黑兔种白菜，白兔种萝卜，灰兔种南瓜。



口答：方方的爸爸是医生，林林的爸爸是工人，天天的爸爸是解放军。

3.

祖	爱	国	热
爱	祖	热	国
热	国	爱	祖
国	热	祖	爱