

## 期末测试卷

一、填一填。(每空 1 分, 共 25 分)

1. 按规律填数。

(1) 

31		35	37	
----	--	----	----	--

48		44	40
----	--	----	----

(2) 

13		7
----	--	---

46		6
----	--	---

32		8
----	--	---

		9
--	--	---

2. 53 里面有( )个十和( )个一; 4 个一和 6 个十组成( )。

3. 一个正方形对折 1 次可以剪成( )个同样的三角形, 或剪成( )个同样的长方形。

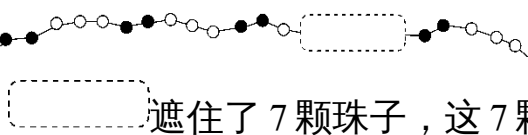
4. 最大的两位数是( ), 最小的三位数是( ), 它们相差( )。

5. 99 前面一个数是( ), 后面一个数是( )。

6. 一个两位数, 十位是 5, 个位是 9, 这个数是( ), 读作( )。

7. 一张  可以换( )张  和( )张 .

8. 7 元 6 角 = ( ) 角      68 分 = ( ) 角 ( ) 分

9.  遮住了 7 颗珠子, 这 7 颗珠子中有( )颗●, ( )颗○。

二、辨一辨。(对的画“√”, 错的画“×”)(每题 2 分, 共 10 分)

1. 分类的标准不同, 分类的结果可能不同。( )

2. 从 60 开始往后数第 4 个数是 64。( )

3. 两个三角形一定能拼成一个平行四边形。( )

4. 人民币单位之间的进率都是 10。 ( )

5.  $35 - 7 - 8$  与  $35 - (7 + 8)$  的结果相等。 ( )

三、选一选。(把正确答案的序号填在括号里)(每题 2 分, 共 10 分)

1. 和 79 相邻的两个数是( )。

① 80 和 81

② 78 和 79

③ 78 和 80


2. 下面各数中, 与 60 最接近的数是( )。


① 58

② 65


③ 70


3.  46 元, 想买一个 , 可以带( )。


① 3 张 

② 5 张 

③ 2 张 

4.  的底面是( )。

① 

② 

③ 

5. 下面的算式中, 得数最小的是( )。

①  $12 - 9$

②  $15 - 7$

③  $79 - 70$

四、计算挑战。(每题 1 分, 共 10 分)



$30 + 25 =$

$98 - 80 =$

$37 + 8 =$

$43 - (16 - 9) =$

$100 - 40 - 3 =$



$77 - 30 =$

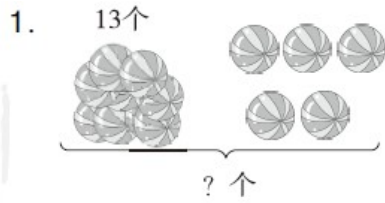
$61 + 20 =$

$65 + 5 =$

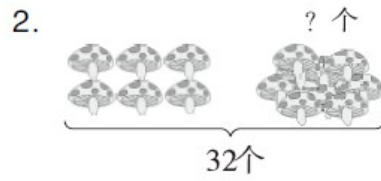
$31 + (28 - 8) =$

$25 - 8 + 12 =$

五、看图列式计算。(每题 3 分, 共 6 分)

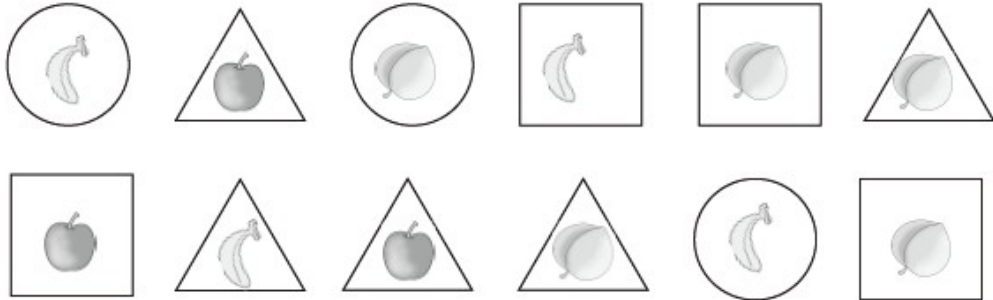


$$\square \bigcirc \square = \square \quad ( \quad )$$



$$\square \bigcirc \square = \square \quad ( \quad )$$

六、我会分类与整理。(每题5分,共10分)



1. 按卡片的形状来分。

	正方形	三角形	圆
张数			

2. 按水果的种类来分。

	苹果	桃	香蕉
个数			

七、走进生活,解决问题。(1题5分,其余每题6分,共29分)

1. 借走了多少本书?

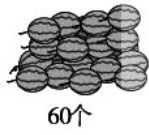


还剩40本书。

图书角原来有86本书。



2.

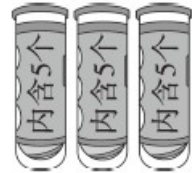


我的车满载能装9个。

至少运几次才能全部运完？



3. 妈妈有 17 个网球，3 个筒够装吗？



4.

我跳了20下。



红红



冬冬

我跳了9下。

我跳了30下。



文文

(1) 红红和冬冬一共跳了多少下？

(2) 文文比冬冬多跳了多少下？

5.



面包2元



蛋糕4元5角



汉堡8元



鸡腿6元

---

(1)  比  便宜( )元( )角。

(2) 买两样东西，至少要花( )元( )角。

(3) 兰兰用 10 元钱正好买了两样东西，她买了( )和( )。

(4) 你还能提出什么问题？并解答。

---

## 答案

一、1.(1) 33 39 46 42 (2) 40 42

2. 5 3 64

3. 2 2

4. 99 100 1

5. 98 100

6. 59 五十九

7. 2 2 [点拨] 还可以换1张20元和6张5元。

8. 76 6 8

9. 2 5

二、1.√ 2.× 3.× 4.× 5.√

三、1.③ 2.① 3.② 4.③ 5.①

四、55 18 45 36 57 47 81 70 51 29

五、1.  $13 + 5 = 18$ (个)

2.  $32 - 6 = 26$ (个)

六、1.

	正方形	三角形	圆
张数	4	5	3

2.

---

	苹果	桃	香蕉
个数	3	5	4

七、1.  $86 - 40 = 46$ (本)

口答：借走了46本书。

2.  $60 - 9 - 9 - 9 - 9 - 9 - 9 = 6$ (个)

$6 + 1 = 7$ (次)

口答：至少运7次才能全部运完。

3.  $5 + 5 + 5 = 15$ (个)

$15 < 17$

口答：3个筒不够装。

[点拨] 每筒装5个网球，3个筒就是3个5相加。

4. (1)  $20 + 9 = 29$ (下)

口答：红红和冬冬一共跳了29下。

(2)  $30 - 9 = 21$ (下)

口答：文文比冬冬多跳了21下。

5. (1) 2 5 (2) 6 5

(3) 面包 汉堡

(4) 用15元购买一个汉堡和一个鸡腿，够吗？

$8元 + 6元 = 14元$   $14元 < 15元$

口答：够。

[点拨] 答案不唯一。