

期末检测

(时间:60分钟 满分:100分)

一、填一填。(22分)

1. 2元5角=()角 48角=()元()角 1元=()分

2. 一个两位数,十位上的数是6,个位上的数是9,这个数是(),和这个数相邻的两个数分别是()和()。

3. 32里面有()个十和()个一。

4. 50比30多(),9比21少()。

5. 在○里填上“>”“<”或“=”。

$50+27 \bigcirc 70$

$24+6 \bigcirc 30$

$59+20 \bigcirc 97$

$43-7 \bigcirc 70$

$2 \text{分} \bigcirc 2 \text{角}$

$3 \text{元} 5 \text{角} \bigcirc 30 \text{角} + 5 \text{角}$

6. 先写数,再比较大小。

六十五() 六十八() 八十六() 十六() 六十()

_____ > _____ > _____ > _____ > _____

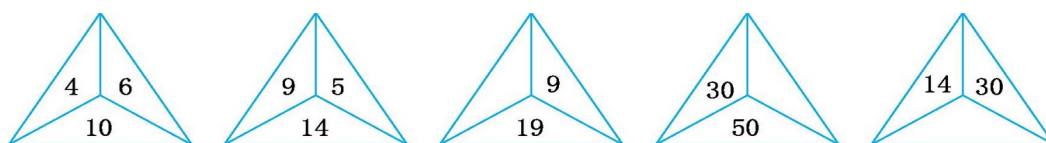
二、找规律。(8分)

1. ○●△△○●△△○●△△○●△△_____ (按规律画一组图形)(2分)

2. ☆ ☆ ☆ ☆ ☆ ☆ ☆ ☆ ☆ ☆ ☆ ☆ (按自己喜欢的规律涂色)

(3分)

3. 找规律填数。(3分)



三、选一选。(12分)

1.由6个十组成的数是()。

A.61

B.60

C.16

2.从右边起第()位是百位。

A.一

B.二

C.三

3.下面算式的结果等于七十多的是()。

A.24+30

B.72-5

C.66+9

四、算一算。(18分)

1.直接写出得数。(6分)

$90-30=$

$69-60=$

$28-6=$

$18-8=$

$42+7=$

$70+13=$

2.看谁算得又对又快。(6分)

$46-20-6=$

$27-7+5=$

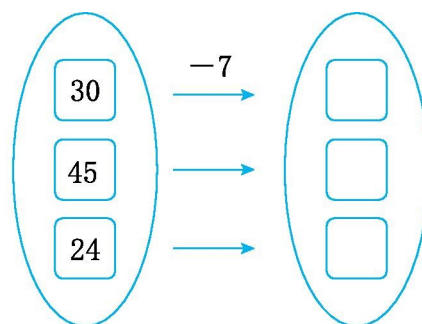
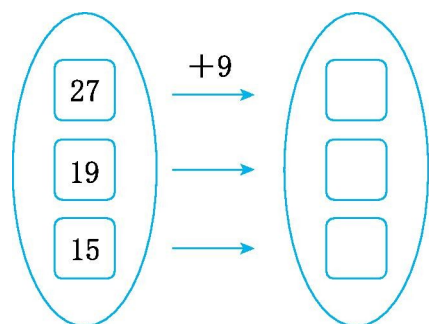
$72-2-30=$

$60-(40+20)=$

$58-(3+5)=$

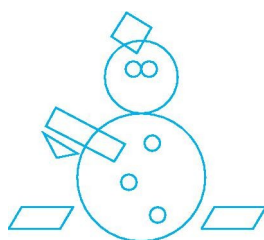
$13+(7+20)=$

3.填一填。(6分)



五、做一做。(15分)

1.数一数,填一填。(5分)



▭ 有()个

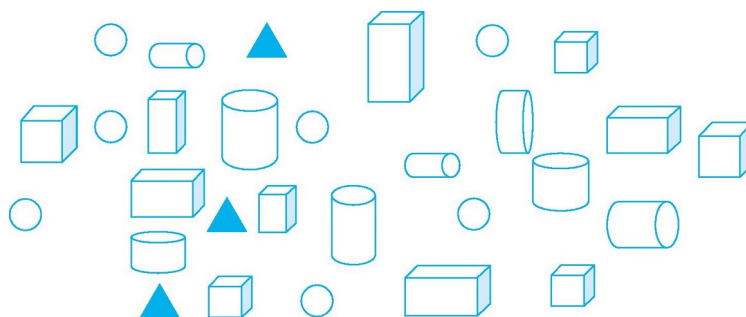
▭ 有()个

□ 有()个

△ 有()个

○ 有()个

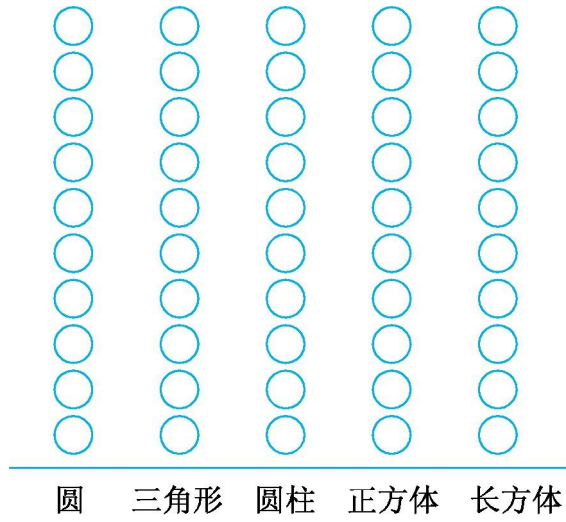
2.填一填。(10分)



(1)根据上图填写下表。

| 名称 | 圆 | 三角形 | 圆柱 | 正方体 | 长方体 |
|----|---|-----|----|-----|-----|
| 个数 | | | | | |

(2)涂一涂。



(3)如果把这些图形分为两组,可以怎样分?

| | | |
|----|--|--|
| | | |
| 个数 | | |

六、解决问题。(25分)


1.一本故事书,小刚已经看了8页,还有34页没有看。这本故事书一共有多少页?(5分)

2.(5分)



超市运来68个西瓜和4箱桃，上午卖出20个西瓜。

超市还剩多少个西瓜？



3.(5分)

现在车上有多少人？



车上原来有26人，在广场下去9人，又上来5人。

4.



每盒装6个，一共可以装满几盒？



(5分)

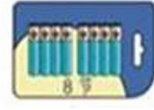
5.买东西。(5分)



5元



12元5角



8元



2元

(1)四种物品各买一件,一共要花多少钱?

(2)至少要花多少钱才能买到两样东西?

(3)你还能提出什么问题?解答出来。

期末检测答案

一、1.25 4 8 100 2.69 68 70

3.3 2 4.20 12 5.> = < < < =

6.65 68 86 16 60 86>68>65>60>16

二、1.○●△△ 2.略 3.10 20 44

三、1.B 2.C 3.C

四、1.60 9 22 10 49 83


2.20 25 40 0 50 40

3.(竖排)36 28 24 23 38 17

五、1. 有(2)个 有(1)个 有(1)个

有(1)个 有(7)个

2.(1)7 3 8 5 6



(2) 圆 三角形 圆柱 正方体 长方体

(3)

| 颜色 | 蓝色 | 白色 |
|----|----|----|
| 个数 | 3 | 26 |

六、1. $8+34=42$ (页)

2. $68-20=48$ (个)

3. $26-9+5=22$ (人)

4. $22 \xrightarrow{-6} 16 \xrightarrow{-6} 10 \xrightarrow{-6} 4$

口答:一共可以装满3盒,还剩4个羽毛球。

5.(1) $5\text{元}+12\text{元}5\text{角}+8\text{元}+2\text{元}=27\text{元}5\text{角}$

(2) $5\text{元}+2\text{元}=7\text{元}$

(3)如:电池比杯子贵多少钱?

$8-2=6$ (元)(答案不唯一)