

第八单元过关检测卷

一、我会填。(每空1分,共26分)

1. 计量物品有多重,可以用()和()作单位。
2. 1千克里面有()个100克,有()个500克。
3. 千克用符号()表示,克用符号()表示。
4. 一个鸡蛋重50克,()个这样的鸡蛋重500克,()个这样的鸡蛋重1千克。

5. 2千克=()克

5000克=()千克

6000克=()千克

()千克=3000克

10000克=()千克

300克+700克=()千克

1800克+200克=()千克

3千克-600克=()克

9600克-600克=()千克

9千克-7000克=()千克

6. 在里填上“>”“<”或“=”。

5008克 ○ 5千克

6880克 ○ 7千克

4000克 ○ 4千克

960 克 ○ 690 克

4600 克 ○ 6 千克

3500 克 ○ 3 千克

5999 克 ○ 5 千克

999 克 ○ 1 千克

二、在()里填上合适的计量单位。(每题 1 分,共 5 分)

1. 一棵白菜重 2000()

2. 一头牛重 300()

3. 一头大象重 3500()

4. 一个茶杯重 160()

5. 一只鸡重 3000()

三、判断。(对的画“√”,错的画“×”)(每题 1 分,共 5 分)

1. 小红站着称体重是 26 千克,坐着称是 30 千克。 ()

2. 一个曲别针的质量是 1 千克。 ()

3. 越大的物体它的质量越大。 ()

4. 6 千克铁和 6000 克木头一样重。 ()

5. 一袋糖重 500 克,4 袋糖重 1 千克。 ()

四、我会选。(每题 2 分,共 10 分)

1. 下列单位中,不是质量单位的是()。

A. 克 B. 千克 C. 米

2. 一块透明皂重()。

A. 2 克 B. 250 克 C. 25 千克

3. 一辆三轮车可以装货物()。

A. 200 克 B. 200 千克 C. 2 千克

4. 一枚一元硬币的质量大约是()。

A. 6 克 B. 100 克 C. 1 千克

5. 大约重 50 千克的是()。

A. 小鸡 B. 鲫鱼 C. 妈妈

五、按要求排一排。(每题 6 分, 共 12 分)

1. 84kg 48kg 8000g 4080g

() < () < () < ()

2. 90kg 3000g 4500g 30kg

() > () > () > ()

六、选择合适的秤。(连一连)(6 分)



药片



西红柿



一个小朋友



体重秤

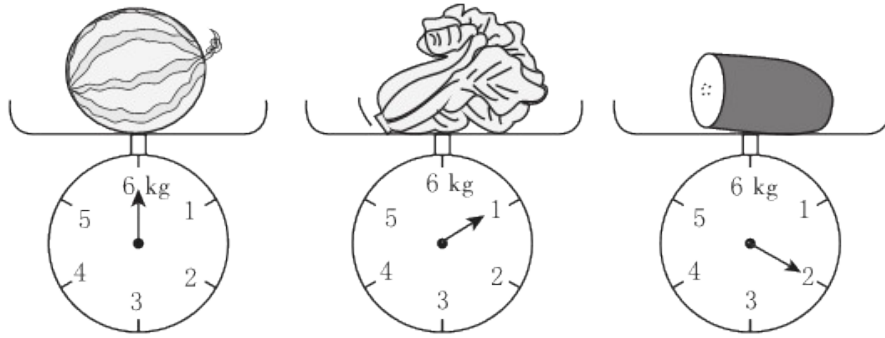


天平



电子秤


七、看图填一填。(每空 2 分, 共 10 分)



1. 最重的是(), 最轻的是()。
2. 西瓜和白菜一共重()千克。
3. 白菜比冬瓜轻()克。
4. 西瓜比冬瓜重()克。

八、解决问题。(1 题 10 分, 其余每题 8 分, 共 26 分)

1.



50 千克 25 千克 15 千克

(1) 一袋大米比一袋大豆重多少千克?

(2) 一袋大豆比一袋小麦粉轻多少千克?

(3)你还能提出一个什么数学问题？


2. 根据条件把动物的名称填入表格内。

2000 克	10000 千 克	350 千克	2 克



我是世界上最小的鸟——蜂鸟。

我可没有鲸重。



我是海洋里的霸王。

我是一只快乐的鸭子。



3. 买水果。



4 元/500 克 5 元/500 克 6 元/500 克 10 元/500 克

(1)4 个苹果约重 1 千克，20 个苹果大约重多少千克？一共需要多少

钱？

(2)买 1 千克葡萄和 5 千克桃子，共要付多少钱？

答案

一、1. 千克 克 2. 10 2 3. kg g 4. 10 20
5. 2000 5 6 3 10 1 2 2400 9 2
6. > < = > < > > <

二、1. 克 2. 千克 3. 千克 4. 克 5. 克

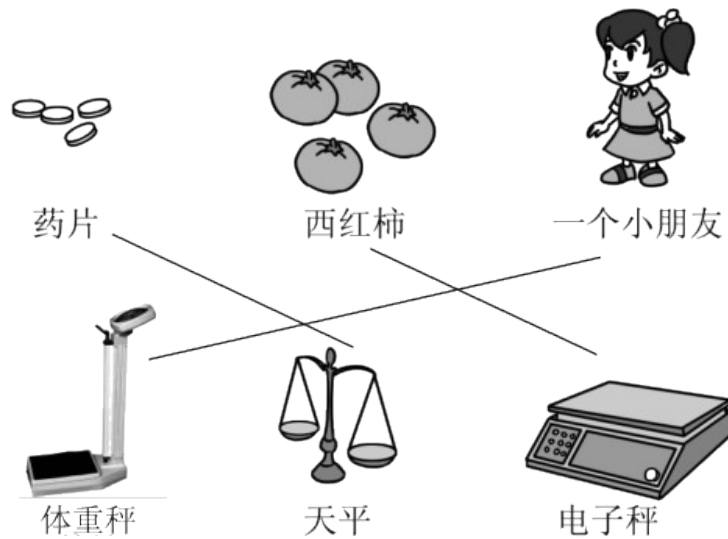
三、1. × 2. × 3. × 4. √ 5. ×

四、1. C 2. B 3. B 4. A 5. C

五、1. $4080\text{ g} < 8000\text{ g} < 48\text{ kg} < 84\text{ kg}$

2. $90\text{ kg} > 30\text{ kg} > 4500\text{ g} > 3000\text{ g}$

六、



七、1. 西瓜 白菜

2. 7

3. 1000

4. 4000

八、1. (1) $50 - 15 = 35$ (千克)

答：一袋大米比一袋大豆重 35 千克。

(2) $25 - 15 = 10$ (千克)

答：一袋大豆比一袋小麦粉轻 10 千克。

(3) 一袋大米、一袋小麦粉和一袋大豆共重多少千克？

$50 + 25 = 75$ (千克) $75 + 15 = 90$ (千克)

答：一袋大米，一袋小麦粉和一袋大豆共重 90 千克。

(答案不唯一)

2. 鸭子 鲸 牛 蜂鸟

3. (1) $20 \div 4 = 5$ $5 \times 1 = 5$ (千克)

5 千克里面有 10 个 500 克 $5 \times 10 = 50$ (元)

答：20 个苹果大约重 5 千克，一共需要 50 元。

(2) 1 千克里面有 2 个 500 克，5 千克里面有 10 个 500 克

葡萄： $10 \times 2 = 20$ (元)

桃子： $6 \times 10 = 60$ (元)

$20 + 60 = 80$ (元)

答：1 千克葡萄和 5 千克桃子共要付 80 元。