


7.2 图形的平移

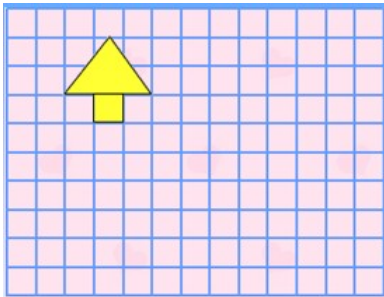
一、将图中的小船向左平移 5 格。



二、画一画：梯形先向下平移 2 格，再向左平移 7 格。



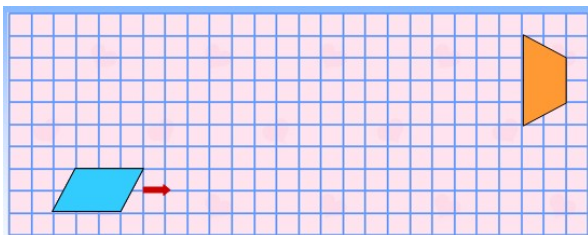
三、你能把小亭子图从左上方平移到右下方吗？想一想，有几种方法能实现。



四、画一画。

1. 平行四边形先向右平移 5 格，再向上平移 4 格。

2. 梯形先向下平移 2 格，再向左平移 7 格。



答案：略