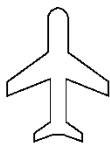



第3单元过关检测卷

一、下面哪些是轴对称图形？是的画“√”，不是的画“×”。(9分)




()



()



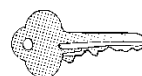
()



()



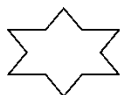
()



()



()



()



()

二、下列现象是平移的画“○”，是旋转的画“□”。(12分)



滑雪 ()



小风车 ()



滑滑梯 ()



拧螺丝 ()



舞厅旋转灯 ()





光盘架从电脑中弹出 ()

三、我是小法官。(对的画“√”，错的画“×”)(每题3分，共15分)

1. 熟透的苹果从树上掉下来是旋转现象。 ()

2. 火车轮子的运动是平移现象。 ()

3. 字母“V”、汉字“喜”都是轴对称图形。 ()

4.  可以由  旋转而得到。 ()

5. 旋转之后图形的形状发生了改变。 ()

四、选一选。(每题 3 分，共 15 分)

1. 下列四个银行的商标图案中，不是轴对称图形的是()。



A

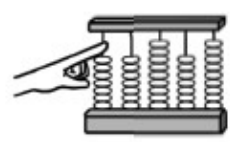
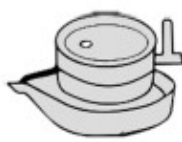


B



C


2. 下列现象是旋转的有()个。



A . 1

B . 2

C . 3


3. 图形  可以由下面的图形() 平移得到。



A



B



C

4. 把一张长方形纸对折再对折，沿着第二次对折的折痕所在的直线

画出台灯的一半，把它沿边缘线剪下来，能剪出()个完整的台灯。

- A . 1 B . 2 C . 3

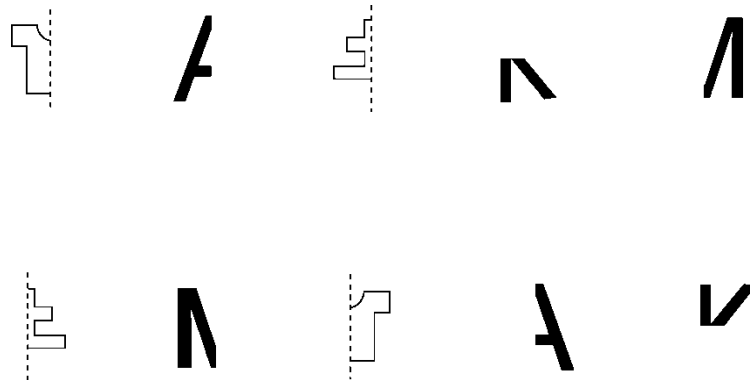
5 . 在下列图形的右面放一面镜子，在镜子中没有变化的是()。

- A . □ B . a C . ○


五、动手操作。(1 题 24 分，2 题 10 分，3 题 9 分，共 43 分)

1 . 连一连。

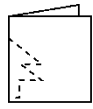
(1) 把能拼成一个轴对称图形的连起来。



(2) 把能通过平移得到的图形连起来。



(3) 下面的图形分别是 从哪张纸上剪下来的？连一连。


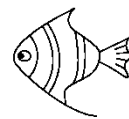




2. 圈一圈，涂一涂。

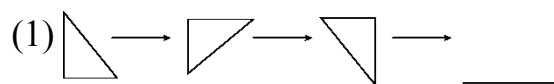
(1) 下面哪幅图是由图①旋转得到的？圈一圈。

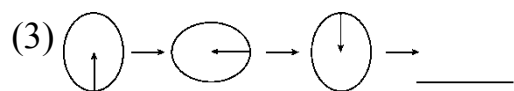
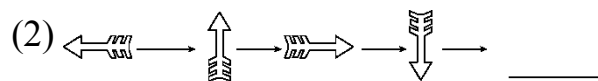


(2) 哪些小鱼可以通过平移与图①互相重合？涂一涂。



3. 接着画。





六、写出分针从 12 旋转到下面各个位置所经过的时间。(6 分)



() 分



() 分



() 分

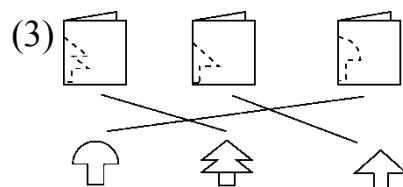

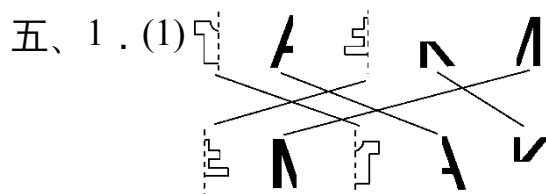
答案

一、√ × √ √ √ × √ √ ×

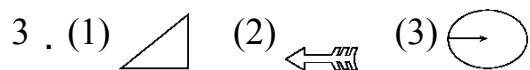
二、○ □ ○ □ □ ○

三、1. × 2. × 3. √ 4. × 5. ×

四、1. C 2. B 3. C 4. B 5. C



(2) 略



六、30 20 50