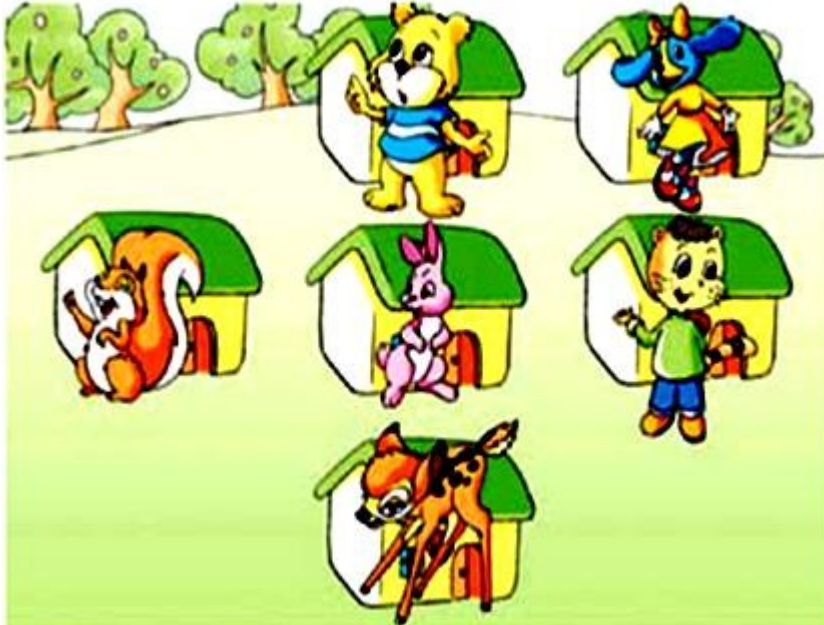


## 《位置与方向》同步试题

1、在 ( ) 里填上东、西、南、北。



- (1) 小松鼠住在小兔的 ( ) 面；小猫住在小兔的 ( ) 面。  
 (2) 小熊住在小兔的 ( ) 面；小狗住在小熊的 ( ) 面。  
 (2) 小兔住在小熊的 ( ) 面，住在小松鼠的 ( ) 面。  
 (3) 小花狗住在小猫的 ( ) 面，住在小熊的 ( ) 面。

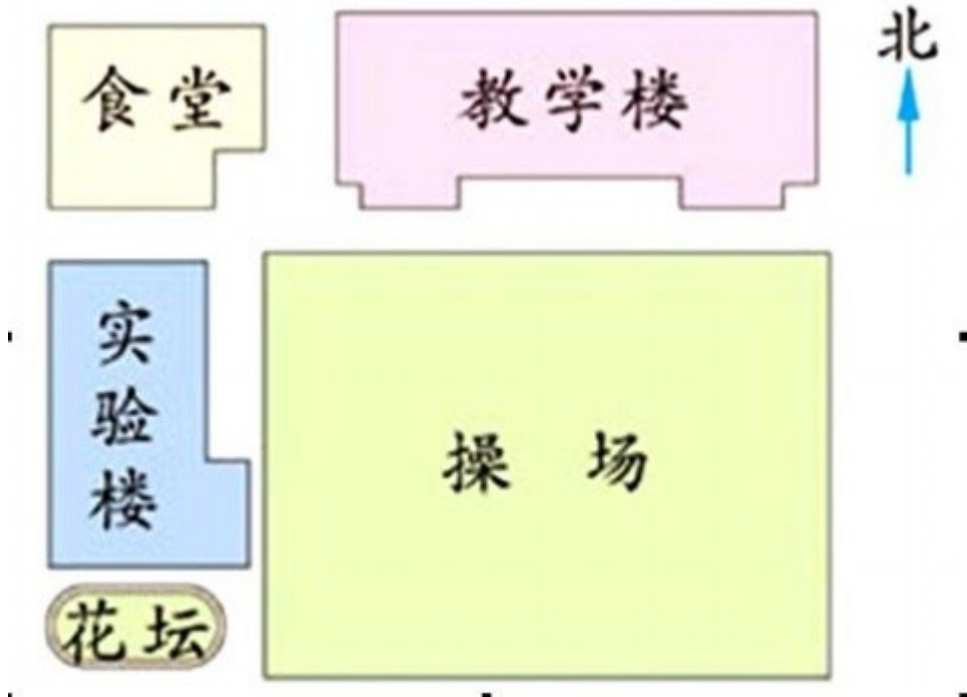
2、画一画，再在 ( ) 里填上东、西、南、北。

△				

- ① △ 在第 2 行第 4 个，  
 ② 在第 1 行第 2 个画 ○ ；  
 ③ 在第 4 行第 3 个画 □ ；  
 ④ 在第 2 行第 2 个画 ☆ ；

- ⑤ 在第2行第3个画※，  
 ⑥ △在※的（ ）面，※在△的（ ）面。  
 ⑦ ☆在○的（ ）面，在※的（ ）面。

3、填空

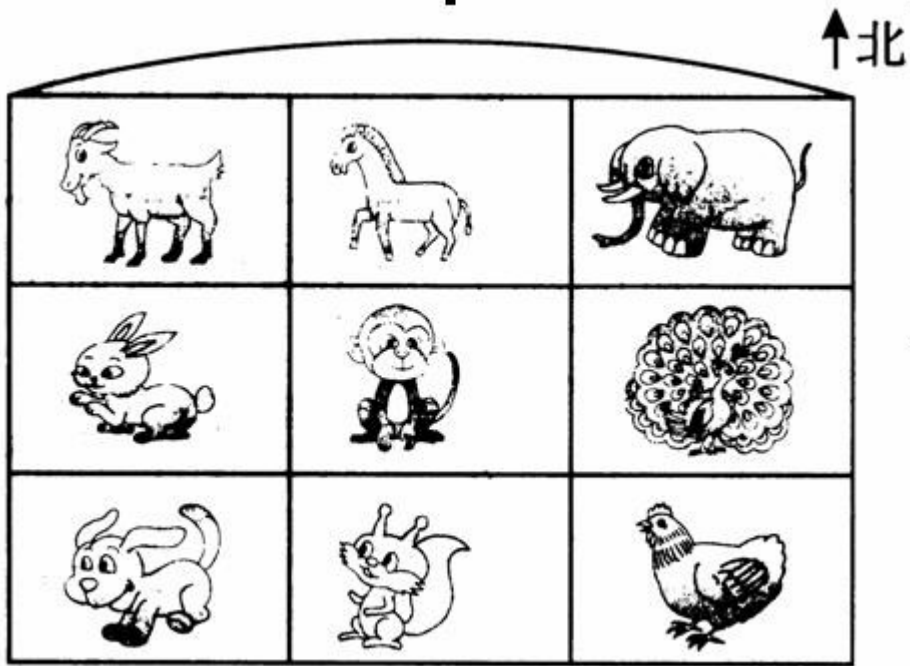


- ① 教学楼在食堂的（ ），食堂的（ ）面是实验楼。  
 ② 实验楼在食堂的（ ）面，在花坛的（ ）面。  
 ③ 操场在教学楼的（ ）面，在实验楼的（ ）面。

《位置与方向》练习题3

【实践支点】

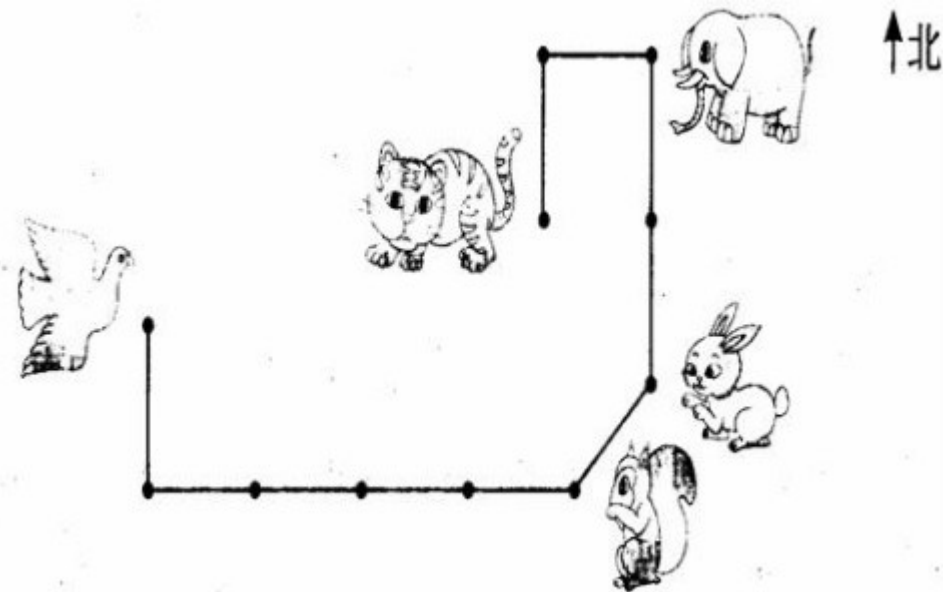
我会认。








- (1) 羊在猴的( )面, 鸡在猴的( )面。
- (2) 狗在松鼠的( )面, 猴在松鼠的( )面。
- (3) 猴的东北面是( ), 马的西面是( )。

【能力跳板】

送信。(每小格 20 米)




1.  要向 ( ) 飞 ( ) 米, 再向 ( ) 飞 ( ) 米就把信送给了  。

2.  从  家出来, 向 ( ) 飞 ( ) 米就到了  家, 把信送给

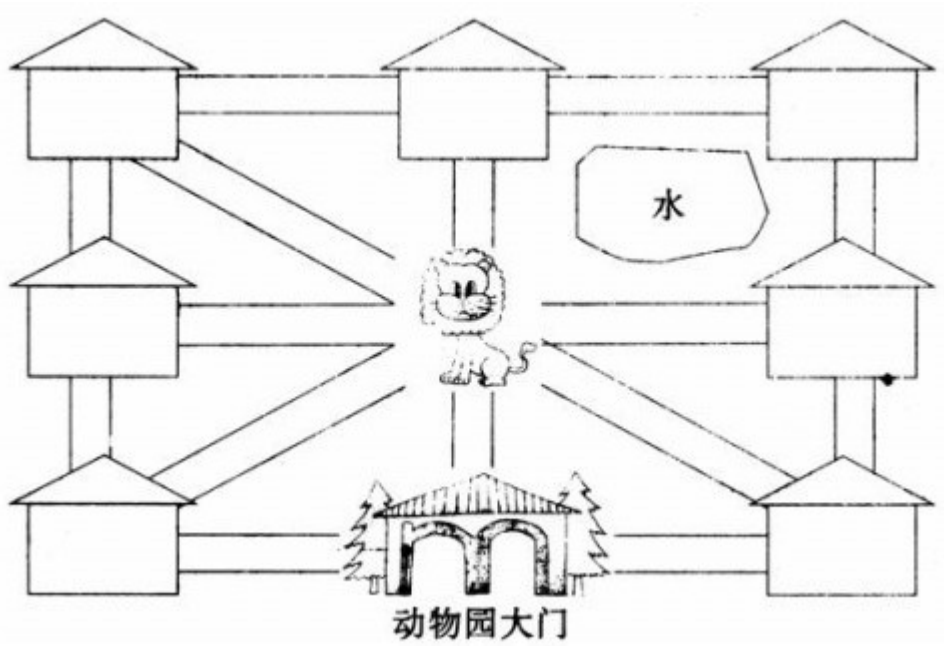
 后再向 飞 ( ) 米找到  , 最后再接着向 ( ) 飞 ( ) 米, 又

向 ( ) 飞 ( ) 米把信交给  。

3. 从  开始出发, 到把信全部送完, 在路上共飞了 ( ) 米。

【创新台阶】

填一填。



星期天, 我们去动物园游玩, 走进动物园大门, 正北面有狮子馆和河马馆, 熊猫馆在狮子馆的西北面, 飞禽馆在狮子馆的东北面, 经过熊猫馆向南走, 可到达猴山和大象馆, 经过

猴山向东走到达狮子馆和金鱼馆，经过金鱼馆向南走到达骆驼馆，你能填出它们的位置吗？

参考答案

【实践支点】

(1) 西北 东南 (2) 西 北 (3) 大象 羊

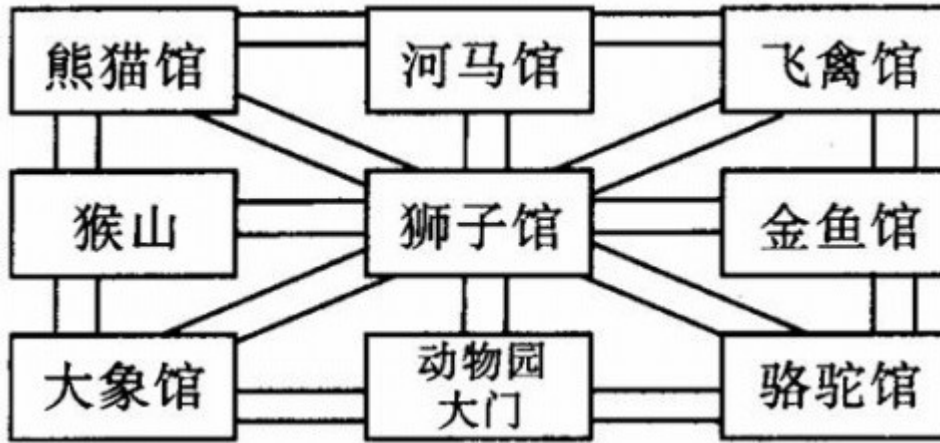
【能力跳板】

1. 南 20 东 80

2. 东北 20 北 40 西 20 南 20

3. 200

【创新台阶】



更多免费资源下载绿色圃中小学教育网 <http://WwW.Lspjy.Com> 课件|视频|试卷