


第3单元跟踪检测卷

一、选一选。(每题3分,共9分)

1. 在动物下面画“√”。




2. 在蔬菜下面画“√”。



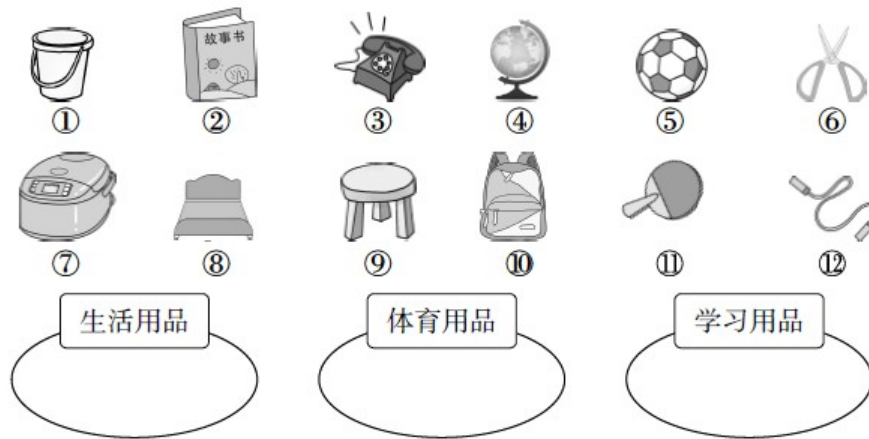
3. 在水果下面画“√”。




二、圈一圈,把每组中不同类的圈起来。(每题2分,共6分)



三、分一分。(填序号)(12分)



四、按要求分类。(每题 8 分，共 16 分)



1. 按花的样子分一分，在下面涂一涂，填一填。


				() 朵 () 朵 () 朵 () 朵

2. 按卡片的形状分一分，在下面涂一涂，填一填。

				() 张 () 张 () 张 () 张

五、走进生活，我会整理。(共 57 分)

1. 快乐的课间活动。(每题 8 分，共 24 分)



(1) 按不同的活动分类。

	踢毽子	跳绳	打篮球	打乒乓球
人数				

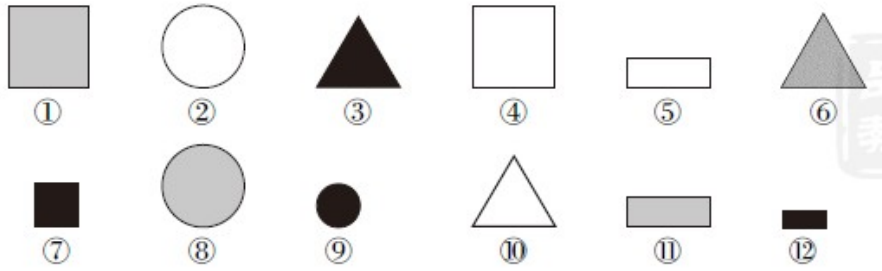
(2) 涂一涂。

□	□	□	□
□	□	□	□
□	□	□	□
□	□	□	□
□	□	□	□
□	□	□	□
□	□	□	□
□	□	□	□
□	□	□	□
□	□	□	□

(3) 如果分成两组，可以怎样分，把分组的结果表示出来。

人数		

2. 有趣的图形。(2)题 6 分，其余每题 4 分，共 14 分)



(1) 按形状分一分，填写下表。


	□	□	△	○
数量				

(2) 如果分成三组，可以怎样分？把分组的结果表示出来。






数量			

(3) 根据(2)题分组的结果，提一个问题并解答。

3. 一(2)班同学最喜欢吃的水果的情况如下图。(1)题 10 分，(2)题 9 分，共 19 分)



(1)根据上图填写下表。

					
人数					

(2)根据上面的统计结果回答问题。

① 喜欢吃()的人数最多，喜欢吃()的人数最少。

② 喜欢吃苹果的比喜欢吃香蕉的多()人。

③ 再提一个数学问题并解答。

答案

一、1. (√) () (√) () (√) (√)

2. (√) (√) () () (√)

3. (√) () (√) (√) ()




[点拨]长方形是平面图形，其余都是立体图形。

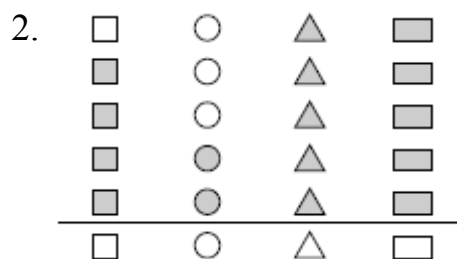
三、生活用品：①③⑥⑦⑧⑨

体育用品：⑤⑪⑫

学习用品：②④⑩




5 4 4 3



4 2 5 5

五、1.(1)

	踢毽子	跳绳	打篮球	打乒乓球
人数	3	4	5	4



[点拨]涂色时要从下往上涂。

(3)

	男生	女生
人数	7	9

2.(1)

数量	3	3	3	3

(2)

	黑色	灰色	白色
数量	4	4	4

(3) 黑色图形与白色图形一共有多少个？

$4 + 4 = 8$ (个) [点拨] 答案不唯一。

3 . (1)6 7 5 4 8

(2)① 桃子 葡萄

② 1

③ 一(2)班一共有多少人？

$$6 + 7 + 5 + 4 + 8 = 30(\text{人})$$

口答：一(2)班一共有 30 人。

[点拨] 第③问答案不唯一。