
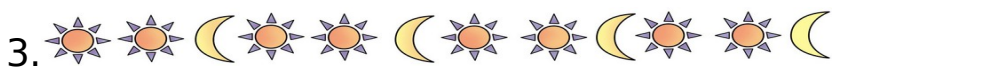
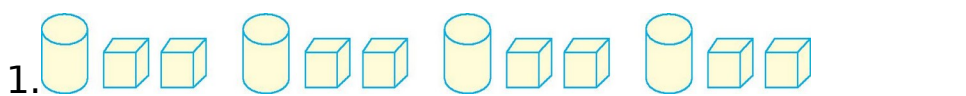


第七单元检测卷 (2)

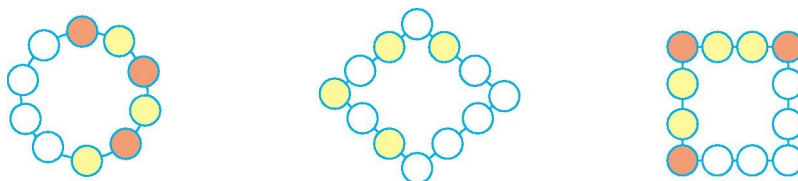
一、按规律圈一圈。



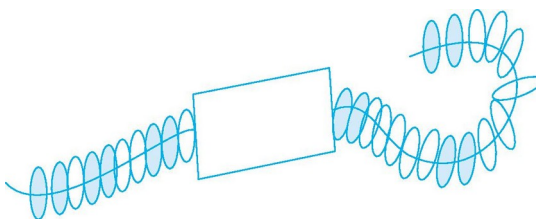
二、找规律接着画一组。




三、找规律,接着涂一涂。

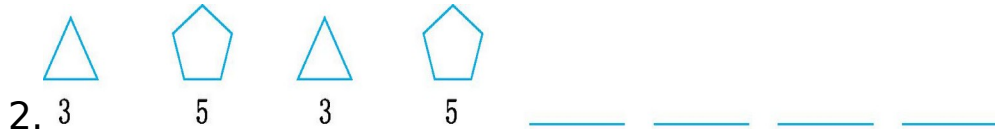


四、根据规律画出被挡住部分的珠子。

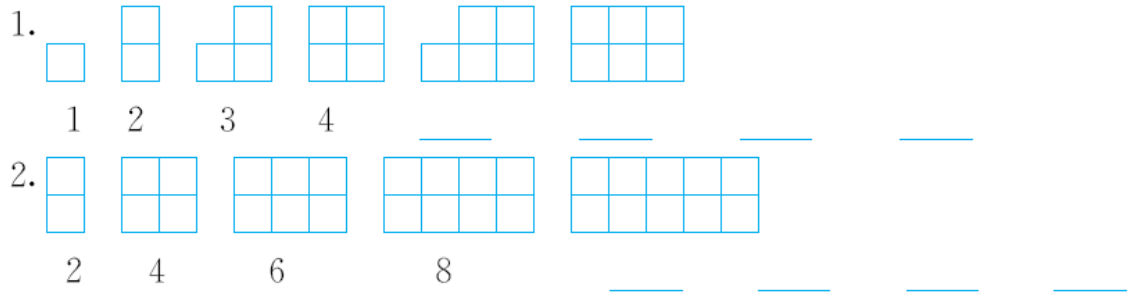


五、摆一摆,填一填。

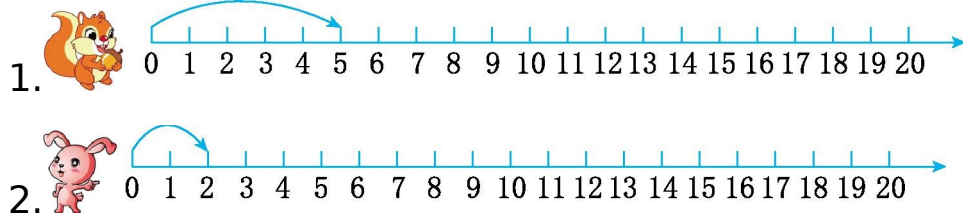




六、找规律,填数。



七、按规律接着画。



八、按规律填数。

10	7
17	

8	5
13	

30	
70	

20	50

	20
29	

九、按规律填数。


1. 9 13 17 _____ 29 _____

2. 36 34 32 30 _____ 24 22

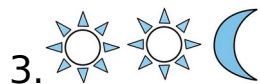

3.1 3 6 10 28

4.13 23 43 53 73

十、在下图方格中画□、△、○,使每行、每列都有这三种图形。



参考答案



三、略





五、1.  5  8  5  8

2.  3  5  3  5

六、1. 5 6 7 8

2. 10 12 14 16

七、1.  

2.  

八、40 70 9

九、1. 21 25 33 37

2. 28 26

3. 15 21 36

4. 33 63 83

十、如下图:(答案不唯一)

□	△	○
△	○	□
○	□	△