

---

## 第7、8、9单元过关检测卷

一、填空。(每空1分,共25分)

1. 数位顺序表中,从右边起第三位是( )位,第四位是( )位,万位是第( )位。

2. 与7899相邻的两个数是( )和( )。

3. 一个四位数,千位是3,个位是9,其余各位是0,这个数是( ),读作( )。

4. 水果湖小学有3096人,约( )人,二年级有594人,约( )人。

5. 1千克里面有( )个100克,有( )个500克。

6. 一个鸡蛋重50克,( )个鸡蛋重500克,( )个鸡蛋重1千克。

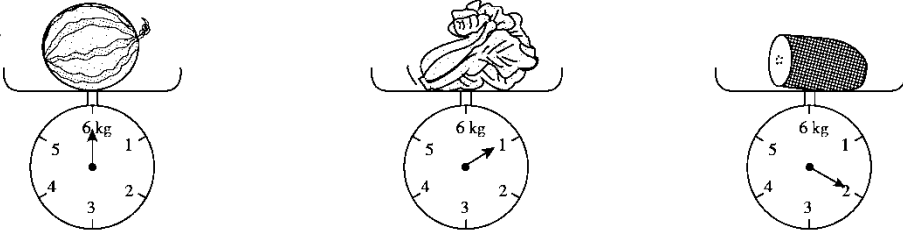
7. 3千克=( )克 5000克=( )千克 ( )千克=6000克

8. 按规律填数。

(1) 3068、3078、3088、( )、( )。

(2) 6600、6500、( )、6300、( )。

(3) 10000、9999、9998、( )、( )。

9.   
( ) 千克                      ( ) 千克                      ( ) 千克

二、我是小法官。(对的画“√”，错的画“×”)(每题 1 分，共 5 分)

1. 小红站着称体重 26 千克，坐着称 30 千克。 ( )
2. 近似数一定比准确数大。 ( )
3. 6666 中每个“6”的意义一样。 ( )
4. 6 千克铁和 6000 克木头一样重。 ( )
5. 用算盘记数时一个珠子表示一。 ( )

三、我会选。(每题 1 分，共 5 分)

1. 下面的数中只读一个零的是( )。

- A . 6008                      B . 6800                      C . 4680

2. 下列各数最接近 6000 的是( )。

- A . 6008                      B . 6900                      C . 5999

3. 一块透明皂重( )。

A . 2 克

B . 250 克

C . 25 千克

4 .



右边的秤最多能称( )的物体。

A . 200 克

B . 10 克

C . 10 千克

5 . ( )是第一名。



A . 小芳

B . 小丽

C . 小红

#### 四、我会算。(24分)

1 . 直接写出结果。(每题 1 分, 共 12 分)

$400 + 600 =$      $900 - 400 =$      $1300 - 700 =$      $3700 - 900 =$

$280 + 80 =$      $980 - 260 =$      $8000 - 4000 =$      $4000 + 6000 =$

$170 + 80 =$      $5700 - 5000 =$      $1800 + 3000 =$      $600 + 1500 =$

2 . 在○里填上“>”“<”或“=”。(每题 1 分, 共 6 分)

1 千克○1000 克    36 千克○360 克    600 克○6 千克

$3099 \bigcirc 4000$

$688 \bigcirc 866$

$8056 \bigcirc 6058$

3. 里最大能填几?(每题1分,共6分)

$6 \square 34 < 6516$

$7000 > 6 \square 99$

$5897 > 589 \square$

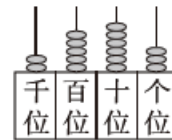
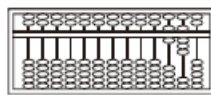
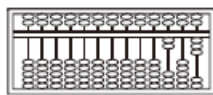
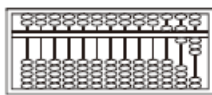
$75 \square 2 < 7583$

$\square 300 < 4300$

$4048 > 40 \square 7$

五、连一连。(1题4分,其余每题6分,共16分)

1. 把相同的数连起来。



203

2563

563

680

2. 选择合适的秤。



药片



西红柿



一个小朋友



体重秤



天平



电子秤

3. 张、黄、李分别是三位小朋友的姓。根据下面三句话,请你猜一

猜,三位小朋友各姓什么?(连一连)

---

(1)甲不姓张；(2)姓黄的不是丙；

(3)甲和乙正在听姓李的小朋友唱歌。

甲                  乙                  丙

张                  黄                  李

六、解决问题。(4题7分，其余每题6分，共25分)

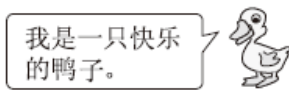
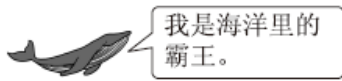
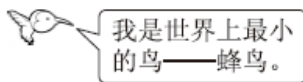
1.下面是某家电商城六月份销售的家电的台数。

|      |      |      |      |
|------|------|------|------|
| 家电名称 | 电视机  | 冰箱   | 空调   |
| 台数   | 1089 | 2878 | 3809 |

(1)种家电各接近几千台？

(2)销售量最多的家电比销售量最少的家电大约多销售多少台？

2.根据条件把动物的名称填入表格内。



|        |          |        |     |
|--------|----------|--------|-----|
| 2000 克 | 10000 千克 | 350 千克 | 2 克 |
|        |          |        |     |

### 3. 买水果。



(1) 4 个苹果约重 1 千克，20 个苹果大约重多少千克？

(2) 买 1 千克葡萄和 3 千克桃子，共要付多少钱？

4. 在下面的方格中，每行、每列都有 1~4 这四个数字，并且每个

---

数字在每行、每列只出现一次，请将方格补充完整。

|   |   |   |   |
|---|---|---|---|
|   | 2 |   |   |
| 2 |   |   | 1 |
|   |   | 4 |   |
| 3 |   |   |   |

---

## 答案

一、1. 百 千 五

2. 7898 7900 3. 3009 三千零九

4. 3000 600 5. 10 2

6. 10 20 7. 3000 5 6

8. (1)3098 3108 (2)6400 6200 (3)9997 9996

9. 6 1 2

二、1. × 2. × 3. × 4. √ 5. ×

三、1.A 2.C 3.B 4.C 5.A

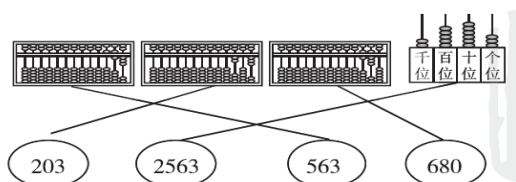
四、1. 1000 500 600 2800 360 720 4000 10000 250 700

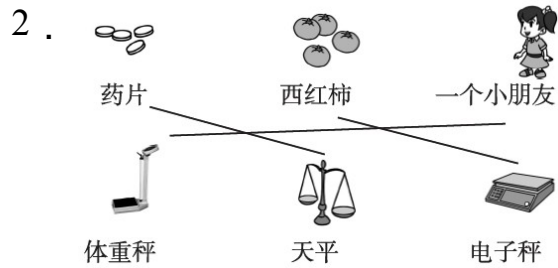
4800 2100

2. = > < < < >

3. 4 9 6 8 3 4

五、1.





六、1 . (1)电视机 : 1000 台    冰箱 : 3000 台

空调 : 4000 台

(2)  $4000 - 1000 = 3000$ (台)

2 .

|        |          |        |     |
|--------|----------|--------|-----|
| 2000 克 | 10000 千克 | 350 千克 | 2 克 |
| 鸭子     | 鲸        | 牛      | 蜂鸟  |

3 . (1)  $20 \div 4 = 5$      $5 \times 1 = 5$ (千克)

20 个苹果大约重 5 千克。

(2) 1 千克里面有 2 个 500 克 , 3 千克里面有 6 个 500 克

葡萄 :  $8 \times 2 = 16$ (元)

桃子 :  $6 \times 6 = 36$ (元)

$16 + 36 = 52$ (元)

共要付 52 元。

---

4 .

|   |   |   |   |
|---|---|---|---|
| 4 | 2 | 1 | 3 |
| 2 | 4 | 3 | 1 |
| 1 | 3 | 4 | 2 |
| 3 | 1 | 2 | 4 |