

第二单元检测卷 (1)

一、直接写出得数。

$12-5=$ $13-9=$ $14-6=$ $15-7=$ $14-$

7=

$15-9=$ $11-6=$ $14-5=$ $13-6=$ $12-9=$

$14-9=$ $12-8=$ $17-9=$ $16-9=$ $12-7=$

二、连一连。

$12-6$

$16-8$

$11-8$

$14-5$

$17-9$

$11-5$

$16-7$

$12-9$

三、在○里填上“>”“<”或“=”。

$13-4 \bigcirc 8$

$12-3 \bigcirc 7$

$6+9 \bigcirc 14$

$14-5 \bigcirc$

9

$11-6 \bigcirc 6$

$4+7 \bigcirc 12$

$13-5 \bigcirc 6$

$14-7 \bigcirc 7$

四、在□里填上合适的数。

$1. 15 - \square = 8$

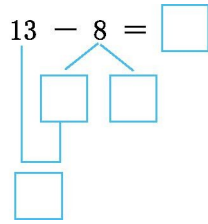
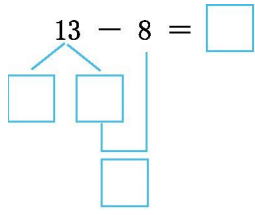
$\square + 6 = 11$

$16 - 9 = \square$

$\square - 6 = 8$

$\square + 6 = 18 -$

2.




五、看图列式计算。



$$\square - \square = \square \quad \square - \square = \square$$

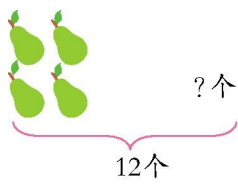
2.



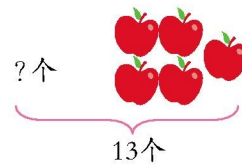
比 少 \square 个。 比 多 \square 个。

$$\square \bigcirc \square = \square \text{ (个)} \quad \square \bigcirc \square = \square \text{ (个)}$$

3.



$$\square \bigcirc \square = \square \text{ (个)}$$



$$\square \bigcirc \square = \square \text{ (个)}$$

六、解决问题。



1. 小灰兔和小白兔一共拔了 13 根萝卜。



小白兔拔了多少根萝卜？

2.

		
7 盆	6 盆	15 盆

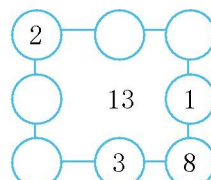
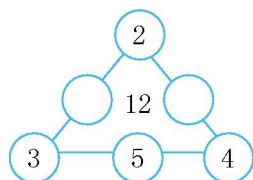
- (1)  比  少几盆？ (2) 提一个用减法计算的问题,并解答。

3. 小华要给 15 棵小树苗浇水，还剩几棵没浇？



七、动脑筋。

在圆圈里填上合适的数字,使每条直线上三个数字的和都等于中间的数。



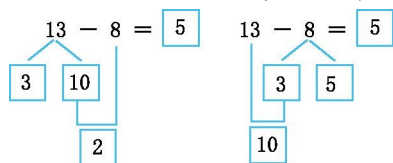
参考答案

一、7 4 8 8 7 6 5 9 7 3 5 4 8 7 5

二、第一行得数分别是6、8、3、9,第二行得数分别是8、6、9、3,连线略。

三、> > > = < < > =

四、1. 7 5 7 14 答案不唯一,如:3 9



2.

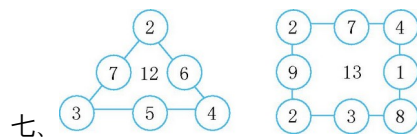
五、1. 13 8 5 13 5 8 2.5 14-9=5

5 14-9=5 3. 12-4=8 13-5=8

六、1. 13-7=6(根)

2. (1)15-6=9(盆) (2)略

3. 15-8=7(棵)



七、