

## 第八单元过关检测卷

一、我会填。(每空1分,共26分)

1. 计量物品有多重,可以用( )和( )作单位。
2. 1千克里面有( )个100克,有( )个500克。
3. 千克用符号( )表示,克用符号( )表示。
4. 一个鸡蛋重50克,( )个这样的鸡蛋重500克,( )个这样的鸡蛋重1千克。
5.  $2\text{千克} = ( )\text{克}$   
 $5000\text{克} = ( )\text{千克}$   
 $6000\text{克} = ( )\text{千克}$   
 $( )\text{千克} = 3000\text{克}$   
 $10000\text{克} = ( )\text{千克}$   
 $300\text{克} + 700\text{克} = ( )\text{千克}$   
 $1800\text{克} + 200\text{克} = ( )\text{千克}$   
 $3\text{千克} - 600\text{克} = ( )\text{克}$   
 $9600\text{克} - 600\text{克} = ( )\text{千克}$   
 $9\text{千克} - 7000\text{克} = ( )\text{千克}$
6. 在里填上“>”“<”或“=”。  
 $5008\text{克} \bigcirc 5\text{千克}$   
 $6880\text{克} \bigcirc 7\text{千克}$   
 $4000\text{克} \bigcirc 4\text{千克}$

---

960 克 ○ 690 克

4600 克 ○ 6 千克

3500 克 ○ 3 千克

5999 克 ○ 5 千克

999 克 ○ 1 千克

二、在( )里填上合适的计量单位。(每题 1 分,共 5 分)

1. 一棵白菜重 2000( )

2. 一头牛重 300( )

3. 一头大象重 3500( )

4. 一个茶杯重 160( )

5. 一只鸡重 3000( )

三、判断。(对的画“√”,错的画“×”)(每题 1 分,共 5 分)

1. 小红站着称体重是 26 千克,坐着称是 30 千克。 ( )

2. 一个曲别针的质量是 1 千克。 ( )

3. 越大的物体它的质量越大。 ( )

4. 6 千克铁和 6000 克木头一样重。 ( )

5. 一袋糖重 500 克,4 袋糖重 1 千克。 ( )

四、我会选。(每题 2 分,共 10 分)

1. 下列单位中,不是质量单位的是( )。

A. 克 B. 千克 C. 米

2. 一块透明皂重( )。

A. 2 克 B. 250 克 C. 25 千克

3. 一辆三轮车可以装货物( )。

A. 200 克 B. 200 千克 C. 2 千克

4. 一枚一元硬币的质量大约是( )。

A. 6 克 B. 100 克 C. 1 千克

5. 大约重 50 千克的是( )。

A. 小鸡 B. 鲫鱼 C. 妈妈

五、按要求排一排。(每题 6 分, 共 12 分)

1. 84kg 48kg 8000g 4080g

( ) < ( ) < ( ) < ( )

2. 90kg 3000g 4500g 30kg

( ) > ( ) > ( ) > ( )

六、选择合适的秤。(连一连)(6 分)



药片



西红柿



一个小朋友



体重秤

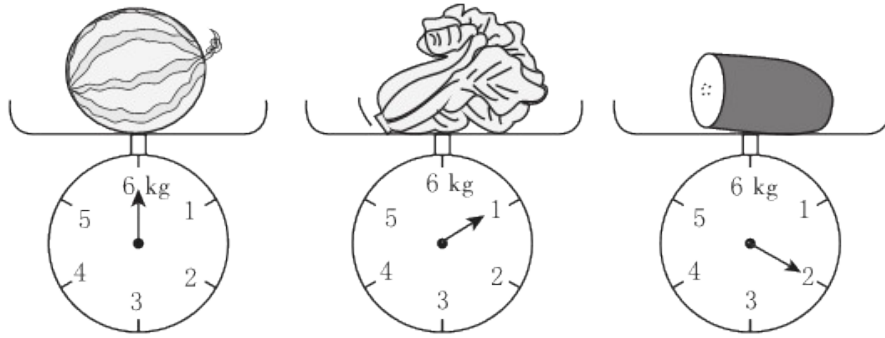


天平



电子秤


七、看图填一填。(每空 2 分, 共 10 分)



1. 最重的是(        ), 最轻的是(        )。
2. 西瓜和白菜一共重(        )千克。
3. 白菜比冬瓜轻(        )克。
4. 西瓜比冬瓜重(        )克。

八、解决问题。(1题10分,其余每题8分,共26分)

1.



50 千克      25 千克      15 千克

(1)一袋大米比一袋大豆重多少千克?

(2)一袋大豆比一袋小麦粉轻多少千克?

(3)你还能提出一个什么数学问题？


2. 根据条件把动物的名称填入表格内。

2000 克	10000 千 克	350 千克	2 克



我是世界上最小的鸟——蜂鸟。

我可没有鲸重。



我是海洋里的霸王。

我是一只快乐的鸭子。



3. 买水果。



4 元/500 克    5 元/500 克    6 元/500 克    10 元/500 克

(1)4 个苹果约重 1 千克，20 个苹果大约重多少千克？一共需要多少

---

钱？

(2)买 1 千克葡萄和 5 千克桃子，共要付多少钱？

## 答案

一、1. 千克 克 2. 10 2 3. kg g 4. 10 20  
5. 2000 5 6 3 10 1 2 2400 9 2  
6. > < = > < > > <

二、1. 克 2. 千克 3. 千克 4. 克 5. 克

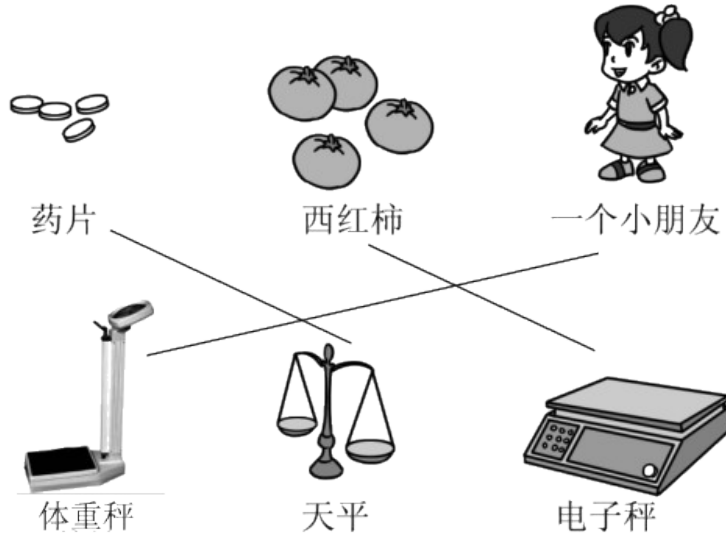
三、1. × 2. × 3. × 4. √ 5. ×

四、1. C 2. B 3. B 4. A 5. C

五、1.  $4080\text{ g} < 8000\text{ g} < 48\text{ kg} < 84\text{ kg}$

2.  $90\text{ kg} > 30\text{ kg} > 4500\text{ g} > 3000\text{ g}$

六、



七、1. 西瓜 白菜

2. 7

3. 1000

4. 4000

---

八、1. (1)  $50 - 15 = 35$ (千克)

答：一袋大米比一袋大豆重 35 千克。

(2)  $25 - 15 = 10$ (千克)

答：一袋大豆比一袋小麦粉轻 10 千克。

(3) 一袋大米、一袋小麦粉和一袋大豆共重多少千克？

$50 + 25 = 75$ (千克)  $75 + 15 = 90$ (千克)

答：一袋大米，一袋小麦粉和一袋大豆共重 90 千克。

(答案不唯一)

2. 鸭子 鲸 牛 蜂鸟

3. (1)  $20 \div 4 = 5$   $5 \times 1 = 5$ (千克)

5 千克里面有 10 个 500 克  $5 \times 10 = 50$ (元)

答：20 个苹果大约重 5 千克，一共需要 50 元。

(2) 1 千克里面有 2 个 500 克，5 千克里面有 10 个 500 克

葡萄： $10 \times 2 = 20$ (元)

桃子： $6 \times 10 = 60$ (元)

$20 + 60 = 80$ (元)

答：1 千克葡萄和 5 千克桃子共要付 80 元。