

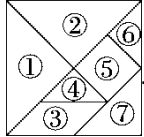
周测培优卷 1

1. 红领巾是()形, 五角硬币的面是()形。

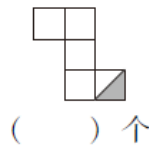
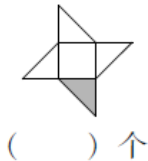
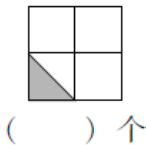
2.  如左图, 4个相同的()形拼成了1个()形。

3. 最少用()个同样的小正方形可以拼成一个长方形。

4. 最少用()个同样的小正方形可以拼成一个正方形。

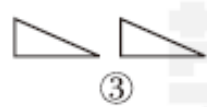
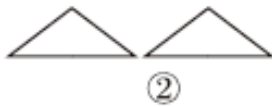
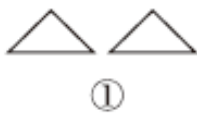
5. 用右边七巧板中的④和⑥可以拼成一个正方形,  也可以拼成一个()形, 还可以拼成一个()形。

6. 下列图形分别是由几个阴影部分的小三角形组成的?

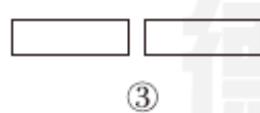
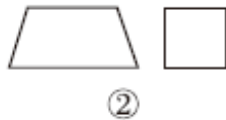
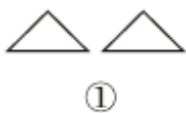


二、我会选。(把正确答案的序号填在括号里)(每题 4 分, 共 12 分)

1. 下面能拼成正方形的是()。



2. 下面能拼成平行四边形的是()。



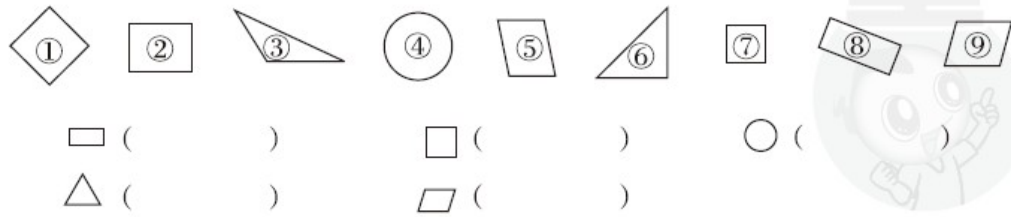
3. 一个正方形对折一次后会变成()。

① 长方形

② 三角形

③ 长方形或三角形


三、我会分。(填序号)(每空 2 分，共 10 分)



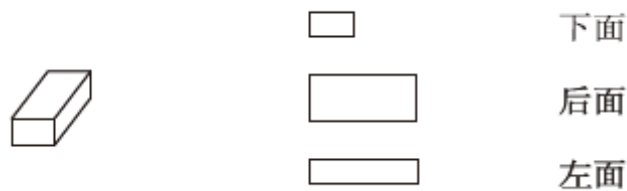
四、我会连。(共 32 分)

1. 小动物们分别需要哪组篱笆才能围好自己的院子？帮忙找一找。

(12 分)

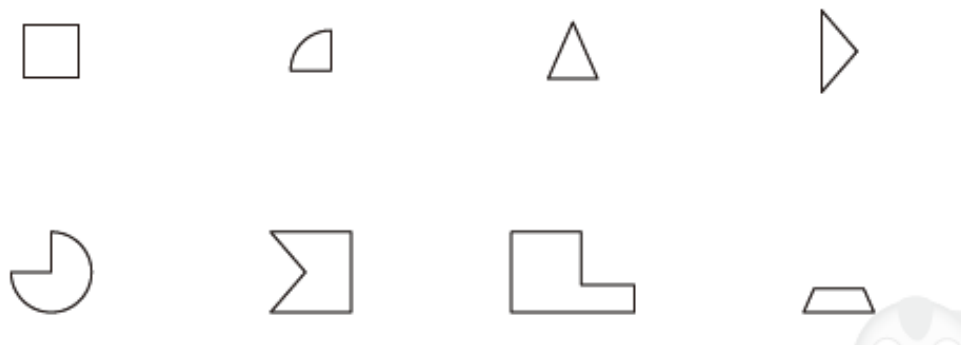


2. 中间的图形分别是长方体的哪个面？请你连一连。(12 分)



3. 下图中上面的图形分别是下面哪一个图形上剪下来的？连一连。

(8 分)



五、我会分。(每题 4 分，共 24 分)



分成两个三角形



分成两个平行四边形



分成两个正方形



分成两个长方形



分成一个正方形和一个三角形



分成两个三角形

答案

一、1. 三角 圆

2. 三角 正方

3. 2

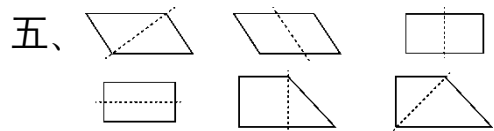
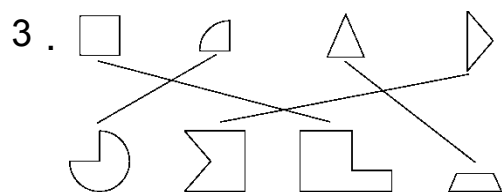
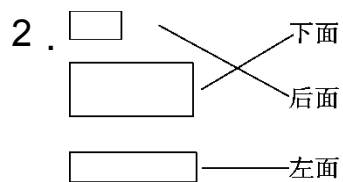
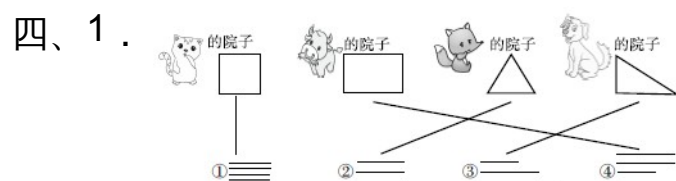
4. 4

5. 三角 平行四边

6. 8 6 10

二、1.① 2.① 3.③

三、②⑧ ①⑦ ④ ③⑥ ⑤⑨



[点拨] 分法不唯一的有第 1、2、4、6 幅图，分法唯一的是第 3、5 幅图。