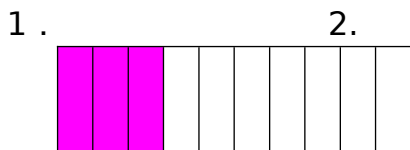


## 7.1-7.2 认识小数

一、看图写数读数。



分数 ( )

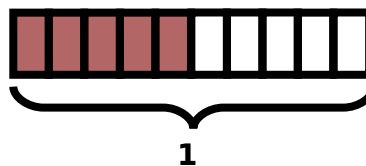
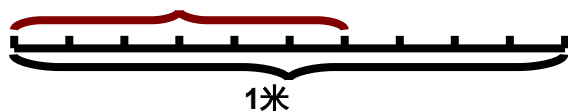
分数 ( )

小数 ( ) 读作 ( )

小数 ( ) 读作 ( )

3、

4、



分数 ( 米)

( )

小数 ( 米)

( )

二、写出下列各小数。

一点二五写作 ( )

零点二六四写作 ( )

五十九点三写作 ( )

二十九点四六写作 ( )

一点一七二写作 ( )

零点六零二写作 ( )

0.5 读作 ( )

10.05 读作 ( )

0.12 读作 ( )

120.005 读作 ( )

10.00 读作 ( )

0.065 读作 ( )

三、用数字 1、3、5 和小数点，能组成多少个不同的小数？试试看。

答案：

一、 略

二、 1.25 0.264 59.3 29.46 1.172 0.602

零点五 十点零五 零点一二 一百二十点零零五

十点零零 零点零六五

三、 略