


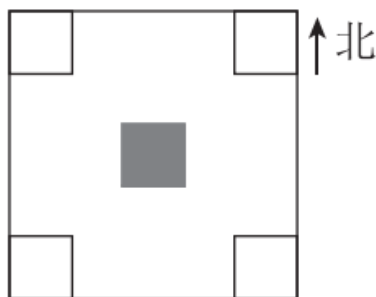


## 期中检测卷

一、我会填，也会画。(每题2分，共20分)

1. 晚上面对北极星时，你的后面是( )面，左面是( )面。

2. 图中，在  的西北方向的  画△，在  南方向的里画  。



3. 有96箱货物，如果分4次运完，平均每次运( )箱。如果分6次运完，平均每次运( )箱。

4. 要使  $86\div 4$  的商的中间有零，中可以填( )。

5. 狗大约活9年，鳄鱼大约活182年。鳄鱼的寿命大约是狗的( )倍。

6. 最小的两位数与最大的两位数的积是( )。

7.  $18\times 500$  的积的末尾有( )个0。

$605\div 6$  的商的末尾有( )个0。

8. 两个乘数都是76，积是( )。

9.  $\square \div \square = 43 \dots 5$ ，除数最小是( )，这时被除数是( )。

10.  $\bigcirc \bigcirc \square \triangle \bigcirc \bigcirc \square \triangle \bigcirc \bigcirc \square \triangle \dots$  按这样的规律往下排，第164个图形是( )，第233个图形是( )。

二、我会判断。(对的画“√”，错的画“×”)(每题1分，共5分)

1. 地图通常是按上北下南、左东右西绘制的。 ( )

---

2.  $605 \div 5$  的商的中间有 0。 ( )

3.  $34 \times 11 = 340 + 34$ 。 ( )

4.  $81 \div 6$  的商一定是三位数。 ( )

5. 学校的游泳池长 35 米, 明明游了 4 个来回, 他一共游了 140 米。 ( )

三、我会选择。(将正确答案的字母填在括号里)(每题 1 分, 共 5 分)

1.  $603 \div 3$  的商是( )。

A. 201    B. 202    C. 203    D. 200

2. 小亮从家去学校往西南方向走, 他从学校回家往( )方向走。

A. 东北    B. 东南

C. 西北    D. 西南

3. 要使  $\boxed{6} \div 3$  的商的末尾有 0, 两个  $\boxed{\quad}$  里可以分别填( )。

A. 1 0    B. 2 0

C. 3 2    D. 3 3

4. 寒假中, 琳琳 3 天写了 42 个大字, 照此速度, 她一周(7 天)能写多少个大字? 列式为( )。

A.  $42 \div 3$     B.  $42 \div 3 \times 7$

C.  $42 \times 3 \div 7$     D.  $42 \times 3 \times 7$

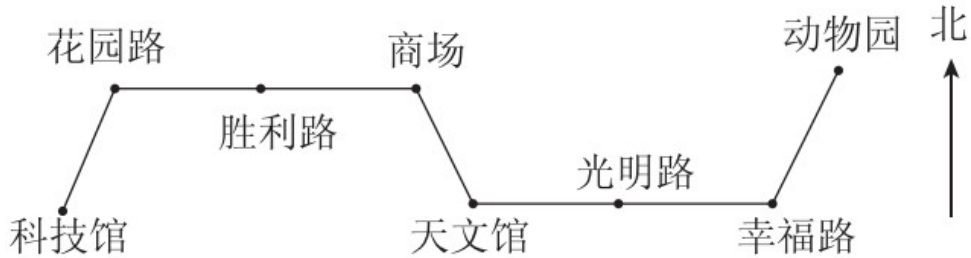
5. 下面算式中, 乘积小于 1500 的是( )。

A.  $31 \times 53$     B.  $48 \times 29$

C.  $42 \times 41$     D.  $19 \times 89$

四、我来试一试。(1 题 4 分，2 题 5 分，3 题 3 分，共 12 分)

4 路公共汽车行车路线图



周日，丁丁和文文约好一起逛商场。请填出他们的乘车路线。

1. 丁丁乘 4 路车从科技馆上车，向( )方向坐( )站到花园路  
再向( )方向坐( )站到商场。
2. 文文乘 4 路车从动物园上车，向( )方向坐 1 站到幸福路，再  
向( )方向坐( )站到天文馆，最后向( )方向坐( )站  
到商场。
3. 你能试着写出文文从商场返回动物园的行车路线吗？

五、我会计算。(1 题 9 分，2 题 12 分，3 题 8 分，共 29 分)

1. 直接写得数。

$$600 \div 3 = \quad 2400 \div 8 = \quad 540 \div 9 =$$

$$80 \div 4 = \quad 11 \times 30 = \quad 65 \times 10 =$$

---

 $20 \times 70 =$       $13 \times 4 =$       $119 \div 6 \approx$

2. 用竖式计算。(带☆的要验算)

$\star 343 \div 5 =$                        $846 \div 7 =$

$\star 627 \div 3 =$                        $42 \times 21 =$

$67 \times 28 =$                        $96 \times 87 =$

3. 脱式计算。

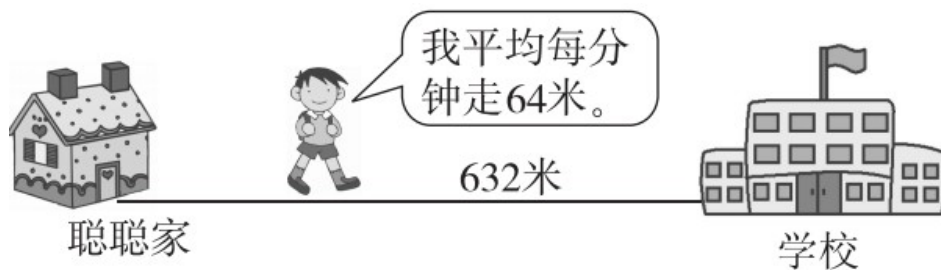
$630 \div 5 \div 6$                        $28 \times 9 \times 5$

---

$$(912 - 336) \div 8 \quad 45 \div 3 \times 37$$

六、我会解决问题。(1题4分,2题10分,3题15分,共29分)

1. (情境题)聪聪9分钟能从家走到学校吗?



2. 下面是三(1)班全体同学最喜欢的图书情况,请你完成统计表,并回答问题。

男生中有2人喜欢童话书,喜欢科技书的比喜欢童话书的多9人,喜欢漫画书的有5人。

女生中喜欢童话书的比男生喜欢科技书的多2人,喜欢科技书的有3人,喜欢漫画书的有8人。

人数/人 性别	书籍	童话书	科技书	漫画书
	男生			
女生				

(1)男生喜欢( )书的人数最多，女生喜欢( )书的人数最多。

(2)喜欢童话书的一共有( )人。

(3)这个班一共有( )人。

3.

我们幼儿园大班、中班、小班各有4个班。



平均每个班有38名小朋友。



平均每个班有4名教师。



(1)幼儿园一共有多少名小朋友？

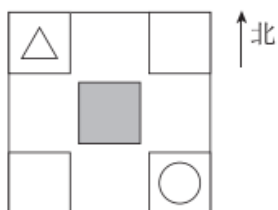
---

(2)如果把全园小朋友平均分成 6 队，再把每队平均分成 4 组进行体操表演。每组有多少名小朋友？

(3)你还能提出什么数学问题？提出一个并解答。

## 答案

一、1. 南 西 2.



3. 24 16 4. 0、1、2、3 5. 20 6. 990

7. 3 2 8. 5776 9. 6 263 10.  $\triangle$   $\bigcirc$

二、1.  $\times$  2.  $\times$  3.  $\sqrt{\quad}$  4.  $\times$  5.  $\times$

三、1. A 2. A 3. C 4. B 5. B

四、1. 东北 1 东 2 2. 西南 西 2 西北 1

3. 商场  $\xrightarrow{\text{东南}}$  天文馆  $\xrightarrow{\text{东}}$  光明路  $\xrightarrow{\text{东}}$  幸福路  
 $\xrightarrow{\text{东北}}$  动物园

五、1. 200 300 60 20 330 650 1400 52 20

2.  $343 \div 5 = 68 \dots 3$        $846 \div 7 = 120 \dots 6$

$627 \div 3 = 209$

$42 \times 21 = 882$

$67 \times 28 = 1876$

$96 \times 87 = 8352$

3. 21    1260    72    555

六、1.  $9 \times 64 = 576$ (米)  $576 < 632$

答：聪聪9分钟不能从家走到学校。

2. 表格：2    11    5

13    3    8

---

(1)科技 童话 (2)15 (3)42

3 . (1) $4 \times 3 \times 38 = 456$ (名)

答：幼儿园一共有 456 名小朋友。

(2) $456 \div 6 \div 4 = 19$ (名) 答：每组有 19 名小朋友。

(3)略。(答案不唯一)