

## 第一单元检测卷 2

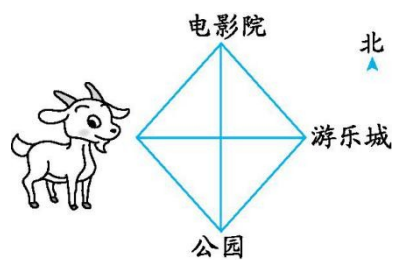
### 一、我会填。

1.早晨面对太阳,前面是( ),后面是( ),左面是( ),右面是( )。东与( )相对,南与( )相对。

2.地图通常是按照上( )下( )、左( )右( )的方向绘制的。

3.刮东南风时,彩旗向( )方向飘;刮( )风时,彩旗向南飘。

4.如右图,小山羊白白想去游乐城,向( )方向走,直接到达游乐城;从电影院向( )方向走,可以到达游乐城;从游乐城向( )



方向走,可以到达公园。

### 二、我会选择。

1.丽丽站在操场上,面向东南方,她背面的方向是( )方。

A.东北

B.西北

C.西南

2.明明上学时向西南方向走到学校,放学时向( )方向走回家。

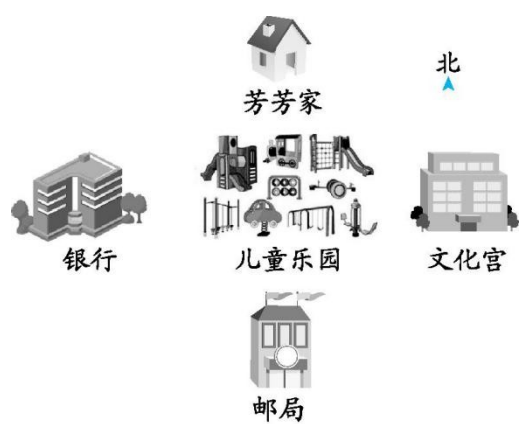
A.东北

B.西北

C.西南

### 三、看图解决问题。

1.



(1)如图,芳芳家在儿童乐园的( )面,银行在儿童乐园的( )面。

(2)银行在邮局的( )面,邮局在银行的( )面。

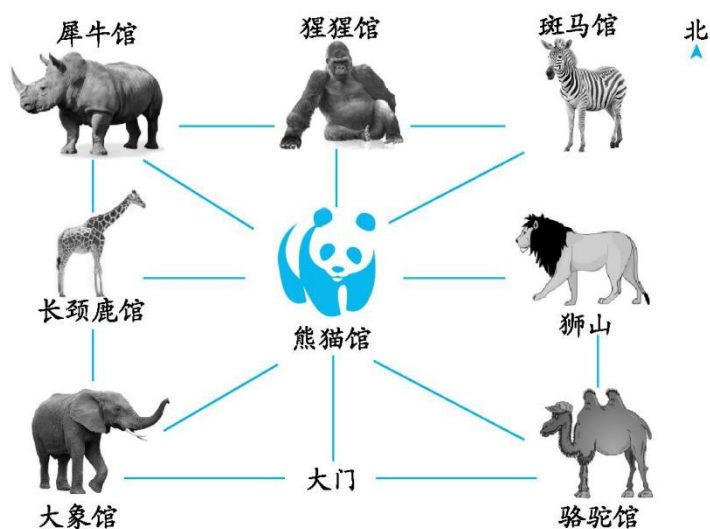
(3)邮局在文化宫的( )面,在芳芳家的( )面。

2.(1)如下图,大象馆在动物园的( )角,犀牛馆在动物园的( )角。

(2)动物园的东北角是( ),动物园的东南角是( )。

(3)狮山在熊猫馆的( )方向,猩猩馆在熊猫馆的( )方向。

(4)犀牛馆在熊猫馆的( )方向,熊猫馆在犀牛馆的( )方向。



(5)丽丽从大门进去,先去熊猫馆,再去斑马馆,最后去猩猩馆,她应该怎样走?

四、下面是张珂的一篇日记,请你根据他的日记内容完成下面的示意图,并回答问题。

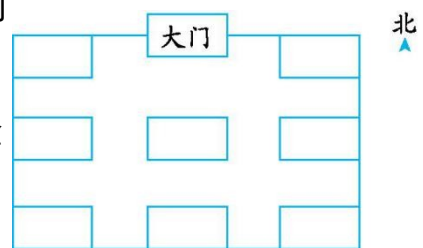
图,并回答问题。

(1)从大门向南看,先看到的是花坛。花坛的

南面是教学楼,东北角是食堂,西北角是实验

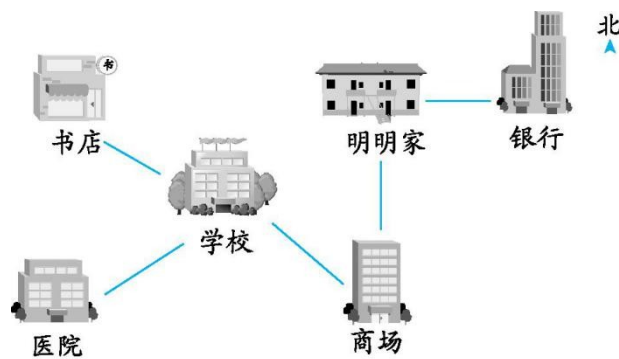
楼,图书馆在花坛的东南角,科技楼在花坛的

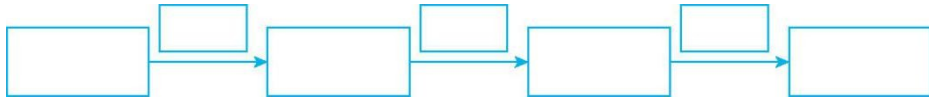
西面,艺术楼在食堂的南面。



(2)说一说从花坛去其他建筑物分别怎么走。

五、明明的妈妈在医院上班,她上班时该怎样走?





参考答案：

一、1.东 西 北 南 西 北

2.北 南 西 东

3.西北 北

4.正东 东南 西南

二、1.B

2.A

三、1.(1)北 西

(2)西北 东南

(3)西南 南

2.(1)西南 西北

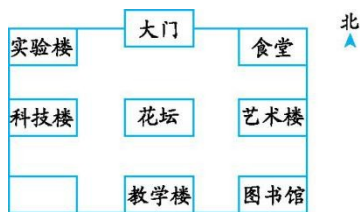
(2)斑马馆 骆驼馆

(3)正东 正北

(4)西北 东南

(5)大门 $\xrightarrow{\text{北}}$ 熊猫馆 $\xrightarrow{\text{东北}}$ 斑马馆 $\xrightarrow{\text{西}}$ 猩猩馆

四、(1)



(2)花坛 $\xrightarrow{\text{南}}$ 教学楼 花坛 $\xrightarrow{\text{东}}$ 艺术楼 花坛 $\xrightarrow{\text{西}}$ 科技楼 花坛 $\xrightarrow{\text{西北}}$ 实验楼 花坛 $\xrightarrow{\text{东北}}$ 食堂 花坛 $\xrightarrow{\text{东南}}$ 图书馆

五、明明家 $\xrightarrow{\text{南}}$ 商场 $\xrightarrow{\text{西北}}$ 学校 $\xrightarrow{\text{西南}}$ 医院