
第一单元达标测试卷

一、填空题。(每空 1 分,共 13 分)

1. 与东北相对的方向是(),与西北相对的方向是()。
2. 太阳每天从()方升起,从()方落下。早晨,当你背对太阳,面向的是()方,这时你的后面是()方,左面是()方,右面是()方。
3. 古人说:“一江春水向东流”,这是说长江之水是由()方流向()方的。
4. 小红在小丽的东面,小丽在小红的()面,小明在小芳的西南面,小芳在小明的()面。
5. 学校在聪聪家的东北方向,聪聪放学回家应该向()方向走。

二、选择题。(每题 2 分,共 10 分)

1. 下面是我国古代四大发明之一的是()。
A. 指南针 B. 司南 C. 古代罗盘
2. 晴朗的夜晚,我们可以利用()来辨别方向。
A. 星星 B. 月亮 C. 北斗星
3. 太阳下菲菲的影子在她的东面,太阳在()面。
A. 东 B. 西 C. 南
4. 东东向西走了 10 米,再向右转,现在他面向()方。
A. 东 B. 北 C. 南
5. 刮风时,学校的国旗向西北方向飘,刮的是()风。

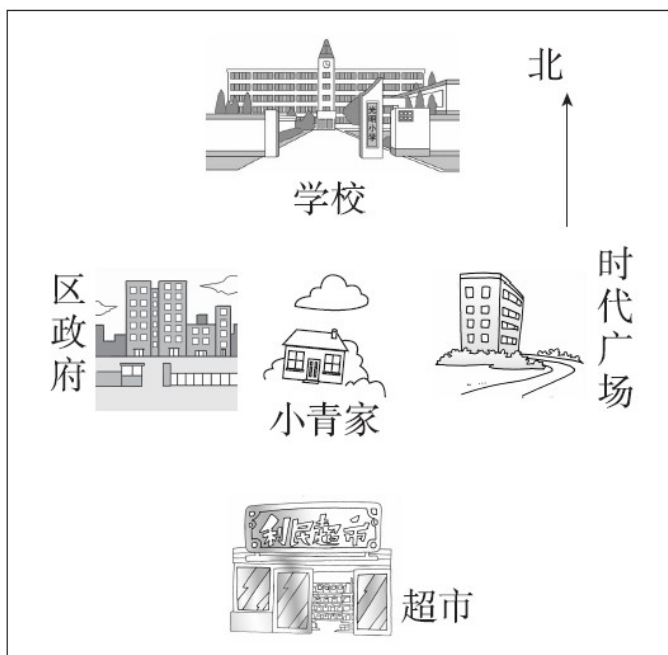
A. 东北

B. 西北

C. 东南

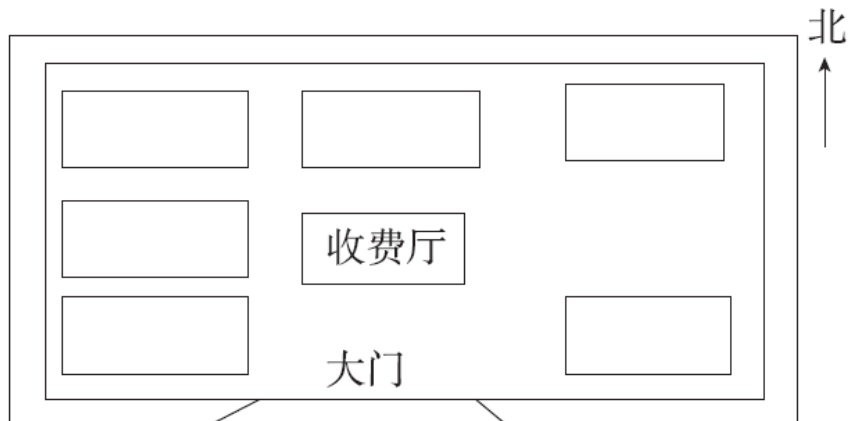
三、看图填空。(8分)

小青家的南面是(), 小青家的东面是(), 小青家的西面是(), 小青家的北面是()。

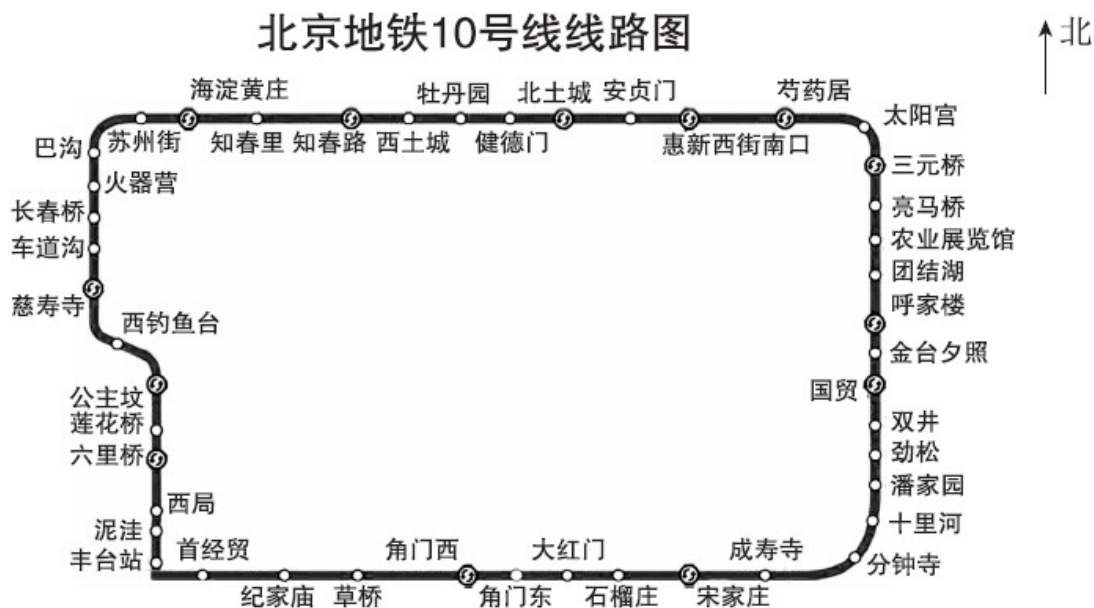


四、根据条件把下面的屋名填在相应的框里。(6分)

苗苗和爸爸一起去逛车展。他们走进大门，看到在收费厅的正北面是宝马屋，东南面是红旗屋，东北面是奥拓屋，西北面是捷达屋，正西面是东风屋，西南面是奥迪屋。



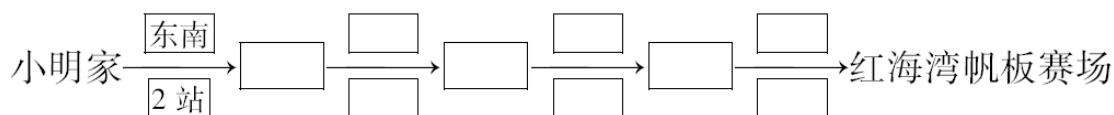
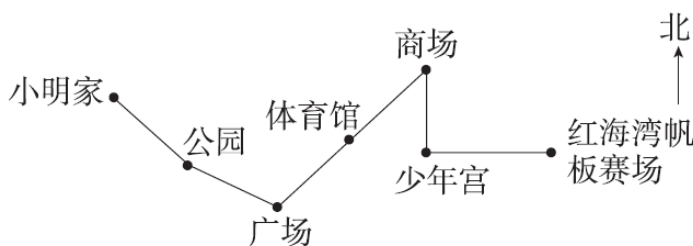
五、根据北京地铁10号线线路图填空。(每题2分,共8分)



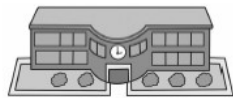
1. 纪家庙在宋家庄的()方, 团结湖在劲松的()方。
2. 北土城在西土城的()方, 西局在莲花桥的()方。
3. 团结湖在角门东的()方向, 车道沟在知春里的()方向。
4. 公主坟在草桥的()方向, 呼家楼在安贞门的()方向。

六、填一填、圈一圈。(1题9分,2题6分,共15分)

1. 下面是小明从家出发到红海湾帆板赛场的乘车路线图。



2. 摩托车在小芳的(南、北)面, 在小芳北面的是(摩托车、图书馆)。



体育馆



摩托车



小芳

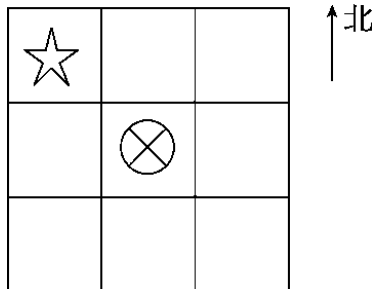
我面向西方。



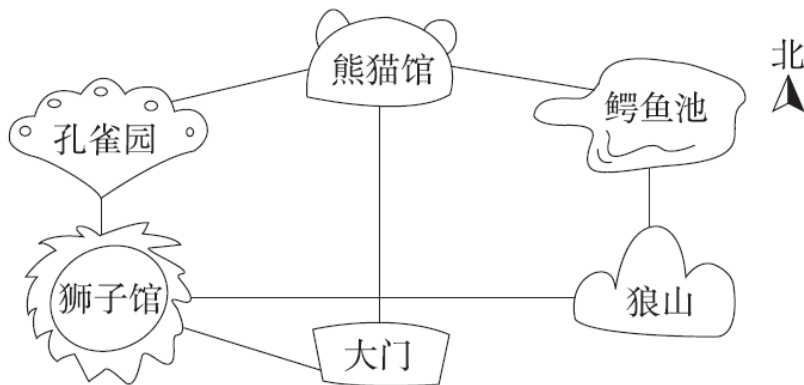
图书馆

七、画一画，填一填。(每题4分，共12分)

1. 在⊗的东南面画一个△，在⊗的西南面画一个○，在⊗的东北面画一个□。
2. ☆在⊗的()面，⊗在☆的()面。
3. □的西南方向有()和()。



八、(变式题)根据动物园部分场馆的位置示意图填空。(每题6分，共12分)



1. 周末，天天和爸爸去动物园玩。如果他们从大门进入，他们先向()方向走到狮子馆，然后向()方走到孔雀园，再向()方向走到熊猫馆。
2. 如果他们从大门进入，先向()方走到熊猫馆，然后向()方向走到鳄鱼池，再向()方走到狼山。

九、(变式题)请你根据下面的叙述将各比赛场馆填入适当的位置。

(16分)

田径赛场在会场中心正北方。

跳水赛场在田径赛场的正东方。

足球赛场在会场中心的西北方。

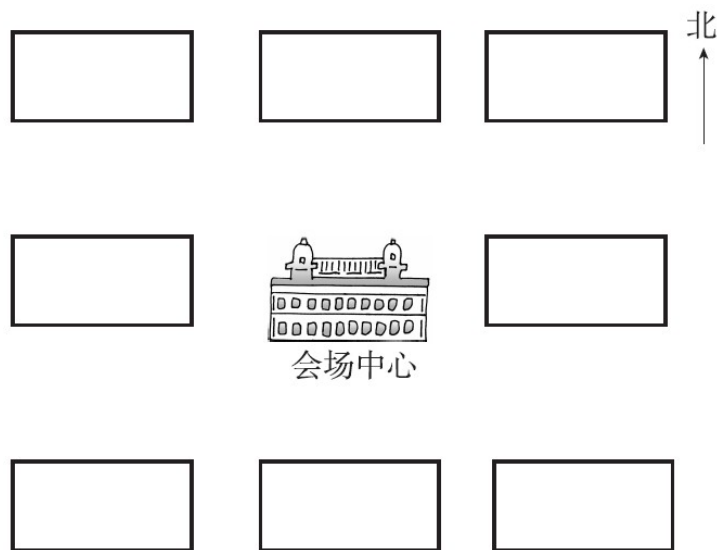
体操赛场在会场中心的西南方。

帆船赛场的东北方是田径赛场。

会场中心和田径赛场都在篮球赛场的正北方。

乒乓球赛场在田径赛场的东南方，在会场中心的正东方。

排球赛场在跳水赛场和乒乓球赛场的正南方。



答案

一、1. 西南 东南

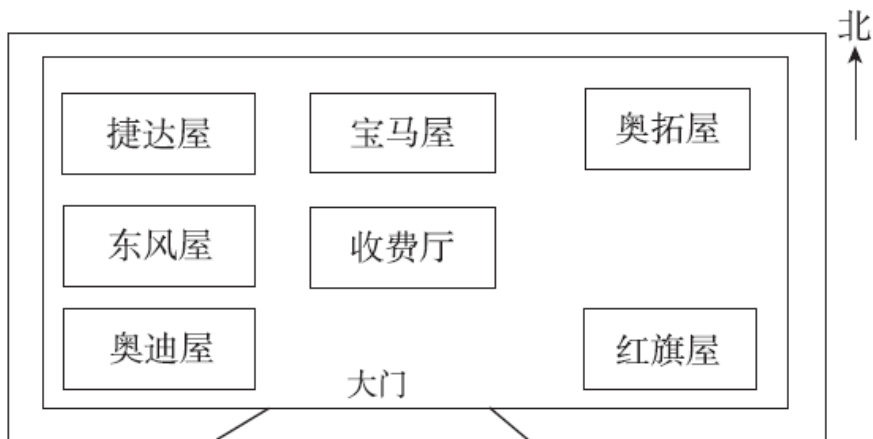
2. 东 西 西 东 南 北

3. 西 东 4. 西 东北 5. 西南

二、1. A 2. C 3. B 4. B 5. C

三、超市 时代广场 区政府 学校

四、



五、1. 西 北 2. 东 南

3. 东北 西南 4. 西北 东南

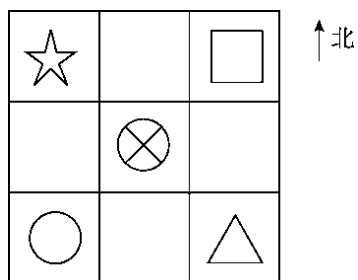
六、1. 广场 东北 2站 商场 南 1站

少年宫 东 1站

2. 南 图书馆

易错点拨：小芳面向西方，左边是南方，右边是北方，后面是东方。

七、1.



2. 西北 东南

3. ⊗ ○

八、1. 西北 北 东北 2. 北 东南 南

九、

