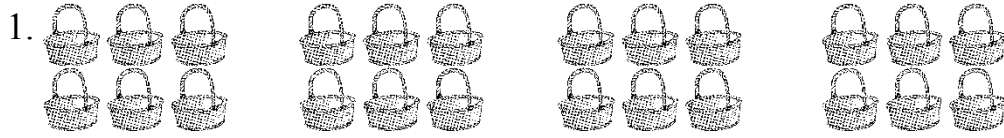


第2单元跟踪检测卷

一、填一填。(每空1分,共16分)





一共有()个竹篮,平均分成了()份,每份()个。

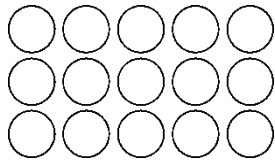
2. 在算式 $12 \div 3 = \star$ 中,()是被除数,3是(),商是()。想口诀()可以求出商。



10个汉堡,每2个装一袋,可以装()袋。


4. 用五六三十这句口诀可以写出的除法算式是()和()。

5. 用右图中的  能拼成()个 , 算式是()。



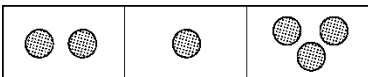
6. 6只小鸟有()条腿。()只青蛙有20条腿。

7. 右图是中国人民解放军建军 90 周年阅兵式空中分队预演队形示意图。



- (1) 一共有()架飞机。
- (2) 如果每 3 架飞机摆一个造型，可以摆()个同样的造型。

二、辨一辨。(对的画“√”，错的画“×”)(每题 1 分，共 5 分)

1.  左图中的分法是平均分。 ()


2. 计算 $3 \times 6 = 18$ 和 $18 \div 6 = 3$ 所用的口诀是一样的。 ()

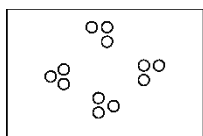
3. 被除数和除数都是 6，商是 36。 ()

4. 看图列式为 $6 \div 3 = 2$ 。 ()

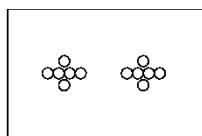
5. 把 16 个苹果分给 4 个小朋友，每个小朋友一定分 4 个。()

三、选一选。(把正确答案的序号填在括号里)(每题 2 分，共 10 分)

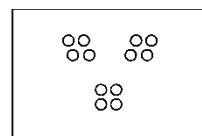
1. 把 12 个  平均分成 3 份，哪种分法对？你的选择是()。



①




②



③

2.



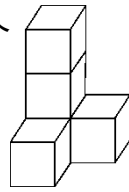
把这些蘑菇平均分成2份，小兔吃掉一份后，还剩()个蘑菇。

①4

②5

③6

3. 有20个 ，能摆成几个  ? 列式正确的是()。



① $20 \div 4 = 5$ ② $20 \div 5 = 4$ ③ $4 \times 5 = 20$

4. 下面的算式中，商不是1的算式是()。

① $5 \div 5$ ② $2 \div 2$ ③ $2 \div 1$

5. 下列选项中可以用 $8 \div 2$ 表示的是()。

①把8分成2份 ②8里面有几个2 ③把8平均分成4份

四、计算挑战。(共32分)

1. 看谁算得又对又快。(每题1分，共12分)

$6 \times 2 =$

$36 \div 6 =$

$18 - 9 =$

$10 \div 5 =$

$16 \div 4 =$

$30 + 5 =$

$9 \div 3 =$

$18 \div 6 =$

$20 - 5 =$

$6 \div 6 =$

$5 \div 5 =$


$15 \div 3 =$




2. 小树叶落在哪儿好呢?(每题 1 分, 共 8 分)






14 ○ 7 = 7 3 ○ 2 = 5 2 ○ 2 = 1 6 ○ 6 = 0

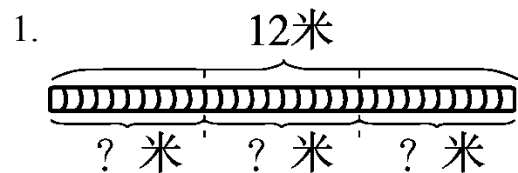
1 ○ 5 = 5 36 ○ 6 = 30 4 = 12 ○ 3 18 = 9 ○ 9

3.  遮住的数是几?(每题 2 分, 共 12 分)

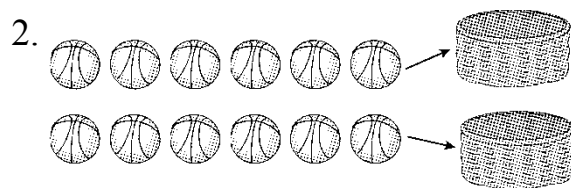
16 ÷  = 4  ÷ 4 = 2 20 ÷  = 5

 ÷ 5 = 5  ÷ 1 = 1 6 ×  = 24

五、看图列式计算。(每题 4 分, 共 8 分)



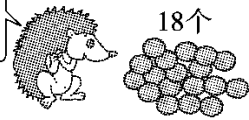
□ ○ □ = □ (米)



□ ○ □ = □ (个)

六、走进生活, 解决问题。(1 题 5 分, 其余每题 6 分, 共 29 分)

1. 每次运6个，
几次运完？



3次运完，平均
每次运几个？

$$\square \bigcirc \square = \square \quad (\quad)$$

$$\square \bigcirc \square = \square \quad (\quad)$$

2. 小猫吃鱼。



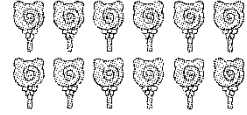
(1) 每盘有6条鱼，2盘一共有多少条鱼？

(2) 如果把这些鱼平均分给3只小猫，每只小猫分得几条鱼？

3. 平均每个小朋友分几支棒棒糖？




把12支棒棒糖分给豆豆和她的3个好朋友。




4. 春节之际，家家挂灯笼。

(1) 10 个灯笼，每个大门挂 2 个，一共可以挂几个大门？



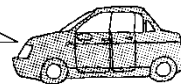
(2) 10 个灯笼，用去 2 个，还剩几个？

5. 4 个家庭共 24 人租车出去旅行。



限坐6人。

面包车



限坐4人。

小轿车

(1) 若都坐面包车，需要租几辆？

(2)若都坐小轿车，需要租几辆？

答案

一、1. 24 4 6

2. 12 除数 4 三四十二

3. 5 4. $30 \div 5 = 6$ $30 \div 6 = 5$

5. 3 $15 \div 5 = 3$

6. 12 5 [点拨]一只小鸟有2条腿，一只青蛙有4条腿。

7. (1)15 (2)5

二、1. \times 2. $\sqrt{\quad}$ 3. \times 4. \times 5. \times

三、1. ③ 2. ② 3. ② 4. ③ 5. ②

四、1. 12 6 9 2 4 35 3 3 15 1 1 5

2. - + \div - \times - \div +

3. 4 8 4 25 1 4

五、1. $12 \div 3 = 4$ 2. $12 \div 2 = 6$

六、1. $18 \div 6 = 3$ (次) $18 \div 3 = 6$ (个)

2. (1) $6 \times 2 = 12$ (条)

口答：2盘一共有12条鱼。

(2) $12 \div 3 = 4$ (条)

口答：每只小猫分得4条鱼。

3 . $3 + 1 = 4$ (个) $12 \div 4 = 3$ (支)

口答：平均每个小朋友分3支棒棒糖。

[点拨] 不要用 $12 \div 3$ ，因为豆豆和她的3个好朋友一共是4个小朋友。

4 . (1) $10 \div 2 = 5$ (个)

口答：一共可以挂5个大门。

(2) $10 - 2 = 8$ (个) 口答：还剩8个。

5 . (1) $24 \div 6 = 4$ (辆)

口答：需要租4辆。

(2) $24 \div 4 = 6$ (辆)

口答：需要租6辆。