




周测培优卷 7

一、我会换。(每题 5 分, 共 20 分)

1. 一张  能换()枚 。

2. 一张  能换()张 。

3. 一张  能换()张 , 也能换()张 。

4. 一张  能换()张  和()张 。

二、我会算。(每题 2 分, 共 20 分)

7 元 = () 角 5 角 + 8 元 = () 元 () 角

1 元 = () 分 = () 角 64 分 = () 角 () 分

8 角 + 2 角 = () 元 1 元 - 4 角 = () 角

7 角 + 9 角 = () 元 () 角 11 元 - 7 元 = () 元

6 元 + 5 元 6 角 = () 元 () 角 4 元 6 角 = () 元 () 角

三、我会按要求解题。(共 20 分)

1. 写出下面的钱数。(每题 3 分, 共 6 分)



() 元 () 角



() 元 () 角

2. 在○里填上“>”“<”或“=”。(每题1分,共6分)

8角○1元 9元○8元9角 3元○30角

42角○5元3角 100分○1元 12元○1元2角

3. 在()里填上合适的单位“元”或“角”。(每题2分,共8分)

买一个皮球要10()。 买一瓶牛奶要5()5()。

买一颗糖要5()。 买一个书包要48()8()。



四、走进生活,解决问题。(1题10分,2题20分,3题10分,共40分)



1.

要买的物品	付的钱数	应找的钱数
 18元		20元 - 18元 =
 6元3角		
 8角		

2.

 3元5角  5元  10元  8元

(1) 买一块  和一个  , 一共要多少钱?

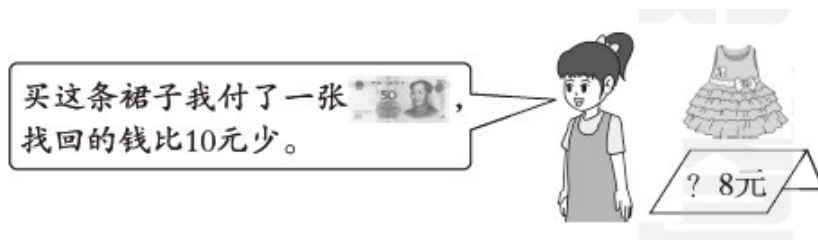
(2) 一个  比一块  便宜多少钱?

(3) 兰兰买一个  和一个  , 付给售货员20元钱, 应

找回多少钱？

(4) 用 13 元钱刚好可以买上面哪两种食物？

3. 裙子的价钱是多少？



答案

一、1.2 2.4 3.2 5 4.2 1(答案不唯一)

二、70 8 5 100 10 6 4 1 6 1 6 4 11 6 46

三、1.7 8 1 7

2. < > = < = >

3. 元 元 角 角 元 角

四、1. 2元 6元5角 - 6元3角 = 2角

$$2元 - 8角 = 1元2角$$

2. (1) 5元 + 10元 = 15元

口答：买一块三明治和一个汉堡，一共要15元钱。

(2) 5元 - 3元5角 = 1元5角

口答：一个面包比一块三明治便宜1元5角钱。

(3) 10元 + 8元 = 18元

$$20元 - 18元 = 2元$$

口答：应找回2元钱。

(4) 5元 + 8元 = 13元

口答：用13元钱刚好可以买一个鸡腿和一块三明治。

3. $50 - 2 = 48$ (元) 口答：裙子的价钱是48元。

[点拨] 付了一张50元，找回的钱比10元少，说明裙子的价钱一定是40多元，而裙子的价钱个位是8，所以裙子的价钱是48元。