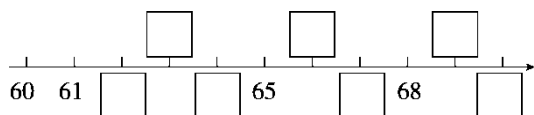


期中检测卷

一、填一填。(每空1分,共23分)

1. (1)按顺序填数。



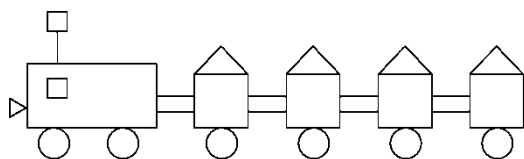
(2)65 前面的一个数是(), 后面的一个数是()。

(3)在 65 和 69 中, ()更接近 64, ()更接近 70。

2. 36 中的()在十位上, 表示()个十, 6 在()位上, 表示()个()。

3. 比 50 小, 个位上是 8 的数有()。

4. 这列小火车有()个正方形, ()个三角形, ()个圆, ()个长方形。



5. 如果把下图围成一个正方体, ()的对面是 5, 1 的对面是()。

三、算一算。(共 28 分)

1. 直接写出得数。(8 分)

$14 - 6 =$ $12 - 4 + 20 =$ $55 - 5 =$ $73 - 70 + 9 =$

$13 - 7 =$ $6 + 50 - 4 =$ $94 - 90 =$ $13 - 4 + 30 =$

2. 比大小。(6 分)

25 ○ 52

47 ○ 49

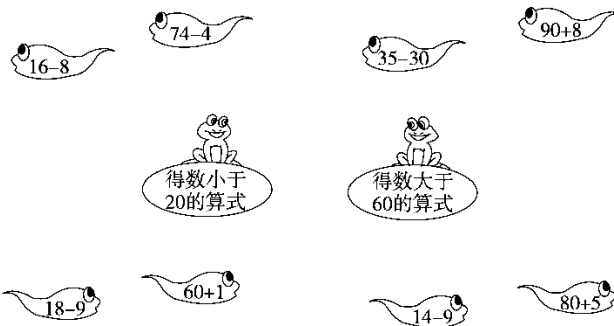
11 ○ 31

65 ○ 56

39 ○ 39

90 ○ 19

3. 小蝌蚪找妈妈(连一连)。(8 分)

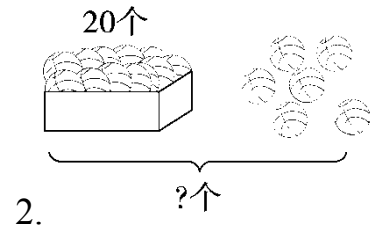
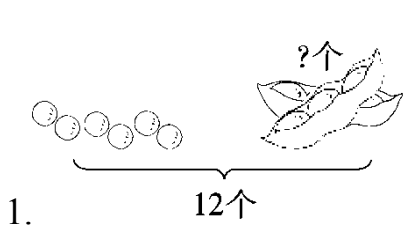


4. 在()里填上合适的数。(6 分)

$14 - () = 8$ $() - 7 = 30$ $11 - () = 9$

$16 - () = 7$ $() + 60 = 62$ $90 + () = 99$

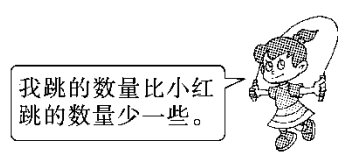
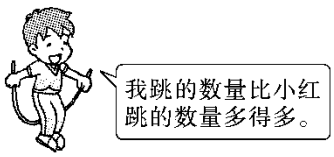
四、看图列式计算。(每题 3 分, 共 6 分)



$\square \bigcirc \square = \square$ () $\square \bigcirc \square = \square$ ()

五、猜一猜。(在合适的答案下面画“√”)(4分)

小红跳了 48 下。



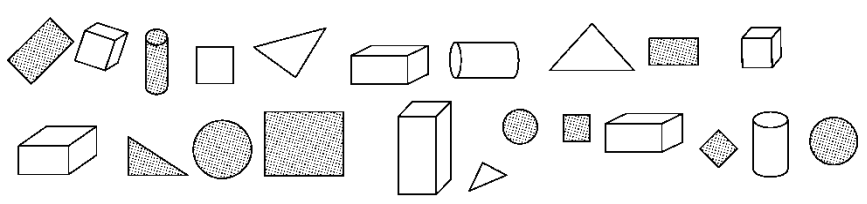
男孩可能跳了多少下？

45 下	52 下	85 下

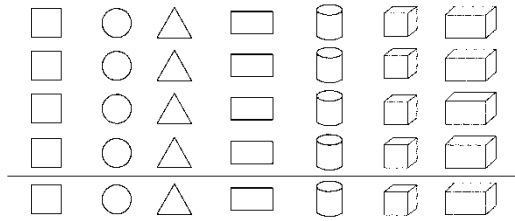
女孩可能跳了多少下？

45 下	52 下	85 下

六、走进图形世界。(共 8 分)



1. 按形状分一分，涂一涂。(4分)



2. 如果把这些图形分成两组，可以怎样分？把分组的结果表示出来。

(4分)

七、解决问题。(共 21 分)


1. (5分)



车上有多少位乘客？

$$\square \bigcirc \square = \square \quad (\quad)$$

2. (6分)

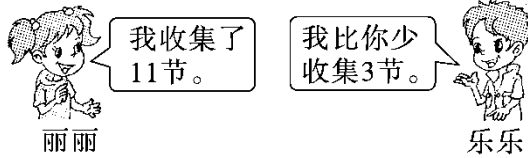


$$\square \bigcirc \square = \square \quad (\quad)$$

够() 不够()

3. 一年级一班开展“收集废电池，减少污染”活动，全班一共收集了

73节废电池。(10分)



(1)乐乐收集了多少节？

$$\square \bigcirc \square = \square \quad (\quad)$$

(2)乐乐和丽丽一共收集了多少节？

$$\square \bigcirc \square = \square \quad (\quad)$$

答案

一、1.(1)62 63 64 66 67 69 70

(2)64 66 (3)65 69

2.3 3 个 6 一

3.48, 38, 28, 18, 8

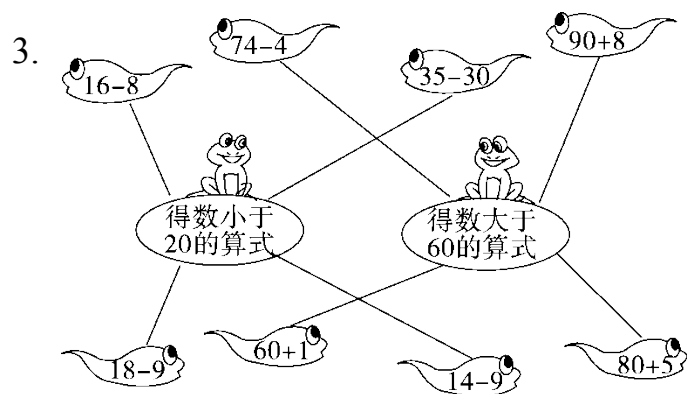
4.6 5 6 5

5.6 2

二、1.A 2.B 3.C 4.B 5.B

三、1.8 28 50 12 6 52 4 39

2.< < < > = >



4.6 37 2 9 2 9

四、1. $12 - 6 = 6$ (个) 2. $20 + 6 = 26$ (个)

五、男孩：85下 女孩：45下

六、1.略

2.(答案不唯一)

	平面图形	立体图形
个数	13	9

七、1. $12 - 3 = 9$ (位)

2. $5 + 40 = 45$ (名) 够(√)

3.(1) $11 - 3 = 8$ (节)

(2) $11 + 8 = 19$ (节)