

## 第四单元检测

一、直接写出得数。

$27 \div 3 =$      $6 \times 8 =$      $24 \div 4 =$      $28 \div 7 =$      $4 \times 9 =$      $35 \div 5 =$   
 $6 \times 3 =$      $14 \div 2 =$      $54 \div 6 =$      $16 \div 4 =$      $36 \div 6 =$      $64 \div 8 =$

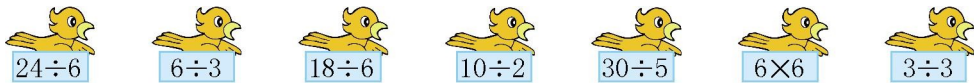
二、在○里填上“>”“<”或“=”。

$25 \div 5$  ○  $4$                    $36 \div 6$  ○  $2 \times 3$                    $16 \div 4$  ○  $4$   
 $4 \div 4$  ○  $16$                    $6 \div 3$  ○  $2$                    $20 - 5$  ○  $4$

三、在○里填上“+”“-”“×”或“÷”。

$5$  ○  $2 = 7$      $24$  ○  $4 = 6$      $5$  ○  $3 = 12$  ○  $3$   
 $6 = 24$  ○  $4$      $8$  ○  $4 = 2$      $30$  ○  $6 = 5$  ○  $1$

四、小鸟该吃哪条虫子?连一连。



五、填一填。

四六( )                  五( )三十五                  ( )九六十三  
 $4 \times ( ) = 24$                    $5 \times ( ) = 35$                    $( ) \times 9 = 63$   
 $24 \div ( ) = 6$                    $35 \div ( ) = 5$                    $63 \div ( ) = 9$

六、把表格填写完整。

被除数	18	40		28	24	16
除数	9	5	4			
商			9	7	6	4

七、( )里最大能填几?

$6 \times ( ) < 35$      $7 \times ( ) < 30$      $8 \times ( ) < 50$   
 $( ) \times 5 < 27$      $( ) \times 3 < 25$      $( ) \times 4 < 25$

八、解决问题。

1.



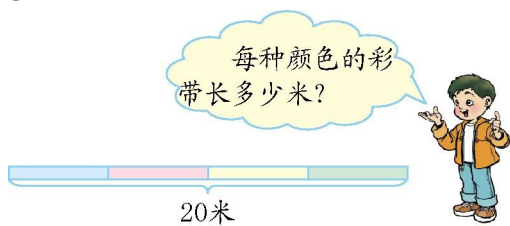
(1)坐大船需要几只?

(2)坐小船需要几只?

2.每瓶果汁多少钱?



3.



4.笼子里装着小鸡和小兔。



笼子里一共有20只兔爪。

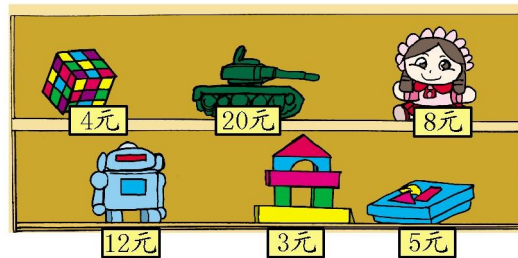


笼子里有16只鸡爪。

(1) 笼子里有几只小兔?

(2) 笼子里有几只小鸡?

5.



(1) 用64元可以买多少个布娃娃?

(2) 你还能提出哪些数学问题?

### 参考答案

一、 9 48 6 4 36 7 18 7 9 4 6 8

二、 > = = < = >

---

三、+ ÷ × + ÷ ÷ ÷ ×或÷

四、提示:上一行的得数分别是4、2、3、5、6、36、1,  
下一行的得数分别是2、4、6、36、1、3、5,连线略。

五、(按竖排填)二十四 6 4 七 7 7

七 7 7

六、2 8 36 4 4 4

七、5 4 6 5 8 6

八、1.(1) $24 \div 4 = 6$ (只) (2) $24 \div 3 = 8$ (只)

2. $27 \div 9 = 3$ (元)

3. $20 \div 4 = 5$ (米)

4.(1) $20 \div 4 = 5$ (只) (2) $16 \div 2 = 8$ (只)

5.(1) $64 \div 8 = 8$ (个)

(2)答案不唯一,如:买一个玩具娃娃的钱数可以买几个魔方? $8 \div 4 = 2$ (个)