

周测培优卷3

一、小火车开起来。(每题6分,共18分)


1.

11	16	13	15	14	12	10
----	----	----	----	----	----	----

 _____

2.

12	15	9	8	10	11	16
----	----	---	---	----	----	----

 _____

3. 

二、我会算得又对又快。(每题1分,共14分)

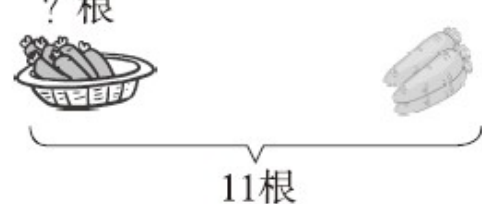
$13 - 8 =$ $15 - 9 =$ $11 - 2 =$ $13 - 6 =$

$12 - 3 =$ $13 - 4 =$ $11 - 5 =$ $14 - 5 =$

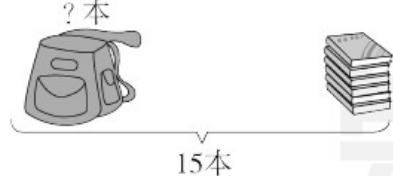
$4 + 9 - 8 =$ $9 + 9 - 8 =$ $15 - 8 + 7 =$

$9 + 5 - 6 =$ $11 - 7 + 8 =$ $13 - 6 + 10 =$

三、我会看图列式计算。(每题4分,共8分)

1. ? 根

11根

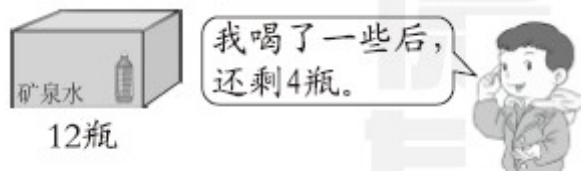
$\square \bigcirc \square = \square$ ()

2. ? 本

15本

$$\square \bigcirc \square = \square \quad (\quad)$$

四、走进生活，解决问题。(每题 12 分，共 60 分)

1. 我喝了多少瓶矿泉水？



$$\square \bigcirc \square = \square \quad (\quad)$$

2. 有 12 人要来跳绳，还有几人没来？



$$\square \bigcirc \square = \square \quad (\quad)$$

3. 松鼠爱吃松果。



(1) 一共摘了 12 个松果。吃了 8 个，还剩几个？

$$\square \bigcirc \square = \square \quad (\quad)$$

(2) 房子里有 7 只松鼠，一共有多少只松鼠？

$$\square \bigcirc \square = \square \quad (\quad)$$

4. 每人要栽 12 棵树。



(1) 明明还要栽几棵？

$$\square \bigcirc \square = \square \quad (\quad)$$

(2) 冬冬已经栽了几棵？

$$\square \bigcirc \square = \square \quad (\quad)$$

5. 水果超市。



(1) 买的苹果比火龙果多几个？

$$\square \bigcirc \square = \square \quad (\quad)$$

(2) 买的桃比苹果少几个？

$$\square \bigcirc \square = \square \quad (\quad)$$

(3) 请你再提出一个问题并解答。

$$\square \bigcirc \square = \square \quad (\quad)$$

答案

一、1. 3 8 5 7 6 4 2

2. 16 19 13 12 14 15 20

3. 5 13 17 9

二、5 6 9 7 9 9 6 9 5 10 14 8 12 17

三、1. $11 - 3 = 8$ (根)

2. $15 - 6 = 9$ (本)

四、1. $12 - 4 = 8$ (瓶)

2. $12 - 5 = 7$ (人)

[点拨]用总人数 - 现在来的人数 = 还没有来的人数。

3. (1) $12 - 8 = 4$ (个)

(2) $5 + 7 = 12$ (只)

4. (1) $12 - 8 = 4$ (棵)

(2) $12 - 5 = 7$ (棵)

5. (1) $14 - 7 = 7$ (个)

(2) $14 - 5 = 9$ (个)

(3) 买的火龙果和桃一共有多少个？

$7 + 5 = 12$ (个)

(答案不唯一)