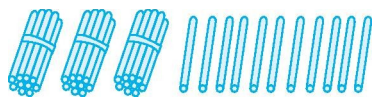
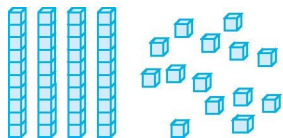


第四单元检测卷 (2)

一、圈一圈,数一数。

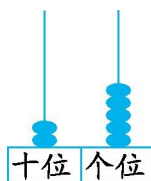


有 根小棒



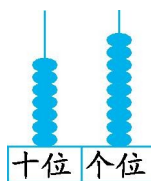
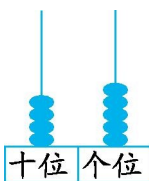
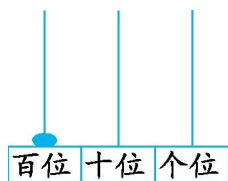
有 个小正方体

二、填一填。



 个十和 个一是 个十和 个一是

三、写一写,读一读。



写作: 写作: 写作:

读作: 读作: 读作:

四、小鸟回家。

43

57

61

92

85

大于50

小于50

32

15

51

76

29

五、看谁算得又对又快。

$40+4=$

$3+50=$

$66-6=\square$

$70+9=$

$48-8=$

$33-3=\square$

$30+6=$

$54-4=$

$7+20=\square$

六、找规律写数。

1.	79	81		85		
2.	20		30	35		45
3.			98		96	
4.	46			52		

七、在合适的答案下面画“√”。



大猴子可能摘了多少个桃子？

74 个	52 个	17 个




2.

可能有多少箱香蕉?

79 箱	89 箱	40 箱

八、解决问题。




1.

2. 箱子能装下吗?



3. 还剩几颗?



4. 每人一瓶, 还差几瓶?

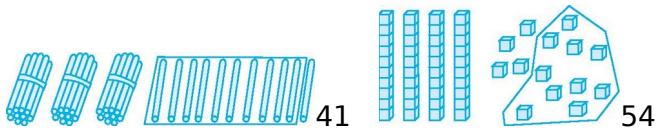


九、用 2、5、8 三张卡片中的两张组成两位数, 最大的两位数是多少?

最小的两位数是多少?

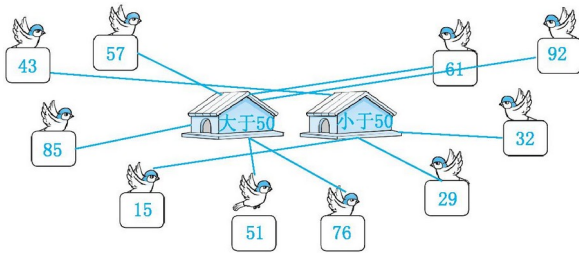
参考答案

一、



二、4 3 43 2 5 25

三、100 一百 45 四十五 79 七十九



四、

五、44 53 60 79 40 30 36 50 27

六、1.83 87 89 2.25 40

3.100 99 97 95 4.48 50 54 56

七、1.提示：52个

2.提示：79箱

八、1.8个

2. $30+6=36$ (本) $50>36$ 能装下。

3. $29-9=20$ (颗)

4. $38-30=8$ (瓶)

九、85 25