


## 第一单元检测

### 一、快乐的课外活动小组。

美术组



体操组



合唱组



舞蹈组



1. 根据上面的信息填写下表。


组别	美术组	体操组	合唱组	舞蹈组
人数	( )	( )	( )	( )

2. ( ) 的人数最多。

3. 体操组比美术组多( )人。

4. 我想参加( )组, 这个组有( )人。

### 二、绿色蔬菜。



1. 用自己喜欢的方法统计每种蔬菜的数量。


2. 请你数一数, 填一填。

蔬菜				
个数	( )	( )	( )	( )

---

3.上图中,( )的个数最多,( )的个数最少。

4.西红柿比青椒多( )个。

5.你还能提出什么数学问题?解答出来。

三、下面是二(3)班同学喜欢某个季节的调查情况。

季节	春	夏	秋	冬
人数	16	9	12	7

1.喜欢( )季的人数最多,喜欢( )季的人数最少。

2.这个班一共有多少人?

3.喜欢冬季的比喜欢秋季的少几人?

4.若组织同学们游玩,安排在哪个季节比较好呢?

图书名称	《十万个为什么》	《一千零一夜》	《西游记》	《喜羊羊与灰太狼》
人数	正 下	正 正	正 正 正 下	正 正 下

四、下表是实验小学二(1)班同学喜欢图书的情况。(每人只能选一种)

1. 把记录结果填在统计表中。

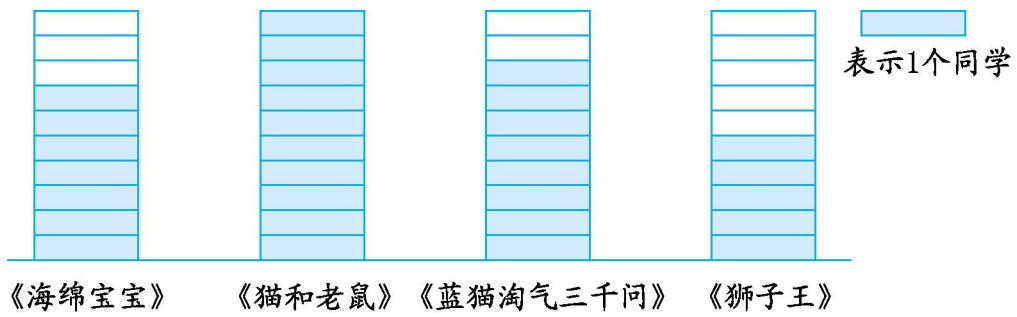
图书名称	《十万个为什么》	《一千零一夜》	《西游记》	《喜羊羊与灰太狼》
人数	( )	( )	( )	( )

2. 喜欢( )的人数最多,喜欢( )的人数最少。

3. 这个班一共有多少人?


4. 喜欢《西游记》的比喜欢《十万个为什么》的多几人?

五、我们喜欢看的动画片。



1.喜欢看( )的最多,喜欢看( )的最少。

2.一共统计了多少人?

3.如果每个  表示 2 个同学,上面的数据分别是多少?填在下表

动画片名称	《海绵宝宝》	《猫和老鼠》	《蓝猫淘气三千问》	《狮子王》
人数	( )	( )	( )	( )

中。

---

参考答案

一、 1.4 6 7 5 2.合唱组 3.2

4.答案不唯一,如:舞蹈 5

二、 1.画法不唯一,如:

			
✓✓✓✓ ✓✓✓✓	正正	正正T	○○○○ ○○

2.8 10 12 6

3.西红柿 芸豆

4.2

5.答案不唯一,如:青椒比芸豆多多少个?

$$10-6=4(\text{个})$$

三、 1.春 冬

2. $16+9+12+7=44(\text{人})$

3. $12-7=5(\text{人})$

---

4.若组织同学们游玩,建议安排在春季比较好,因为喜欢春季的人数比较多。

四、1.8 9 17 13

2.《西游记》 《十万个为什么》

3. $8+9+17+13=47$ (人)

4. $17-8=9$ (人)

五、1.《猫和老鼠》 《狮子王》

2. $7+10+8+5=30$ (人)

3.14 20 16 10