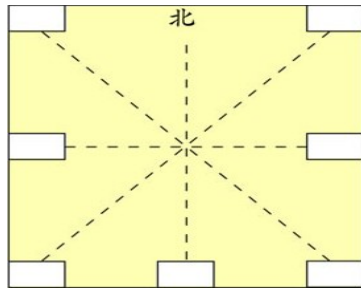
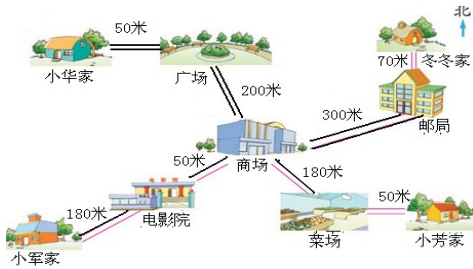


## 1.2 认识东北、西北、东南、西南

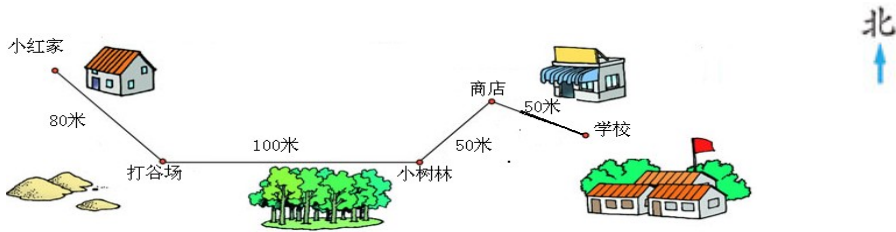
1、小马虎制作了一个方向板，标出北后，其他的方向忘了，你能帮他填完整吗？



- 2、(1)小华从家向( )走( )米,再向( )走( )米到商场。
- (2)小芳从家向( )走( )米,再向( )走( )米到商场。
- (3)冬冬从家向( )走( )米,再向( )走( )米到商场。
- (4)小军从商场向( )走( )米,再向( )走( )米到家。



3、小红要到学校，从家出发向\_\_走\_\_米到打谷场，再向\_\_走\_\_米到小树林，再向\_\_走\_\_米到商店，最后向\_\_走\_\_米到学校。



答案：

1、略

2、(1) 东 50 东南 200 (2) 西 50 西北 180

(3) 南 70 西南 300 (4) 西南 50 西南 180

3、东南 80 东 100 东北 50 东南 50