
期末检测卷

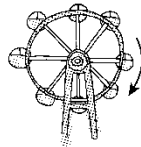
一、我会填。(每空 1 分，共 22 分)

1. 在计算有余数的除法时，()必须比()小。
2. 用五九四十五这句口诀计算的两道除法算式是()和()。
3. 72 支铅笔，平均分给 9 个小朋友，每个小朋友分()支。
4. 一个四位数，千位和十位都是 8，其余数位是 0，这个数读作：()，写作：()。
5. 在()里填上合适的质量单位。
一块橡皮约重 6()
一袋面粉重 50()
一只鸭重 2000()
一袋盐重 250()
6. 按规律填数。
(1)5680、5690、()、()。
(2)14、21、()、35、()。

(3)6600、6400、()、()。

(4)1780、2780、()、()。

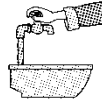
7. 下列现象是平移的在()里画“○”，是旋转的画“△”。



()



()



()

二、我是小法官。(对的画“√”，错的画“×”)(每题1分，共5分)

1. 32个篮球分给4个年级，每个年级分8个。 ()

2. 荡秋千是平移现象。 ()

3. 一个梨重250克，4个梨重1千克。 ()

4. 读8009时，中间的零都不读。 ()

5. 某大桥长2058米，约2000米。 ()

三、我会选。(每题2分，共10分)

1. 电脑小组共有27人，如果每3人合用一台电脑，需要()台。

A. 9

B. 8

C. 7

2. 4080的两个“0”()。

A. 都读出来

B. 只读一个零

C. 都不读

3. 下面字母中有()个是轴对称图形。

HAPPY

A . 2

B . 3

C . 4

4 . 989 最接近()。

A . 1000

B . 900

C . 800

5 . 用算盘记数的时候，一个上珠表示()。

A . 1

B . 0

C . 5

四、我会算。(每题 8 分，共 24 分)

1 . 直接写出得数。

$5 \times 6 =$

$32 \div 8 =$

$98 - 45 =$

$63 \div 7 =$

$81 \div 9 =$

$40 \div 5 =$

$96 + 25 =$

$8 \times 7 =$

$900 + 700 =$

$6000 + 600 =$

$150 + 40 =$

$4000 - 900 =$

$4300 - 3000 =$

$650 + 80 =$

$300 + 900 =$

$2800 - 600 =$

2 . 竖式计算。

$45 \div 9 =$

$76 \div 8 =$

 $35 \div 6 =$

$56 \div 8 =$

3. 计算下列各题。

$68 + 5 \times 5$

$98 - 27 \div 3$

=

=

=

=

$(16 + 38) \div 6$

$8 \times (24 \div 3)$

=

=

=

=

五、下面是二(1)班同学喜欢的运动项目统计情况。(1题4分,其余

每题3分,共13分)

足球	正 _下
----	----------------

篮球	正正
排球	正正T
踢毽子	正正正正正正

1.把上面的统计结果填入下表中。

项目	足球	篮球	排球	踢毽子
人数				

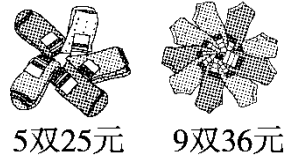
2.喜欢哪种运动项目的人最多？喜欢哪种运动项目的人最少？

3.如果让你给学校买体育器材，你会多买什么器材？为什么？

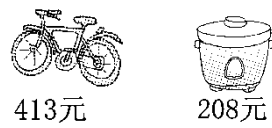
4.你还能提出其他数学问题吗？

六、解决问题。(4题6分，其余每题5分，共26分)

1.哪一种袜子较便宜？



2. 买一辆自行车和一个电饭锅，爸爸带 600 元够吗？



3. 有 68 千克苹果，如果每筐苹果 9 千克，至少需要装多少筐？



4. 灯笼按下面的方式排列。



(1)第 19 个灯笼是什么颜色的？

(2)第 36 个灯笼是什么颜色的？

5 . 小松鼠采了 43 个松果，他准备吃 9 天，还要采几个才够它每天吃 5 个？

答案

一、1. 余数 除数 2. $45 \div 5 = 9$ $45 \div 9 = 5$ 3. 8

4. 八千零八十 8080 5. 克 千克 克 克

6. (1) 5700 5710 (2) 28 42

(3) 6200 6000 (4) 3780 4780

7. \triangle \bigcirc \triangle

二、1. \times 2. \times 3. \checkmark 4. \times 5. \checkmark

三、1. A 2. B 3. B 4. A 5. C

四、1. 30 4 53 9 9 8 121

56 1600 6600 190 3100

1300 730 1200 2200

$$2. 45 \div 9 = 5$$

$$76 \div 8 = 9 \dots 4$$

$$\begin{array}{r} 5 \\ 9 \overline{) 45} \\ \underline{45} \\ 0 \end{array}$$

$$\begin{array}{r} 9 \\ 8 \overline{) 76} \\ \underline{72} \\ 4 \end{array}$$

$$35 \div 6 = 5 \dots 5$$

$$56 \div 8 = 7$$

$$\begin{array}{r} 5 \\ 6 \overline{) 35} \\ \underline{30} \\ 5 \end{array}$$

$$\begin{array}{r} 7 \\ 8 \overline{) 56} \\ \underline{56} \\ 0 \end{array}$$

$$3. \quad 68 + 5 \times 5 \qquad 98 - 27 \div 3$$

$$= 68 + 25 \qquad = 98 - 9$$

$$= 93 \qquad = 89$$

$$(16 + 38) \div 6 \qquad 8 \times (24 \div 3)$$

$$= 54 \div 6 \qquad = 8 \times 8$$

$$= 9 \qquad = 64$$

五、1. 8 10 12 30

2. 喜欢踢毽子的人最多，喜欢足球的人最少。

3. 我会多买毽子，因为喜欢踢毽子的人最多。

4. 略。

六、1. $25 \div 5 = 5(\text{元})$ $36 \div 9 = 4(\text{元})$ $5 > 4$

答：9双装便宜。

2. 413元超过400元，208元超过200元，

$$200 + 400 = 600(\text{元}) \quad 413 + 208 \text{ 大于 } 600$$

答：爸爸带600元不够。

3 . $68 \div 9 = 7(\text{筐}) \dots 5(\text{千克})$ $7 + 1 = 8(\text{筐})$

答：至少需要装 8 筐。

4 . (1) $19 \div 5 = 3(\text{次}) \dots 4(\text{个})$

答：第 19 个灯笼是红色的。

(2) $36 \div 5 = 7(\text{次}) \dots 1(\text{个})$

答：第 36 个灯笼是黄色的。

5 . $5 \times 9 - 43 = 2(\text{个})$

答：还要采 2 个才够它每天吃 5 个。