

周测培优卷2

一、看谁算得又对又快。(每题1分,共16分)

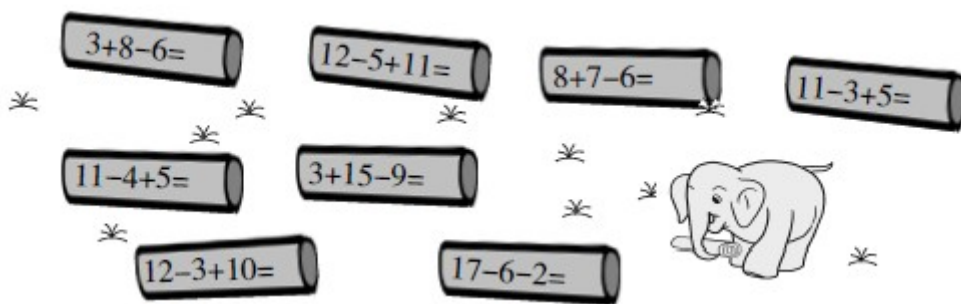
$13 - 6 =$ $12 - 6 =$ $15 - 9 =$ $11 - 4 =$

$13 - 7 =$ $18 - 9 =$ $15 - 7 =$ $8 + 5 =$


$11 - 5 =$ $6 + 9 =$ $4 + 7 =$ $11 - 6 =$

$13 - 4 =$ $12 - 8 =$ $16 - 9 =$ $12 - 7 =$

二、帮大象搬木头。(每题2分,共16分)







三、我会按要求做题。(共48分)




1. 在  里填上“+”或“-”。(每题2分,共12分)


$11 \text{  } 5 = 6$ $12 \text{  } 3 = 9$ $9 \text{  } 4 = 13$




$8 \text{  } 8 = 16$ $14 \text{  } 5 = 9$ $12 \text{  } 7 = 5$




2. 在  里填上“>”“<”或“=”。(每题2分,共12分)

$11 - 9 \text{  } 2$ $13 - 4 \text{  } 11$ $14 - 6 \text{  } 7$

$11 - 7 \text{  } 3$ $16 - 9 \text{  } 5$ $13 - 6 \text{  } 8$

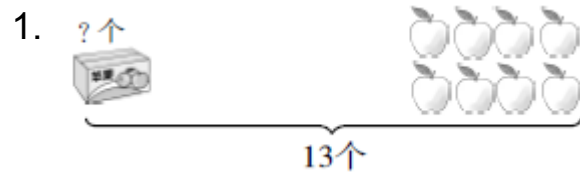
3. 在  里填上合适的数。(每题2分,共12分)

$\text{} - 8 = 4$ $13 - \text{} = 5$ $3 + \text{} = 12$

$15 - \text{} = 9$ $17 - \text{} = 8$ $\text{} + 8 = 16$

4. 写出四道差是 5 的减法算式。(12 分)

四、我会看图列式计算。(每题 5 分, 共 10 分)



$$\square \bigcirc \square = \square \text{ (个)}$$



$$\square - \square = \square \text{ (个)} \quad \square - \square = \square \text{ (个)}$$

五、走进生活, 解决问题。(1 题 4 分, 2 题 6 分, 共 10 分)

1. 聪聪带了多少钱?



$$\square \bigcirc \square = \square \text{ ()}$$

2. 一共有 14 只鸡。



(1) 右边有 8 只，左边有几只？

$$\square \bigcirc \square = \square (\quad)$$

(2) 母鸡有 9 只，公鸡有几只？

$$\square \bigcirc \square = \square (\quad)$$

答案

一、 $7\ 6\ 6\ 7$

$6\ 9\ 8\ 13$

$6\ 15\ 11\ 5$

$9\ 4\ 7\ 5$

二、 $5\ 18\ 9\ 13\ 12\ 9\ 19\ 9$

三、 $1.\ -\ -\ +\ +\ -\ -$

$2.\ =\ <\ >\ >\ >\ <$

$3.\ 12\ 8\ 9\ 6\ 9\ 8$

$4.\ 6-1=5\ 10-5=5$

$13-8=5\ 11-6=5$

[点拨] 答案不唯一。

四、 $1.\ 13-8=5$

$2.\ 14-6=8\ 14-8=6$

五、 $1.\ 13-6=7(\text{元})$

$2.\ (1)\ 14-8=6(\text{只})$

$(2)\ 14-9=5(\text{只})$