

期中跟踪检测卷

一、填一填。(每空1分,共20分)

1. 28 里面有()个 7, ()平均分成 6 份, 每份是 8。

2. 用六七四十二写出的两道除法算式是()和()。

3. 电风扇扇叶转动是()现象, 拉开抽屉是()现象。

(填“平移”或“旋转”)

4. 计算 $35 - 15 \div 5$ 时, 要先算()法, 后算()法。

5. 在○里填上“+”“-”“×”“÷”。

$10 \bigcirc 3 = 7$

$6 \bigcirc 7 = 42$

$48 \bigcirc 8 = 6$



$12 \bigcirc 39 = 51$

6. 在()里填上合适的数。

$30 \div 6 = () \div 2$

$36 \div () = 45 - 39$

$63 \div () = 18 \div 2$

7. ()只  56 条腿, ()只  30 条腿。

8. 写出两个轴对称的汉字:()。

9. 小花和她的 5 个小伙伴每人有 6 个桃, 他们一共有()个桃,

如果把它们平均分给 9 个小朋友, 每个小朋友分得()个桃。

二、辨一辨。(对的画“√”，错的画“×”)(每题 1 分，共 5 分)

1. 用“正”字统计 5 月份天气情况，一个“正”字代表 1 天。 ()
2. $60 - 23 - 18$ 与 $60 - (23 - 18)$ 的运算顺序不同，但运算结果相同。()
3. 车在行驶的过程中，既有平移现象，也有旋转现象。 ()
4. 有的口诀只能写一道除法算式。 ()
5. 要求被除数，有时用商乘除数，有时用商除以除数。 ()

三、选一选。(把正确答案的序号填在括号里)(每题 2 分，共 10 分)

1. 结果不可以用 $18 \div 3$ 表示的是()。

- ① 把 18 平均分成 3 份 ② 18 除以 6
③ 18 里面有几个 3

2. 下面剪纸作品中，不是轴对称图形的是()。



①



②



③

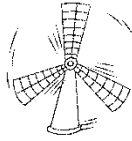
3. 从 36 中连续减去 9，减()次才能使结果等于 0。

- ① 27 ② 4 ③ 9

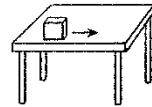
4. 下面的现象中，不是平移的是()。



①



②



③

5. $\bigcirc + \bigcirc + \bigcirc + \bigcirc = 32$ ， \bigcirc 代表的数是()。

①7

②8

③9

四、计算挑战。(共36分)

1. 看谁算得又对又快。(每题1分，共12分)

$15 - 5 =$

$6 \times 3 =$

$24 + 6 =$

$3 \times 4 \div 2 =$

$48 \div 6 =$

$35 \div 7 =$

$45 \div 5 =$

$40 - 5 \times 8 =$

$9 \div 1 =$

$8 \div 8 =$

$6 \times 6 =$

$1 + 1 \times 1 =$

2. 计算下面各题。(每题3分，共18分)

$6 + 3 \times 9$

$(42 + 14) \div 7$

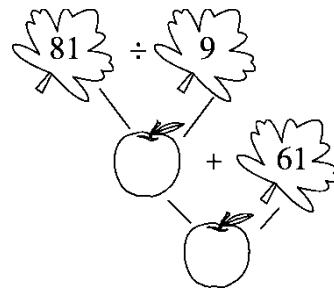

$2 \times 9 \div 3$

$65 - 30 \div 5$

$76 - (28 + 19)$

$72 \div 8 \div 3$

3. 先填空，再列综合算式。(每题3分，共6分)

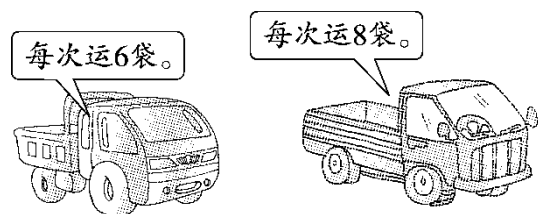


综合算式：_____

综合算式：_____

五、走进生活，解决问题。(1题5分，其余每题6分，共29分)

1. 星星农场今年粮食大丰收，准备运到粮店出售。两辆车同时运，
一共运了4次。一共运了多少袋粮食？



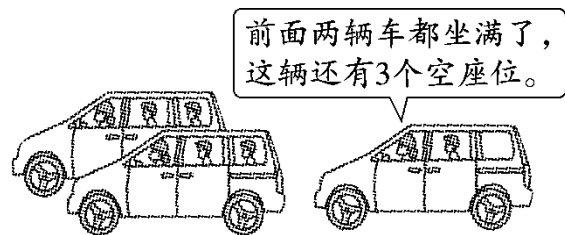
2. 二年级两个班举行了“中国历史”知识竞赛，分两轮进行，总得分
情况如下表。

二(1)班	二(2)班
56分	62分

第二轮二(1)班得了39分。第一轮两个班的得分一样多。第二轮

二(2)班得了多少分？

3. 每辆车可以坐8人，一共有多少人？



4.



(1) 买6只玩具熊和1辆玩具汽车，一共需要多少钱？






(2) 我有32元钱，能刚好买什么呢？能买几个呢？






(3) 你还能提出什么数学问题并解答吗？

5. 下面是小威记录的一个月的天气情况。

(1) 把记录的结果填在右面的表中。

	正正正丁
	正正一
	下

天气			
----	---	---	---

天数			
----	--	--	--

(2)这个月共有多少天？你认为这个月属于哪个季节？

答案

一、1.4 48 $2.42 \div 6 = 7$ $42 \div 7 = 6$

3. 旋转 平移 4. 除 减 5. - × ÷ +

6. 10 6 7 [点拨]先求出已知算式的结果,再求出括号里的未知

数。7. 7 5

8. 中、田(答案不唯一) 9.36 4

二、1.× 2.× 3.√ 4.√ 5.×

三、1.② 2.① 3.② 4.② 5.②

四、1.10 18 30 6 8 5 9 0 9 1 36 2

2.

3. 6 54 $9 \times (54 - 48) = 54$ 9 70 $81 \div 9 + 61 = 70$

五、 $1.4 \times (6 + 8) = 56$ (袋)

口答：一共运了 56 袋粮食。

2. $62 - (56 - 39) = 45$ (分)

口答：第二轮二(2)班得了 45 分。

3 . $8 - 3 = 5(\text{人})$ $2 \times 8 + 5 = 21(\text{人})$

口答：一共有 21 人。

4 . (1) $6 \times 9 + 8 = 62(\text{元})$

口答：一共需要 62 元钱。

(2) $32 \div 8 = 4(\text{个})$

口答：能刚好买玩具汽车，能买 4 个。

(3) 6 个皮球多少元钱？

$6 \times 7 = 42(\text{元})$

口答：6 个皮球 42 元钱。

[点拨]第(3)问答案不唯一。

5 . (1) 17 11 3

(2) $17 + 11 + 3 = 31(\text{天})$

口答：这个月共有 31 天，这个月属于冬季。