


周测培优卷 4

一、我会填。(4题6分,其余每题4分,共26分)

1. $54 \div 6 = (\quad)$, 用到的口诀是()。

2. $56 \div 7 = 8$, 表示把()平均分成()份, 每份是()。

3. 除数是9, 被除数是36, 商是()。

4. 在  里填上合适的数。

$5 \times \text{apple} = 45$

$32 \div 4 = \text{apple}$

$\text{apple} \times 6 = \text{apple}$

$36 \div 6 = \text{apple}$

$9 \times \text{apple} = 81$

$\text{apple} \div \text{apple} = 6$

5. 将下列算式填在合适的()里。

$35 \div 5$

$42 \div 7$

3×4

$8 \div 8$

() < () < () < ()

6. 在 ○ 里填上“+”“-”“ \times ”或“ \div ”。

$5 \text{ } \text{○} \text{ } 9 = 45$


$64 \text{ } \text{○} \text{ } 8 = 56$

$9 \text{ } \text{○} \text{ } 8 = 72$

$28 \text{ } \text{○} \text{ } 4 = 7 \text{ } \text{○} \text{ } 1$

二、我会选。(把正确答案的序号填在括号里)(每题4分,共12分)

1. 每次拿4个草莓,要拿()次才能拿完。



- ① 6 ② 5 ③ 4

2. 把28根小棒平均分给4个小朋友,每个小朋友可以分几根?正确的列式是()。

- ① $28 - 4$ ② $28 \div 4$ ③ $4 \div 28$

3. 16、24、 、40、48,里应填()。

- ① 26 ② 28 ③ 32

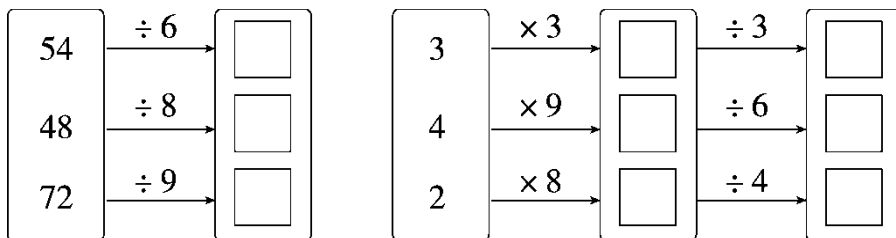
三、计算挑战。(共34分)

1. 看谁算得又对又快。(每题1分,共8分)

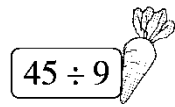
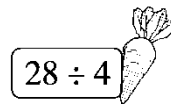
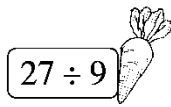
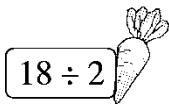




$9 \times 8 =$ $18 \div 2 =$ $54 \div 9 =$ $79 + 15 =$

$76 - 15 =$ $40 \div 8 =$ $63 \div 7 =$ $81 \div 9 =$

2. 我会算。(每空2分,共18分)



3. 小兔吃萝卜。(把得数相等的算式连一连)(8分)



四、走进生活，解决问题。(每题 14 分，共 28 分)

1. 每人每次乘坐旋转木马要 5 分钟，每人 9 元。



5人乘坐一次旋转木马需要多少钱?



40分钟旋转木马可运行几次?



2. 明明和丽丽进行写字比赛，明明 3 分钟写了 27 个字，丽丽 5 分

钟写了 40 个字，他们两个谁写得快?

答案

一、1. 9 六九五十四 2. 56 7 8 3. 4

4. 9 8 2 12 6 9 24 4 (第3、4、7、8个苹果里填的数不唯一)

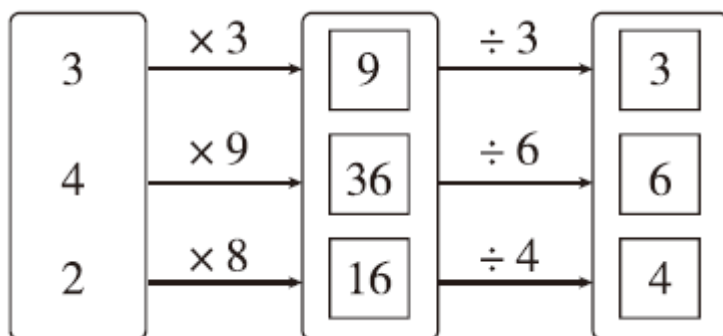
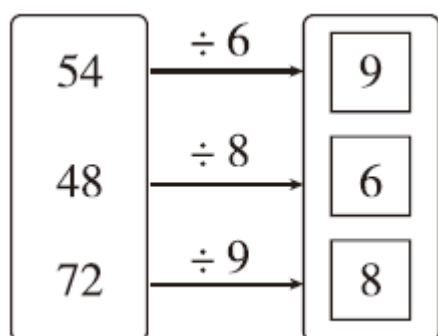
5. $8 \div 8$ $42 \div 7$ $35 \div 5$ 3×4

6. \times $-$ \times \div \times (最后一空答案不唯一)

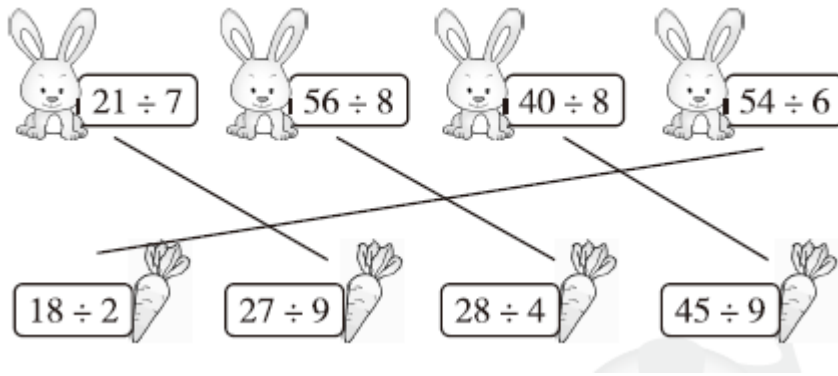
二、1. ① 2. ② 3. ③

三、1. 72 9 6 94 61 5 9 9

2.



3.



四、 $1.5 \times 9 = 45$ (元) $40 \div 5 = 8$ (次)

口答：5人乘坐一次旋转木马需要45元，40分钟旋转木马可运行8次。

[点拨] 会选择有关联的两个条件解决问题。

2. $27 \div 3 = 9$ (个) $40 \div 5 = 8$ (个) $9 > 8$

口答：明明写得快。