

第四单元达标测试卷

一、填一填。(每空1分,共26分)


1. $42 \div 6 = 7$, 表示把()平均分成()份, 每份是()。

2. 被除数和除数都是8, 商是(), 算式是()。

3. 64 里面有()个8, ()里面有3个9。

4. $72 \div 9 = ()$, 口诀是(), 与它口诀相同的另一道
除法算式是()。

5 . 飞 行 表 演 (如 右 图) 。



一共有()架飞机, 列式是(); 每6架飞机一组,
可分成()组, 列式是()。

6. ()里最大能填几?

() $\times 4 < 32$ $9 \times () < 63$ $36 \div 4 > ()$

$54 \div 9 > ()$ $7 \times () < 36$ $72 \div 8 > ()$

7.在○里填上“>”“<”或“=”。

$40 \div 5$ ○ $28 \div 7$ $18 \div 9$ ○ $12 \div 3$ $42 - 7$ ○ $42 + 7$

$36 \div 4$ ○ $35 \div 7$ $48 \div 6$ ○ $63 \div 7$ $50 - 15$ ○ 5×7

二、判断。(每题1分,共5分)

1.72块糖装在9个盒子里,每个盒子一定装8块。 ()

2.计算 3×9 和 $27 \div 3$ 时是用同一句口诀。 ()

3. $54 \div 6 = 9$ 和 $54 \div 9 = 6$ 表示的意义是一样的。 ()

4.在除法算式中,被除数是最大的。 ()

5.40里面有5个8,也有8个5。 ()

三、选一选。(每题1分,共5分)

1.下列算式中,商最大的算式是()。

- ① $16 \div 2$ ② $30 \div 5$ ③ $81 \div 9$

2.得数不是9的算式是()。

- ① 9×1 ② $9 + 1$ ③ $9 \div 1$

3.根据“九九八十一”这句口诀可以写()道除法算式。

- ① 2 ② 4 ③ 1

4.被除数和除数都是9的除法算式是()。

① $9 \div 3 = 3$ ② $36 \div 9 = 4$ ③ $9 \div 9 = 1$

5.32个苹果平均分给()个小朋友，刚好可以分完。

①8 ②5 ③6

四、算一算。(1题12分，2题5分，3题8分，共25分)

1.看谁算得对又快。


$72 \div 8 =$ $6 \times 8 =$ $45 - 5 =$ $64 + 8 =$



$56 \div 7 =$ $54 \div 6 =$ $70 - 15 =$ $7 + 5 =$

$48 - 8 =$ $63 \div 7 =$ $8 \times 2 =$ $49 \div 7 =$


2.  遮住的数是几？


$7 \times$  $= 28$


 $\div 9 = 9$

 \div  $= 7$

$45 \div$  $= 9$

3.在  里填上“+”“-”“ \times ”或“ \div ”。


27  $3 = 24$

$42 = 6$  7


8  $8 = 1$

40  $5 = 45$

27  $9 = 3$

$36 = 6$  6

56  $7 = 8$

4  $8 = 12$

五、写出4道除数是8的除法算式。(4分)

六、一道除法算式，除数是 9，小马虎把被除数的十位数字和个位数字看颠倒了，结果商是 3。正确的商是多少？(4 分)

七、解决问题。(1、4 题每题 6 分，5 题 9 分，其余每题 5 分，共 31 分)

1.工蚁搬麦粒，共有 36 只工蚁。

(1)如果要搬 4 颗麦粒，那么平均几只工蚁搬一颗？

(2)如果蚁王想让 6 只工蚁搬一颗麦粒，那么可以搬几颗麦粒？

2.(变式题)国庆节，超市开展了促销活动。瓜子现在每袋多少元？现在每袋比原来便宜多少元？



瓜子原来 10 元一袋，
现在优惠啦！4 袋
36 元。



3.聪聪和他的 6 个同学去看电影，买电影票一共花了 42 元，每张票花了多少元？

4.某校举行拔河比赛，每队有 8 名同学参加。第一名的奖品是 24 支笔，第二名的奖品是 16 支笔。

(1)获第一名的每名队员奖几支笔？

(2)获第二名的每名队员奖几支笔？

5.逛超市。



6元



? 元



? 元



36元

(1)买一件上衣的钱可以买8条围巾，一件上衣多少钱？

(2)买一双鞋的钱可以买9支牙膏，一支牙膏多少钱？

(3)你还能提出其他用乘法或除法解决的问题并解答吗？

答案

一、1.42 6 7 2.1 $8 \div 8 = 1$ 3.8 27

4.8 八九七十二 $72 \div 8 = 9$

5.36 $4 \times 9 = 36$ (或 $9 \times 4 = 36$) 6 $36 \div 6 = 6$

6.7 6 8 5 5 8 7.> < < > < =

二、1. \times 2. $\sqrt{\quad}$ 3. \times 4. \times 5. $\sqrt{\quad}$

三、1.③ 2.② 3.③ 4.③ 5.①

四、1.9 48 40 72 8 9 55 12 40 9 16 7

2.4 81 14 2 5(第3个算式答案不唯一)

3. - \times \div + \div \times \div +

五、 $16 \div 8 = 2$ $24 \div 8 = 3$ $32 \div 8 = 4$ $40 \div 8 = 5$ (答案不唯一)

易错点拨：想8的乘法口诀。

六、正确的商是8。 易错点拨：错误算式： $27 \div 9 = 3$ ，被除数的十位数字和个位数字颠倒了，因此正确的被除数是72，正确算式是 $72 \div 9 = 8$ 。

七、1.(1) $36 \div 4 = 9$ (只) (2) $36 \div 6 = 6$ (颗)

2. $36 \div 4 = 9$ (元) $10 - 9 = 1$ (元)

3. $6 + 1 = 7$ (张) $42 \div 7 = 6$ (元)

4. (1) $24 \div 8 = 3$ (支) (2) $16 \div 8 = 2$ (支)

5. (1) $6 \times 8 = 48$ (元) (2) $36 \div 9 = 4$ (元)

(3)(答案不唯一)买一双鞋的钱能买几条围巾？ $36 \div 6 = 6$ (条)