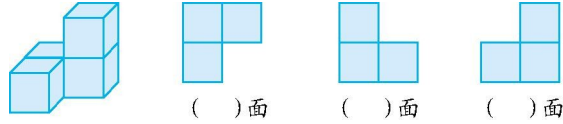


第二单元检测(1)

一、填空题。

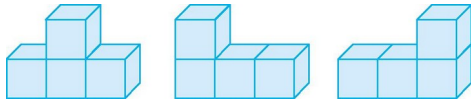
1.  从()面看到 , 从()面看到 , 从()面看到 .

2. 下面各图形分别是从前、上、左面哪个面观察物体得到的?填一填。

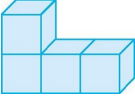


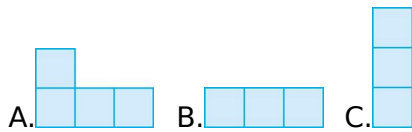
二、选择题。(把正确答案的序号填在括号里)

1. 下面三个立体图形从()看到的形状不同。

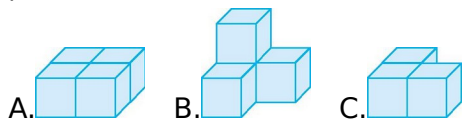


A. 前面 B. 上面 C. 左面


2.  是由 4 个小正方体拼成的, 从上面看到的是()。



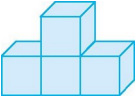
3. 一个物体从前面和左面看, 看到的都是 , 从上面看到的是 , 这个物体的形状是()。



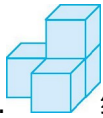
三、涂色题。

1.  给从前面看到的图形涂上颜色。

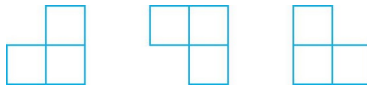


2.  给从前面看到的图形涂上颜色。

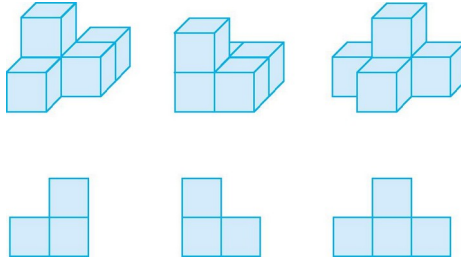




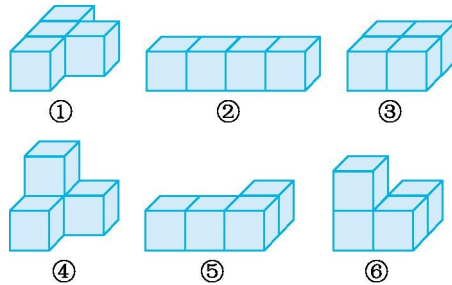
3. 给从上面看到的图形涂上颜色。








四、下面的立体图形从左面看到的分别是什么形状?连一连。



五、看一看,填一填。






1. 从左面看,看到的形状是  的是(),看到的形状是  的是(),看到的形状是  的有()。

2. 从上面看,看到的形状是  的是(),看到的形状是  的是()。




3. 从前面看,形状是  的有()。

六、红红、亮亮、聪聪分别用 4 块小正方体拼搭立体图形,下面是他们从立体图形的前面、上面和左面观察到的图形。






红红:前面是  ,左面是  ,上面是  。

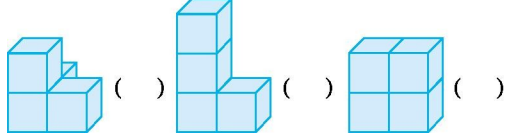


亮亮:前面是  ,左面是  ,上面是  。



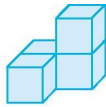
聪聪：前面是 ，左面是 ，上面是 .

下面分别是谁拼搭的立体图形？请在后面括号里填上他的名字。



七、看一看，画一画。下面的物体从前面、上面、左面看到的形状分别是什么？在方格纸上画出来。


1.



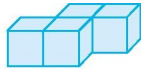
前面

上面

左面




2.




前面


上面

左面



八、用 4 个同样大小的正方体按下面的要求摆一摆。

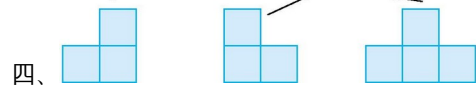
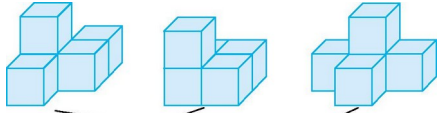
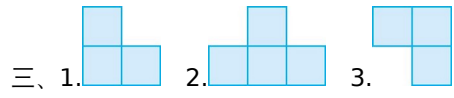
1. 从上面看到的是 .

2. 从上面看到的是 .

参考答案

一、1.上 左 前 2.上 左 前

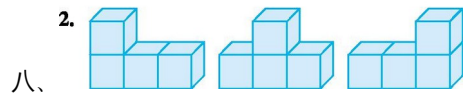
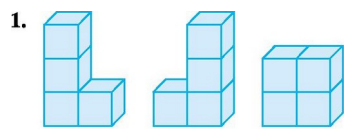
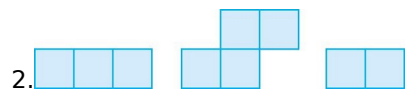
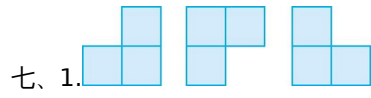
二、1.A 2.B 3.C



四、

五、1.④ ⑥ ③⑤ 2.⑤ ④ 3.①③

六、聪聪 亮亮 红红



八、