

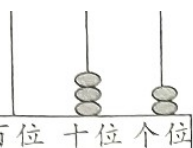
2022年人教版小学一年级数学下学期期末测试卷

时间:60分钟

满分:100分


班级: _____ 姓名: _____

一、填空。(除2题外,其余每空1分,共27分)



1. 左图表示的数写作 () , 读作 () , 里面有 () 个十和 () 个一。

2. 按顺序填一填。(3分)



3. 一个数, 个位上是7, 十位上是6, 这个数是 () 。

4. 华华做了13朵红花, 东东做了9朵。东东至少还要做 () 朵, 才能超过华华。

5. 强强把小棒每10根捆成一捆, 一共捆了5捆, 还余下2根, 强强一共有 () 根小棒。

6. 一张100元可以换 () 张10元, () 张1元。

7. 50角 = () 元 6角 = () 分

37角 = () 元 () 角 1元 - 6角 = () 角

8. 50比65少 () , 56比8多 () 。

9.在○里填上“>”“<”或“=”。

$39-4 \bigcirc 35$



$81+7 \bigcirc 87$

$8 \text{元} 9 \text{角} \bigcirc 9 \text{元}$


$32 \bigcirc 35+20$


$4+38 \bigcirc 78$


$32 \text{角} \bigcirc 4 \text{元}$


10.  买这辆汽车，付的都是 ，至少要付（ ）张，还余（ ）元。

二、判断。（对的画“√”，错的画“×”）（4分）

1.  “44”这个数中的两个4都表示4个十。
()

2.  读数 and 写数都从高位起。
()

3.  用4个小□可以拼成一个大的正方形。
()

4.  有50个学生，6个老师。每人一个面包，55个面包就够了。
()


三、选一选。（填序号）（10分）

1.在32、35、29、28、31、30、40这些数中，大于30的数有（ ）。

①32、35、31、30、40

②29、28

③32、35、31、40

2.  单价：3.50元，表示这个物品的价钱是（ ）。

①3角5分

②3元5角

③35元

3.下列各数按从大到小的顺序排列正确的是（ ）。

①28>25>8>15

②8>15>25>28

③28>25>15>8

4.下图中有规律的排列是 ()。



5.下面图形 () 与 () 可以拼成



四、计算。(16分)

$20+50=$

$45+9=$

$6+9=$

$17-9=$

$12-3=$

$24+7=$

$69-30=$

$15-4=$

$34+8=$

$80-3=$

$25+40=$

$13-8=$

$19-7-5=$

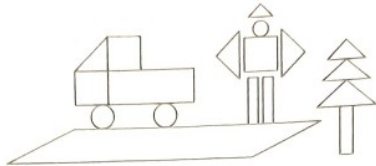
$90-70+50=$

$14-(6+3)=$

$27+(45-$

$5)=$

五、数一数，填一填。(10分)




1.数一数，上图中每种图形各有多少个？填到下面表格里。(5分)

个数					


2.上面的五种图形一共有 () 个。() 形的数量最多。(2分)

3.长方形比三角形少 () 个，正方形比平行四边形多 () 个。

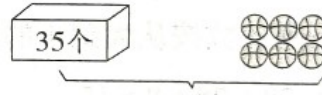
(2分)

4. 文文摆了5个  , 一共用了 () 个圆。(1分)

六、看图列式计算。(6分)



1. $\square \bigcirc \square = \square$ ()



2. $\square \bigcirc \square = \square$ ()

七、解决问题。(25分)



我擦了12张课桌。

小青

我擦了8张课桌和6块玻璃。



小强

1.(6分)


(1) 小青和小强一共擦了多少张课桌?

$\square \bigcirc \square = \square$ ()

(2) 小强比小青少擦了多少张课桌?

$\square \bigcirc \square = \square$ ()

2. 停车场原来有43辆车。(4分)



$\square \bigcirc \square \bigcirc \square = \square$ ()

3. 小小商店。(6分)



42元



52元



12元



10元

(1)  比  贵多少钱？

$$\square \bigcirc \square = \square (\quad)$$

(2) 小红买了一件商品，付了 50 元，找回 8 元，她买的是哪一件？先算

一算，然后在图上把这件商品圈出来。

$$\square \bigcirc \square = \square (\quad)$$

4. 学校三个兴趣小组的人数如下。(9分)

合唱队	美术组	舞蹈队
35 人	9 人	40 人

(1) 舞蹈队比美术组多多少人？

$$\square \bigcirc \square = \square (\quad)$$

(2) 周末舞蹈队集体训练。现在还有 20 人没来，其中有 8 名男生。那么已经来了多少人？

(3) 请你再提出一个问题并解答。

参考答案

一、1. 32 三十二 3 2

2. 70 69 66 45 50 55

3. 67 4.5 5.52 6.10 100

7.5 60 3 7 4 8.15 48

9. = > < < < 10.6 8

二、1. × 2. √ 3. √ 4. ×

三、1. ③ 2. ② 3. ③ 4. ③ 5. ②③

四、70 54 15 8 9 31 39 11 42 77 65 5 7 70 5 67

五、1. 4 3 3 7 1 2.18 三角 3.3 2 4.10

六、1. $23-6=17$ (个) 2. $35+6=41$ (个)

七、1.(1) $12+8=20$ (张)

2. 18 (2) $12-8=4$ (张)

3. 32. $43-20+6=29$ (辆)

3.(1) $52-10=42$ (元)

(2)圈第一个物品 $50-8=42$ (元)

4.(1) $40-9=31$ (人)

(2) $40-20=20$ (人)

(3)美术组比合唱队少多少人？

$35-9=26$ (人) (答案不唯一)