

一年级第二学期数学期末测试卷(二)

一、我会填。(每空 1 分,共 22 分)

1. ()个十和()个一组成 78, 8 个十和()个十合起来是一百。

2. 66 是()位数,左边的 6 表示()个()。

3. 25 连续加 8, 写出每次的和。

25 33 () () ()

4. 8 元 = ()角 99 角 = ()元()角

6 角 = ()分

5. 把  折成一个正方体,  的对面是()。

6. 把 9 角、50 元、9 元、1 元、50 角按从大到小的顺序排列是:

() > () > () > () > ()

7. 在 5、47、100 和 59 中, 和 50 最接近的是(), ()比 50 小得多, ()比 50 大得多。

二、我会辨。(每题 1 分,共 5 分)

1. 最大的两位数比最小的三位数少 1。 ()

2. 26 比 62 少得多, 54 比 50 多一些。 ()

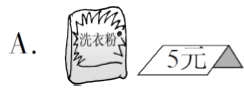
3. 减数一定比被减数小。 ()

4. 一个一个地数, 从 43 数到 50, 一共数了 7 个数。 ()

5. 一张  可以换 4 张 。 ()

三、我会选。(每题 1 分,共 5 分)

1. 下面的物品中, ()最贵。



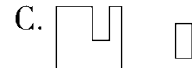
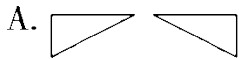
2. 46 50 54 58 66 70, 里应填()。

A. 60

B. 62

C. 64

3. 下面的图形能拼成正方形的是()。



4. 用3个能摆()个不同的数。

A. 3

B. 4

C. 5

5. 下面各数中, 与90最接近的是()。

A. 86

B. 89

C. 92

四、我会算。(1题12分, 2题9分, 共21分)

1. 口算。

$40 + 30 =$

$26 + 50 =$

$58 - 8 + 45 =$

$85 - 50 =$

$98 - 6 =$

$34 + (19 - 9) =$

$41 - 7 =$

$5 + 60 =$

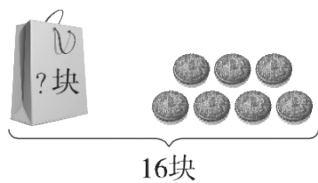
$80 - (46 - 6) =$

$53 - 9 =$

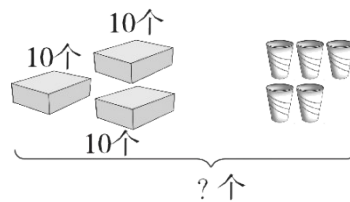
$92 + 8 =$

$57 + 8 - 6 =$

2. 看图列式计算。







$\square \bigcirc \square = \square \quad (\quad)$



$\square \bigcirc \square = \square \quad (\quad)$

五、填一填。(8分)

				
原有	42 辆	() 艘	65 架	() 只
卖出	20 辆	45 艘	() 架	25 只
剩下	() 辆	8 艘	10 架	20 只

六、解决问题。(2题 12分，其余每题 5分，共 27分)

1. 兰兰和她的两个好朋友一起去植物园，门票 6 元一张。她们买门票要花多少钱？

2.



(1) 小明和小刚一共买了多少瓶？

(2) 小芳比小明少买了多少瓶？

(1) 再提一个数学问题并解答。

3. 学校体育室有 26 个足球和 18 个篮球，分给二年级 9 个足球。体育室还有多少个足球？

答案

一、1. 7 8 2 2. 两 6 十

3. 41 49 57 4. 80 9 9 60

5. ○ 6. 50元 9元 50角 1元 9角

7. 47 5 100

二、1. √ 2. √ 3. ×

4. × [点拨]一共数了8个数。

5. √

三、1. B 2. B 3. C 4. B 5. B

四、1. 70 76 95 35 92 44 34 65 40 44

100 59

2. $16 - 7 = 9$ (块) $30 + 5 = 35$ (个)

五、22 53 55 45

六、1. $6 + 6 + 6 = 18$ (元)

2. (1) $21 + 13 = 34$ (瓶)

(2) $13 - 9 = 4$ (瓶)

(3) 小明比小刚少多少瓶？

$21 - 13 = 8(\text{瓶})$ (答案不唯一)

3. $26 - 9 = 17(\text{个})$

4. $45 - 20 = 25(\text{块})$

七、1. 涂一涂略 4 4 4 4 3 1 1 5

2.

	平面图形	立体图形
个数	16	10

(答案不唯一)

3. 正方形和长方形一共有几个?

$4 + 4 = 8(\text{个})$ (答案不唯一)