

期末检测卷

一、快乐算一算。(12分)

$5 + 32 =$

$24 - 8 =$

$41 + 6 =$

$13 - 5 =$

$30 + 70 =$

$96 - 6 =$

$74 - 70 =$

$25 + 5 - 8 =$

$9 + 6 - 8 =$

$18 - 3 - 9 =$

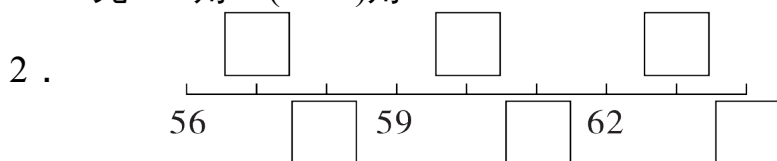
$45 - (12 + 8) =$

$60 - (12 - 7) =$

二、细心填一填。(每空1分，共32分)


1. 12角 = ()元()角

1元 - 6角 = ()角





与59相邻的两个数是()和()。这些数中，最大的数是()，
这个最大的数是由()个十和()个一组成的。

3. 一个两位数的个位上是7，十位上是4，这个数是()，读作()。

4. 在  中，有()个三角形。

5. 25连续减3，写出每次减得的差：25、()、()、()。

6. 用  做成一个  ，字母F的对面是()，字母C的对面是()。

7. 按规律填。

(1) 99、88、77、()、()、()。

(2) ○ ● ○ ○ ● ○ ○ ○ ● _____ (每空填一个)

8. 在○里填上“>”“<”或“=”。


$43 - 9$ ○ 337 元 8 分 ○ 78 角

$56 + 8$ ○ 706 元 - 4 角 ○ 5 元 4 角

三、聪明选一选。(把正确答案的字母填在括号里)(每题 2 分，共 8 分)

1. 一瓶果汁卖 4()。

A. 分 B. 角 C. 元

2. 用 4 个  不能拼成()。

A. 正方形 B. 长方形 C. 圆

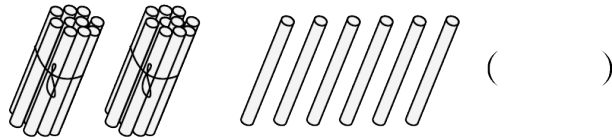
3. 2 张 1 元，2 张 5 角，5 张 1 角的人民币一共是()。

A. 3 元 B. 3 元 5 角 C. 10 元

4. 16 比 70()。

A. 小一些 B. 小得多 C. 大得多

四、填数。(5 分)

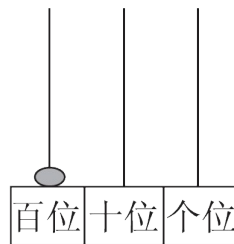
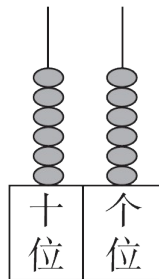


()

最大的两位数
与最小的
两位数的差。

比100小
40的数。

() ()



() ()

五、趣味百数表。(1, 2题每题2分, 3题6分, 共10分)

1	2	3	4	5	6	7	8	9	10
11	12	13				17	18	19	20
21							28	29	30
31								39	40
41								49	50
51							58	59	60
61							68	69	70
71						77	78	79	80
81	82	83	84	85	86	87	88	89	90
91	92	93	94	95	96	97	98	99	100

1. “87”左边的数是()。

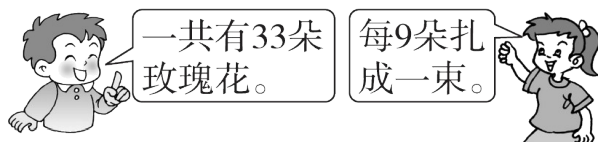
2. 一共有()个两位数。

3. 请根据百数表的顺序填写空格里的数。

56	

六、解决问题。(4题9分,5题12分,其余每题4分,共33分)

1.




最多可以扎成多少束?

2. 丽丽有多少张邮票?



3.



2头大象运走一部分木头后还剩下多少根木头?(请用两种方法解答)

4. 逛超市。



32元



20元



8元







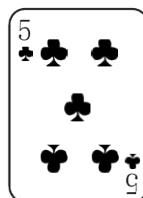



10元

(1) 一个书包比一个足球贵多少元？

(2) 红红买了一个布娃娃，付了 20 元钱，应找回多少元？

(3) 用 50 元钱正好能买哪三样物品？

5. 分类整理。



(1) 按大小分，在下面涂一涂、填一填。

<input type="radio"/>	<input type="radio"/>	<input type="radio"/>
<input type="radio"/>	<input type="radio"/>	<input type="radio"/>
<input type="radio"/>	<input type="radio"/>	<input type="radio"/>
5	6	9

(2)还可以怎样分类，分一分。

(3)花色是梅花的牌上面数字的和是多少？

答案

一、37 16 47 8 100 90 4 22 7 6 25 55

二、1. 1 2 4

2. 57 58 60 61 63 64 60 58 64 6 4

3. 47 四十七

4. 5

5. 22 19 16

6. E A

7. (1)66 55 44 (2)○ ○ ○

8. > < < >

三、1. C 2. C 3. B 4. B

四、26 89 60 66 100

五、1. 86

2. 90

3.

46	47
56	57

 .

六、1. 33——→ 24——→ 15——→ 6最多可以扎成3束。

2. $50 + 35 - 9 = 76$ (张)

3. $90 - 30 - 40 = 20$ (根)或 $90 - (30 + 40) = 20$ (根)

4. (1) $32 - 20 = 12$ (元) (2) $20 - 8 = 12$ (元)

(3) $32 + 8 = 40$ (元) $40 + 10 = 50$ (元)

能买书包、布娃娃、日记本。

5 . (1)略

(2)

花色	桃心	梅花	方块
数量	3 张	3 张	2 张

(3) $9 + 5 + 6 = 20$