

3.解方程。(8分)

$x + \text{Error: Reference source not found} = \text{Error: Reference source not found}$


$x + \text{Error: Reference source not found} = \text{Error: Reference source not found}$

五、动手画一画,算一算。(16分)

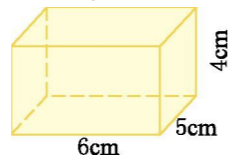
1.用直线上的点表示下面各数。(4分)

$\text{Error: Reference source not found}$ $\text{Error: Reference source not found}$

0.8 3 $\text{Error: Reference source not found}$



2.计算下面长方体的表面积和体积。(8分)



3.先画出图A绕点O按顺时针方向旋转90°得到的图形后,再画出图A向右平移5格后的图形。(4分)



六、解决问题。(30分)

1.做一个长、宽、高分别是10厘米、8厘米、5厘米的长方体框架,至少需要多少厘米的木条?(6分)

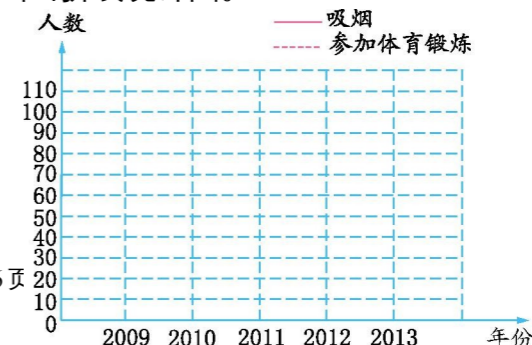
2.一个房间长5米,宽4米,高2.8米。如果在房间的四壁上贴墙纸,除去门窗5平方米,已知每平方米墙纸25元,贴完共需多少元的墙纸?(7分)

3.从学校步行到图书馆,笑笑用了45分钟,淘气比笑笑少用 $\text{Error: Reference source not found}$ 小时,小明比淘气多用了 $\text{Error: Reference source not found}$ 小时。小明用了多少小时到达图书馆?(7分)

4.下面是幸福社区居民在近几年吸烟人数和参加体育锻炼人数的统计表。(10分)

人数内容年份	2009	2010	2011	2012	2013
吸烟	99	92	75	51	20
参加体育锻炼	15	30	40	91	98

(1)请根据表中的数据,画出折线统计图。



(2)吸烟和参加体育锻炼的人数呈现什么变化趋势?

(3)比较吸烟和参加体育锻炼的人数,你能得出什么结论?

参考答案

一、 1. 12 24 2. Error: Reference source not found 5 7 3. 8 9

4. Error: Reference source not found 12

5. 120 6. 2700 Error: Reference source not found 1050

500 7. 10 2

二、 1. × 2. □ 3. × 4. × 5. ×

三、 1. B 2. C 3. A 4. C 5. B

四、 1. Error: Reference source not found Error: Reference source not

found 0.02 4.95 Error: Reference source not found Error:

Reference source not found 1Error: Reference source not

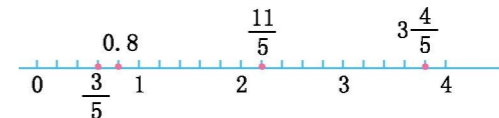
found 1Error: Reference source not found

2. 1Error: Reference source not found Error: Reference source not found 3 1

3. x=Error: Reference source not found x=Error:

Reference source not found

五、 1.



2. 148cm^2

120cm^3

3. 略

六、 1. $(10+8+5)\times 4=92$ (厘米)

2. $(5\times 2.8+4\times 2.8)\times 2-5=45.4$ (平方米)

$45.4\times 25=1135$ (元)

3. 45 分钟=Error: Reference source not found小时 Error: Reference source not found-Error: Reference source not found+Error: Reference source not found=Error: Reference



source not found(小时)

4. (1)提示:先描点再把各点按顺序连接。注意区分实线和虚线。

(2)吸烟人数呈下降趋势,锻炼的人数呈上升趋势。

(3)答案合理即可,如人们越来越重视健康。