

2 观察物体 (二)

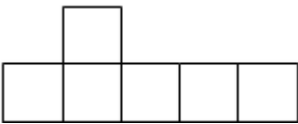
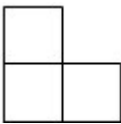
一、选择题

1. 如图, 这是由 5 个大小相同的小正方体摆成的立体图形, 从上面看的图是 ()



- A.  B.  C.  D. 

2. 有一个用正方体木块搭成的立体图形.

从前面看是:  从左面看是:  要搭成这样的立体图形, 至少要用 () 个正方体木块.

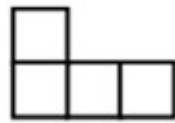
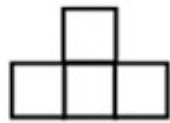
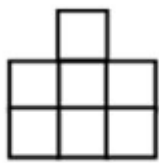
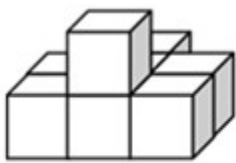
- A. 5 块 B. 6 块 C. 7 块

3. 5 个同样的正方体组合成一个图形, 无论从哪个位置观察都至少能看到 () 个正方形.

- A. 1 B. 2 C. 3

二、填空题

认真观察, 填一填, 找出从正面、上面、左面、右面看到的形状.



从 () 看 从 () 看 从 () 看 从 () 看

参考答案

一、选择题

- A B A C

二、填空题

上面 正面 右面 左面