

第3、4单元过关检测卷

一、填一填。(8题2分,其余每空1分,共27分)

1. 98里面有9个()和()个一,2个十和4个一组成()。

2. 6个十是(),()个十是100。

3. 计数器上,从右边起第一位是()位,第二位是()位,第三位是()位。

4. 和68相邻的两个数是()和()。

5. 最小的两位数是(),最大的两位数是()

6. 按规律填数。

37, 38, 39, (), (), (), ()。

27, 37, 47, (), (), (), ()。

7. 根据百数表,在空白的方框内填上合适的数。

26	

8. 把37, 49, 91, 72, 84, 11按从小到大的顺序排列。

() < () < () < () < () < ()

9. 填序号。

3. 与56个位相同的数是()。

A. 59

B. 60

C. 76


4. 用3个 \triangle 可以摆出()个数。

A. 3

B. 2

C. 4

5. 与  不同类的是()。



四、我会算。(共21分)

1. 直接写出得数。(8分)

$80 + 5 =$

$76 - 6 =$

$64 - 60 =$


$8 + 70 =$


$49 - 9 =$


$83 - 3 =$


$95 - 90 =$


$9 + 9 =$

2. 在  里填上“>”“<”或“=”。(8分)


$40 + 8$  49


$30 + 7$  20

78  87

$75 - 5$  70

3. 在  里填上合适的数。(5分)


 $+ 8 = 78$

$63 -$  $= 60$

$$\text{Apple} - 40 = 6$$

$$\text{Apple} + \text{Apple} = 72$$

五、快乐的课外活动。(共8分)




1. 按活动项目分一分、涂一涂。(4分)

打乒乓球 踢毽子 打羽毛球 跳绳

2. 如果把这些同学分成两组，可以怎样分？填一填。(4分)

六、故事书可能有多少本？在合适的答案下面画“√”。(5分)



99本	40本	87本

七、解决问题。(共24分)



我已经背了9个单词，
还剩40个。

1. (5分) 欢欢

欢欢一共要背多少个单词？

$$\square \bigcirc \square = \square \quad (\quad)$$

2. (8分)

我最后一个球
扔进了10分。

我投了50分。



红红



乐乐



(1)红红投了多少分？

$$\square \bigcirc \square = \square \quad (\quad)$$

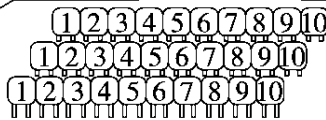
(2)乐乐比红红少投了几分？

$$\square \bigcirc \square = \square \quad (\quad)$$

3. (5分)

一共来了38位
家长。


只有30把
椅子。



还缺多少把椅子？

$$\square \bigcirc \square = \square (\quad)$$

4. 40 个贝壳，每 9 个贝壳穿一条手链，能穿多少条手链？(6 分)



答案

一、1.十 8 24

2.60 10

3.个 十 百

4.67 69

5.10 99

6.40 41 42 43

57 67 77 87

7.

26	27
36	37

8.11 < 37 < 49 < 72 < 84 < 91

9.①③⑤⑦⑨⑩ ⑪④⑥⑧ ⑫

二、1.× 2.√ 3.√ 4.× 5.√

三、1.A 2.C 3.C 4.C 5.B

四、1.85 70 4 78 40 80 5 18

2.< > < =

3.70 3 46 70 2

五、1.略

2.(答案不唯一)

	男生	女生
人数	7	8

六、87本

七、1. $40 + 9 = 49$ (个)

2.(1) $50 + 4 = 54$ (分)

(2) $54 - 50 = 4$ (分)

3. $38 - 30 = 8$ (把)

4.4条