




## 第六单元检测卷 2

### 一、我会填。

1. 闰年的 2 月有( )天,全年有( )天。

2. 按要求填日期。

3. 张玲

		
后一天是( )月 每天坚( )日	前一天是( )月 ( )日	后一天是( )月 ( )日

持写 7 个毛笔字,2016 年 7 月她一共可以写( )个毛笔字。

4. 晚上 8:30 用 24 计时法表示是( ),14:20 用普通计时法表示是( )。

5. 小祥晚上 8:30 睡觉,第二天早晨 6:30 起床,小祥睡了( )小时。

6. 一种酸奶的保质期是 21 天,生产日期是 2016 年 6 月 12 日,2016 年 7 月 2 日这种酸奶( )喝。(填“能”或“不能”)

### 二、我会判断。

1. 一天有 12 个小时。 ( )

2. 刘爷爷出生于 2 月 30 日。 ( )

3. 2016 年 2 月 28 日是星期日,3 月 2 日是星期二。 ( )

4.2004 年的 1 月、2 月、3 月共 91 天。 ( )

5.根据每年 2 月份的天数可以判断这一年是平年还是闰年。 ( )

### 三、我会选择。

1.下列年份中不是闰年的是( )。

A.2000

B.2008

C.1902

2.下列节日所在的月份是大月的是( )。

A.清明节

B.教师节

C.劳动节

3.一部电影从下午 4:25 开始播放,共播 1 小时 30 分,电影到( )

结束。

A.5:55

B.16:55

C.17:55

4.下面说法错误的是( )。

A.2014 年全年有 365 天

B.平年和闰年只有 2 月份的天数不一样

C.公历年份是 4 的倍数的一定是闰年

5.钟表上的时针从凌晨 1 时到凌晨 2 时,分针走了( )圈。

A.1

B.12

C.13

### 四、解决问题。

1.气象小组每隔 3 小时记录一次气温情况,第四次记录时正好是下午 5 时。请用 24 时计时法填写每次记录的时间。

次序	第一次	第二次	第三次	第四次
时间				

2.小云读一本 88 页的故事书,每天读 8 页,从 8 月 18 日开始读,她能在 9 月 1 日开学前读完这本书吗?

3.王师傅上午 8 时上班,中午休息 1 小时 30 分,下午 5 时 30 分下班。他每天工作多长时间?

4.下面是某个电视台星期五的电视节目播出时间。

时间	18:00	18:30	19:00	19:45	20:10	22:00
节目	《动画城》	《养生》	《新闻联播》	《卡通城堡》	《电视剧场》	《快乐购》

(1)《动画城》播出多长时间?明明下午 5:45 分到家,能从头看到《动画城》这个节目吗?

(2)明明 19:20 吃完晚饭就开始做作业。写作业用了 50 分,他能从头看到《卡通城堡》这个节目吗?

(3)妈妈看完《电视剧场》用了多长时间?

参考答案：

一、1.29 366

2.2 29 2 28 10 1

3.217

4.20:30 下午 2:20

5.10

6.能

二、1.×

2.×

3.×

4.√

5.√

三、1.C

2.C

3.C

4.C

5.A

四、1.8:00 11:00 14:00 17:00

$2.88 \div 8 = 11$ (天)

8月18日+11日-1日=8月28日

答:她能在9月1日开学前读完这本书。

$3.17\text{时}30\text{分} - 1\text{小时}30\text{分} - 8\text{时} = 8$ (时)

答:他每天工作8小时。

4.(1) $18:30 - 18:00 = 30$ (分) 17:45比18:00早

答:《动画城》播出30分钟,明明能从头看到《动画城》这个节目。

(2) $19:20 + 50\text{分} = 20:10$   $20:10 > 19:45$

答:他不能从头看到《卡通城堡》这个节目。

(3) $21:00 - 20:10 = 50$ (分)

$22:00 - 21:00 = 1$ (时)

1小时+50分=1小时50分

答:妈妈看完《电视剧场》用了1小时50分。